

新北市立永和國民中學 107 學年度第一學期第一次段考八年級社會科題目卷

【地理科】第三冊第一～二課 配分：1-14 題每題 2 分，15-20 題每題 1 分，共 34 分

- ◎ 見右圖，一帶一路是「絲綢之路經濟帶」和「21 世紀海上絲綢之路」兩者的合稱，是由中國最高領導人習近平於 2013 年提出的跨國經濟發展合作計畫，目的在建立中國與中亞、歐洲等區域的貿易運輸新聯結，請看圖回答 1~2 題：(L.1)

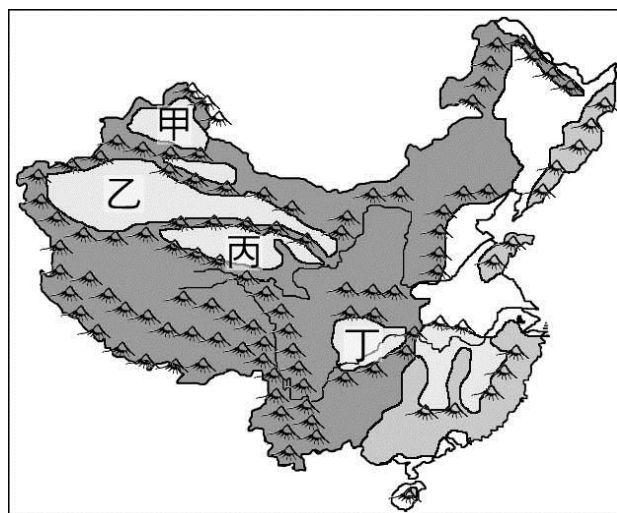
- 中國所提出的「一帶一路」跨國經濟發展合作計畫是根基於中國疆域具有何項優越的地理條件所致？
(A)面積廣大，幅員完整 (B)居中緯度，氣候溫和
(C)居東半球，鄰國眾多 (D)面海背陸，能海能陸
- 中國提出的「一帶：絲綢之路經濟帶」，和古代促進東西貿易的絲路路線相似，同為促進歐亞貿易往來。請問此路線由哪個行政區「進入中亞、接軌歐洲」？



- (A)新疆維吾爾自治區 (B)內蒙古自治區
(C)寧夏回族自治區 (D)西藏自治區

- ◎ 中國地形複雜，每種地形都會因為位置或是營力不同而有不同的地理面貌。右圖是中國四大盆地位置圖，請根據此圖回答下列3-5題：(L.2)

- 某盆地地勢封閉，受河川影響盆底呈現高低起伏，以前必須經由棧道出入，因此自古以來就有「蜀道難，難於上青天」說法，之後因為修築水利工程--都江堰而有「天府之國」稱呼，請問此盆地為圖中何處？



- (A)甲 (B)乙 (C)丙 (D)丁
- 地形會影響交通、人口分布，因此各地理區都有自己的交通方式和人口分布特色，請問下列關於「丙盆地」的敘述何者最正確？
(A)位於中國的第一級階梯 (B)因為冰河侵蝕地表崎嶇
(C)因開闢梯田而農業發達 (D)一片平坦遼闊草原地區
 - 某盆地廣大而平坦，而且因為距海遙遠雨量稀少，所以盆地中央有中國最大的塔克拉瑪干沙漠，盆地邊緣則有融雪形成人口聚集的綠洲，此盆地位於圖中何處？ (A)甲 (B)乙 (C)丙 (D)丁

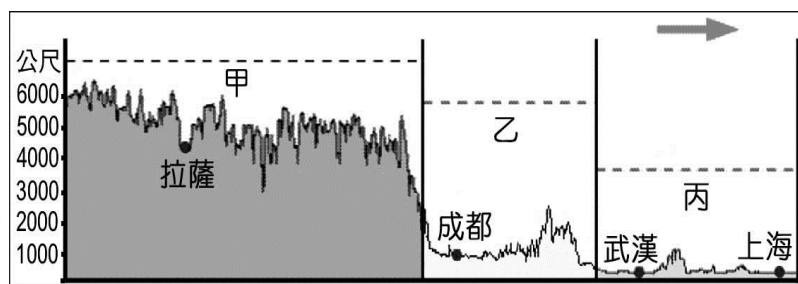
- 風傳媒報導：「中國在軍艦監護下，於甲海域進行填海造陸工程。菲律賓認為主權受損，於 2013 年向國際海洋法庭提出仲裁訴求，仲裁結果稱中國大陸在甲海域內主張的歷史權利沒有法律依據，而南沙群島的所有海上地物均為礁岩，包括太平島在內。仲裁庭更裁定中國在甲海域的建設行為對環境造成了不可挽回的損失，並要求中國政府停止在甲海域的活動。」請問下列對於此段報導的敘述何者正確？ (L.1)

- (甲)文中所指的甲海域為南海海域
(乙)此建設行為將會影響到越南、菲律賓、馬來西亞經濟海域的開發權益
(丙)文中所指的甲海域為東海海域
(丁)此國際仲裁案對於台灣主權沒有任何影響

- (A)甲乙 (B)甲丁 (C)乙丙 (D)丙丁

- ◎ 右圖是中國某緯線的地形剖面圖，請根據此圖回答下列7-8題：(L.2)

- 甲高原位於中國的第一級階梯，第一級階梯平均高度都在四千公尺以上，造成交通困擾、人煙稀少，在第一級階梯還可以看到下列哪個地形區？



- (A)準噶爾盆地 (B)青海湖盆地
(C)珠江三角洲 (D)內蒙古高原

- 圖中箭頭指的方向為東方，由此圖可以看出中國地勢西高東低，下列哪一個敘述和此最無關係？

- (A)海洋水氣可以由地勢低東邊向西吹入內陸 (B)多數的河流多由西向東流入海洋
(C)中國面積大地形複雜，以山地比例為最高 (D)階梯之間落差大有豐富水力資源

- 中國有一萬多公里海岸線，但因為海岸性質差異所以當地居民也有不同生活方式，而右圖是中國海岸性質的分類，下列哪一種產業活動最適合在乙海岸從事？ (L.2)

- (A)漁業 (B)礦業 (C)航運 (D)曬鹽



◎ 右圖為中國行政區簡圖，請回答 10~11 題： (L.1)

10. 中國把政治或經濟具有特殊地位的城市設為直轄市，下列關於「辛」市的敘述何者正確？

- (甲)辛為北京市 (乙)辛為上海市
(丙)海河流經此處 (丁)長江流經此處
(A)甲丙 (B)甲丁 (C)乙丙 (D)乙丁

11. 「廣西龍勝梯田」日前通過聯合國糧農組織評審，被認定為全球重要農業文化遺產。龍勝梯田位於廣西壯族自治區，規模宏大、氣勢磅礴，線條如行雲流水、瀟灑流暢，堪稱天下一絕，每年吸引眾多中外遊客前來觀賞。請問廣西壯族自治區位於右圖中何處？

- (A)甲 (B)乙 (C)丙 (D)己

12. 當青藏高原還是星月交輝的黑夜時，長白山腳已經撒下了陽光；當海南島春意盎然、柳綠花紅時，黑龍江省還是漫天飛雪、山寒水冷。請問：上述中國自然環境的特色，主要和下列哪一個原因最相關？ (L.1)

- (A)面對海洋，受海洋影響 (B)地形複雜，高度差異大
(C)西高東低，呈三級階梯 (D)跨越的經、緯度範圍大

13. 「世界自然保育基金會警告，因為溫室效應增強使喜馬拉雅山的雪線每年以 10 到 15 公尺的速度後退。短期內可能會引起『周圍國家』的河流氾濫，造成水災。長期而言這些河流水位將會下降，引發乾旱威脅當地人民的生活。」請問：下列哪些是文中所指的「周圍國家」？(L.1)

- (甲)中國 (乙)尼泊爾 (丙)越南 (丁)北韓 (戊)印度
(A)甲乙丙 (B)甲乙丁 (C)甲乙戊 (D)甲丙戊

14. 下表為中國某一省級行政區基本資料，請問對於此行政區的敘述何者正確？(L.1)

- (A)位居黃河出海口 (B)屬於地勢第一級階梯 (C)位於東部經濟帶 (D)曾被葡萄牙殖民

面積(平方公里)	人口(萬人)	人口密度(人/平方公里)	主要語言
2755	744.8	6777	粵語、英語

15. 中國的山脈走向是因為板塊擠壓方向不同而呈現空間差異，因此東半部和西半部山脈走向不相同，像是位於歐亞板塊和印澳板塊接觸地，也是中國與印度的天然國界是下列哪一座山脈，其走向為何？ (L.2)

- (A)東北-西南走向：長白山 (B)東-西走向：喜馬拉雅山
(C)東北-西南走向：大興安嶺 (D)東-西走向：阿爾泰山

◎ 右圖甲乙丙丁是中國四大平原，ABCD為中國四大高原，請根據此圖回答下列16-18題： (L.2)

16. 甲乙丙丁為中國四大平原，這四大平原在位置與自然條件上有何共同之處？

- (A)位於中國地形第一階梯 (B)皆由河流侵蝕作用造成地形
(C)京杭大運河貫通四平原 (D)農業發達是人口稠密精華區

17. 中國各地形區會因為不同營力有不同景觀，下面高原和特色配對何者正確？

- (A) A：東側降水較多，為一片平坦、遼闊的草原
(B) B：土質疏鬆，易受風蝕影響形成溝壑的景觀
(C) C：冰積而平坦遼闊，因高度有世界屋脊之稱
(D) D：河流堆積成石灰岩地形，地形平坦宜農耕

18. 中國四大平原有不同的特色，其中有一平原發展最早，不論是夏朝、商朝或是西周，甚至是春秋戰國時期都是在此發展，這是指下列哪一地區？

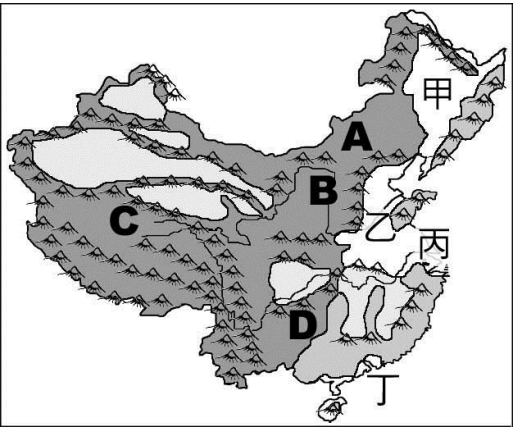
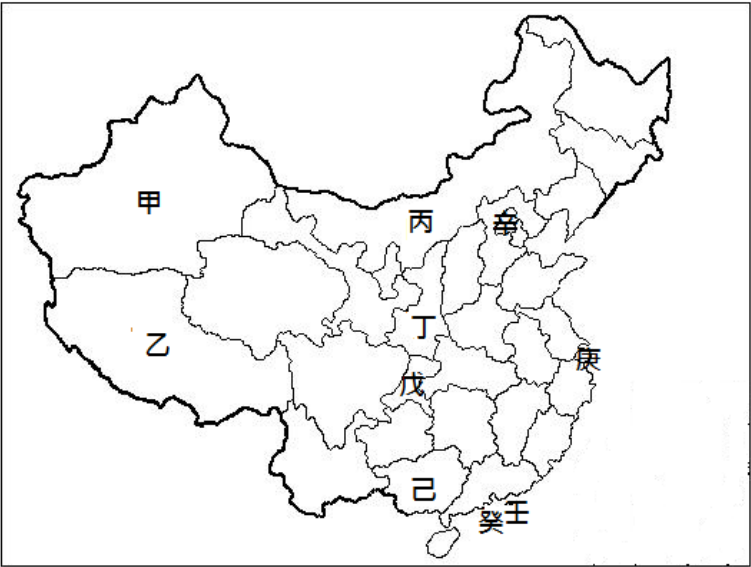
- (A)甲 (B)乙 (C)丙 (D)丁

19. 住在烏魯木齊的那吾，與住在北京的湯豪，經常利用網路線上討論功課，關於他們兩個人的位置和時間關係，下列敘述何者完全正確？ (L.1)

- (A)手錶時間不同，那吾較早見到日出 (B)手錶時間不同，湯豪較早見到日出
(C)手錶時間相同，湯豪較早見到日出 (D)手錶時間相同，那吾較早見到日出

20. 幾位同學在段考前一同整理段考重點，每個人分別說述說對於中國的認識，請問下列何者的敘述是正確的？(L.1)

- (甲)阿立：大多為溫帶地區，位於俄羅斯南方 (乙)阿泰：中國面海背陸，位於太平洋東側
(丙)小孟：中國地勢多變，是個多山的國家 (丁)小薇：中國面積廣大，僅次於俄羅斯、加拿大和美國
(A)甲乙丙 (B)甲乙丁 (C)甲丙丁 (D)乙丙丁



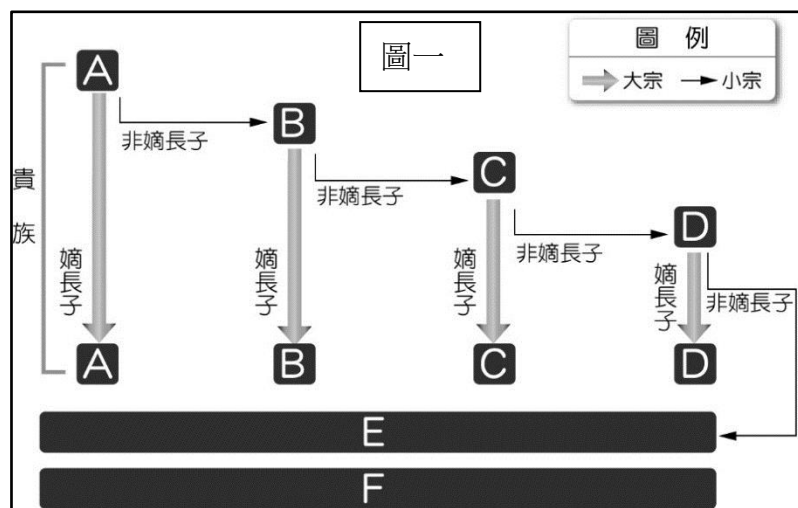
【歷史部份】範圍：第三冊 第一、二課第 21~33 題，每題 2 分，第 34~40 題，每題 1 分，共計 33 分

21. 行政院長賴清德、台北市長柯文哲從政前都是醫生，請問：他們的職業與下列哪一個人擅長的領域相同？
(A)張機 (B)張騫 (C)班固 (D)呂不韋。(L2)
22. 「各國使節與商隊經西域來到長安，中國絲綢遠銷大秦，市場上可購買葡萄、胡瓜，樂師演奏琵琶與笛子，百姓生活益發多元化。」請問：上述場景最早可能自何時開始出現？
(A)西周 (B)春秋戰國 (C)秦代 (D)漢代。(L2)
23. 柯南在書中讀到一段資料：「他們會用骨針縫製獸皮為衣，也發展了精神生活，擁有審美觀，因會埋葬死者，所以推測可能有宗教觀。」請問：這段資料的敘述最先會發生在下列哪一個史前文化？
(A)北京人 (B)山頂洞人 (C)仰韶文化 (D)龍山文化。(L1)
24. 同學們在針對夏朝做討論，請問：誰發表的言論有誤？
小哀：「夏朝的開國者是禹，他是繼舜之後的統治者。」
光彥：「禹過世後，將領導者的位子禪讓給啟。」
元太：「夏商周三代合稱為「青銅器時代。」
步美：「目前認為二里頭遺址可能是夏文化。」
(A)小哀 (B)光彥 (C)元太 (D)步美。(L1)

題組一：圖一為某朝代的社會階級圖，請根據圖一回答 25~26 題

25. 請問圖一是中國哪一個朝代的社會階級圖？

- (A)夏 (B)商 (C)西周 (D)東周。(L1)



26. 為了維持圖一中的社會秩序，請問周公設計了何項制度，要求貴族必須按照身分等級遵守規範？

- (A)井田制 (B)封建制度 (C)宗法制度 (D)禮樂制度。(L1)

27. 比較西漢與東漢，下列敘述何者錯誤？

- (A)都曾經派兵征伐匈奴 (B)都曾派代表出使西域，經營西域有成
(C)都因為群雄割據導致滅亡 (D)西漢首都在長安，東漢首都在洛陽。(L2)

28. 若將商與周的政治發展濃縮為下列五點，請問：按照時間先後順序，下列排序何者正確？

甲：商湯伐桀 乙：武王伐紂 丙：管蔡之亂 丁：盤庚遷殷 戊：平王東遷

- (A)甲丁乙丙戊 (B)乙丁甲丙戊 (C)戊乙丁甲丙 (D)丙甲乙戊丁。(L1)

29. 傳說，幽王很喜歡褒姒，為了讓褒姒笑，不惜點燃烽火台，讓遠方的諸侯以為幽王需要救援而匆忙趕來。這樣的事情次數多了之後，使幽王失去了諸侯的信任。而幽王寵愛褒姒到要廢掉申后及太子宜臼，並改立褒姒為后，封褒姒的孩子伯服為太子，這使得申后的父親震怒，決定聯合外族西進攻。幽王點燃烽火求援，但不被諸侯相信，最後幽王與伯服被殺，褒姒被擄，西周滅亡。

請問：外族西應是哪一個外族？

- (A)犬戎 (B)狄 (C)匈奴 (D)羌。(L1)

30. (甲)商朝農業發達，有多餘的糧食可以釀酒，因此飲酒風氣盛行。為了配合農業生產，也發展出進步的曆法，並以天干地支搭配記日。(乙)而文字最著名的是甲骨文，是商王或貴族占卜時，刻在龜甲或獸骨上的文字，開啟了中國「信史」的階段。(丙)商人非常迷信，祭祀的對象有天神、地祇、人鬼，特別重視對祖先的崇敬。(丁)工藝技術則以鐵器最為出色，是國家權力的象徵。

請問：以上關於商朝文化的敘述，何者有誤？

- (A)甲 (B)乙 (C)丙 (D)丁。(L1)

31. 在春秋戰國時期，貴族沒落，平民崛起，私人講學之風也隨之興起，請問：下列表格統整出此時期的名人與其成就配對何者正確？

荀子	道家代表人物
蘇秦	連橫政策
韓非	法家代表人物
張儀	合縱政策

(A)荀子 (B)蘇秦 (C)韓非 (D)張儀。(L1)

32. 請問：下列春秋戰國時代比較表，哪一項正確？

時代	(甲)周天子地位	(乙)諸侯口號	(丙)治國思想	(丁)名相
春秋	無足輕重	富國強兵	崇尚法家	管仲
戰國	力量衰微	尊王攘夷	獨尊儒術	商鞅

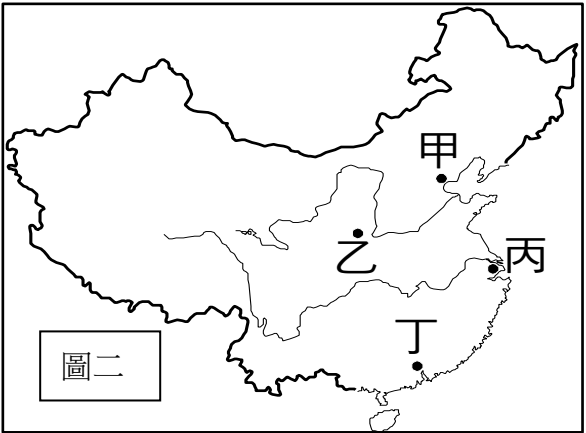
(A)甲 (B)乙 (C)丙 (D)丁。(L1)

33. 秦始皇統一天下後，諸多措施均有其目的與影響。下列關於各項措施的說明何者不正確？

- (A)修築長城以防禦匈奴。
- (B)以郡縣制取代封建制度，達到分權給地方諸侯，保衛中央的目的。
- (C)以咸陽為中心，修馳道加強中央對地方的控制。
- (D)焚書坑儒以達到思想統一的目的。(L2)

34. 陳伯伯參加旅行團來到一個歷史古都，導遊介紹當地的歷史背景，提到它曾是很多朝代首都的所在地，還是秦代馳道與古絲路的起點。請問：陳伯伯應該是參觀圖二中的哪一個城市？

(A)甲地 (B)乙地 (C)丙地 (D)丁地。(L2)



35. 下列哪一個選項的內容應該不會記載在《史記》中？

- (A)中國創制「帝制」的開始與始皇帝
- (B)張衡發明渾天儀與地動儀
- (C)周武王滅商、周公東征
- (D)楚漢相爭、平民得天下。(L2)

36. 「君王集大權於一身，地方長官由君王任免，官員不再是血緣世襲的貴族。」請問：上述情況的出現是因為下列哪一個制度的實施？

(A)封建制度 (B)郡縣制度 (C)察舉制度 (D)井田制度。(L2)

37. 圖三是戰國中期形勢圖。請問：最後消滅六國，統一天下的是圖中哪一國？

(A)B (B)C (C)F (D)G。(L1)

38. 陳揚生於戰國末期，後見識到天下歸於一統的大國氣勢，並於漢高祖登基的第二年過世。請問：下列哪一項會是陳揚曾有過的生活經歷？

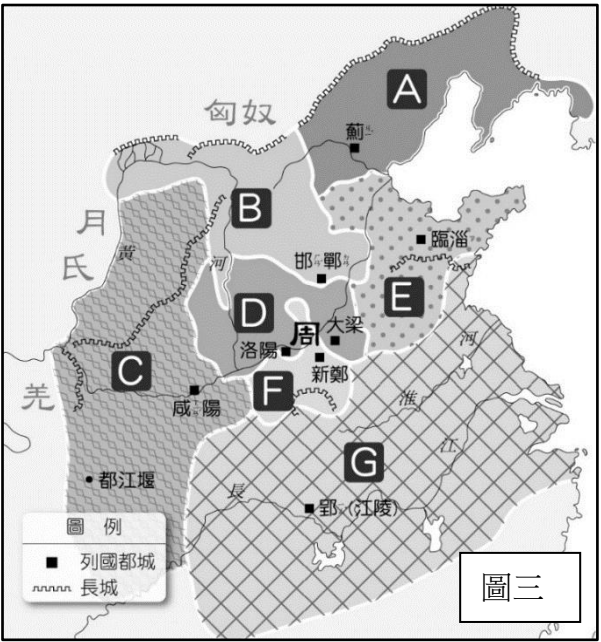
- (A)全國使用同一種文字，只能閱讀跟種樹、占卜、醫學有關的書
- (B)因為孝順父母聲名遠播，而被推薦到中央政府當官
- (C)隨著絲路的開通，到西域、大秦經商致富
- (D)楚漢相爭時期追隨項羽，並輔佐項羽奪得天下。(L2)

39. 黃巾之亂擾亂天下十餘年，它所帶來的影響，下列敘述何者正確？

- (A)外族攻入首都，皇帝被殺，新帝遷都開始新朝代
- (B)使外戚、宦官輪流掌政，國力大衰，最後平民得天下
- (C)導致貴族沒落，平民崛起，土地私有化
- (D)地方長官掌握軍權，形成群雄割據。(L2)

40. 從春秋戰國時代到漢武帝，中國經歷各方面的劇變，下列哪一個說明符合當時的形勢演變？

- (A)從土地私有制走向土地歸貴族所有，且政府專賣鹽、鐵
- (B)取人才管道從地方推薦給中央，逐漸改為血緣傳承的土地分封制度
- (C)從百家爭鳴走向以儒家思想為主流的思想統一
- (D)經濟發展的重心從北方地區移向南方與西方。(L2)



【公民部分】範圍：第三冊 第 1~第 2 章《配分》41~53 每題 2 分；54~60 每題 1 分

41. 下列關於「國體」、「政體」的敘述何者正確？
(A)甲應填入君主國 (B)乙應填入君主獨裁國
(C)丙應填入君主獨裁國 (D)丁應填入民主共和國。 (第一章)
42. 以下〈表二〉為新聞主播，與直播記者現場連線的內容，因為收訊不良有些收音不清楚，請您依序填入音收訊不清而漏掉①、②的文字：
(A)立法院；司法院 (B)監察院，司法院
(C)總統；監察院 (D)行政院；考試院 (第二章)

國體 政體		
(甲)	君主立憲國	(丙)
	(乙)	(丁)

〈表一〉

桃園市衛生局前副局長對於該局查獲 oo 藥局販售過期感冒藥案，在接受業者關說後，要求所屬公務員不依藥事法規
定裁處罰鍰，涉有重大違失。今日①完成調查，彈劾前局長，並已將此案送交②審理懲戒。 〈表二〉

43. 〈環境教育法〉規定機關學校每年要上 4 小時環境課。也就是從小學生到總統蔡英文，每年都要上滿四小時環境教育課。
請問下列敘述何者錯誤？
(A)立法院制定〈環境教育法〉後，由總統公布實施。
(B)〈環境教育法〉通過後，將由行政院規劃及執行相關政策。
(C)若對此法有所疑義時，可向法務部申請解釋。
(D)政府制定〈環境教育法〉後才能依法取締，符合民主國家中法治政治的精神。 (第一章、第二章)
44. 考量近年發生包括鄭捷的捷運濫殺案，捷運警察隊開始配備電擊槍，以利在狹小空間的站體、車廂內，能夠避免使用槍枝，
順利將嫌疑犯逮捕，此外還配備非致命性武器，「辣椒噴霧」和「警棍」提供警察執勤時可以在不用槍的情況下，多一種
壓制歹徒的選擇。請問，改善警察的安全配備是為了達成國家存在的哪一項目的？
(A)保衛國家安全 (B)維護社會秩序 (C)促進經濟發展 (D)伸張司法正義 (第一章)
45. 有關我國最高民意機關的描述何者正確：(A) I、II。(B) II、III。(C) III、IV。(D) IV、V。
I. 監督、質詢總統、副總統
II. 任期四年，連選得連任一次
III. 委員若違法失職將依法被彈劾
IV. 可對總統、副總統提出彈劾案
V. 在行政院決議，總統發布緊急命令後，必須提交給它追認 (第二章)
46. 請問〈表三〉中哪些政府成員的產生方式是相同的？
(A)甲丙戊 (B)乙丙丁 (C)丙丁戊 (D)丁戊己

- (甲)教育部部長
(乙)大法官
(丙)審計長
(丁)考試委員
(戊)立法院院長
(己)行政院院長
〈表三〉

過去六年桃園機場旅客快速增加，遠遠超過機場航廈的負荷量，原設計容量 3200 萬人次，現在卻湧入將近 4500
萬人次，比原設計容量多了一千萬人次。因此交通部編列 395 億預算興建第三航廈，預計將於 2020 年完工。

〈表四〉

47. 針對上方〈表四〉對於機場工程中經費運用，請找出錯誤的程序：
(A)行政院擬定預算 (B)行政院執行預算 (C)司法院審查預算 (D)監察院審查決算 (第二章)
48. 承第 47 題，找出錯誤的敘述：
(A)針對工程的進度與現況，交通部必須向立法院提出報告。
(B)工程若延宕，監察院可給予「糾正」，提出改善之道。
(C)若發生弊案，涉及採購弊案的交通部長，將被司法院「糾舉」。
(D)審計長可以從決算書中稽察財務上之違失。 (第二章)
49. 小美想要成為法官而報考公務人員特種司法官考試，請問小美寄送報名表的收件地址應為：
(A)行政院教育部 (B)司法院的地方法院 (C)考試院的銓敘部 (D)考試院的考選部 (第二章)
50. 2017 年 10 月 1 日西班牙加泰隆尼亞自治區的獨立公投，加泰隆尼亞是公投「脫離西班牙」成為獨立國家，可是加泰隆尼
亞沒有完全自主的財稅系統、軍事武力等，2017 年 10 月 27 日，加泰隆尼亞宣布獨立但卻不被世界承認，10 月 30 日，西
班牙政府實施憲法第 155 條，強行接管加泰隆尼亞政府，而加泰隆尼亞獨立失敗。請問，加泰隆尼亞為何獨立失敗，其缺
乏國家組成要素中的哪兩項？
(A)人民、政府 (B)領土、主權 (C)政府、主權 (D)人民、領土 (第一章)

51. 為了避免政府壟斷，在我國政府間權力有分工或制衡的方法。請找出**正確**的描述：
- (A)行政院若認為立法院通過的法律案窒礙難行時，得在總統的核可下請立法院『覆議』。
 (B)總統提名監察院院長後，必須送交大法官同意任命。
 (C)當立法院制定的法律可能違憲時，可送交最高法院請法官加以解釋。
 (D)司法院得對行政院院長提出不信任案，案件成立，行政院院長應提出辭職。 (第二章)
52. 核能與供電安全議題不斷延燒，核二除役公聽會於新北市萬里區公所舉辦，邀請各界傾聽反對核一核二延役且擔憂家鄉安全鄉親的意見。北海岸反核行動聯盟表示：「不要再只是透過媒體高談闊論，請來聽聽在地的聲音與擔憂。」請問上述內容展現民主政治的哪個特色？
- (A)責任政治 (B)民意政治 (C)政黨政治 (D)法治政治 (第一章)
53. 憲法是我們國家的根本大法，有關於憲法的相關規定也很嚴謹。請挑出完全**正確**的敘述：
- (A)由立法院提出憲法修正案後送交司法院憲法法庭審理。
 (B)由立法院提出憲法修正案後送交公民複決。
 (C)由司法院大法官提出憲法修正案後，送交總統裁決
 (D)由司法院大法官提出，交由憲法法庭審理。 (第二章)
54. 在網路上有網民因為不滿總統的政見跳票(未實現競選時的承諾)而發動「XX」案的連署，並打算送交立法院審查，公民複決。請問 XX 應填入：
- (A)撫卹 (B)糾正 (C)罷免 (D)彈劾 (第二章)
55. 幾位同學下課時討論同學小明的國籍，參看〈表五〉，請問何者的說法**正確**？
- (A)展榮：根據血統原則，小明擁有台灣國籍。
 (B)展瑞：小明取得台灣國籍的方式是先天取得。
 (C)尼克：小明取得美國國籍的方式是歸化取得。
 (D)茵聲：根據出生地原則，小明擁有美國國籍。 (第一章)
- 小明：我出生在美國，被台灣夫婦收養



〈表五〉
56. 西沙群島是中國的固有領土，最近英國「海神之子」登陸艦未經中國政府允許擅自進入了中國西沙群島的領海，中國海軍依法對這艘軍艦實施了查證識別並且予以警告驅離，但英國則回應該登陸艦沒有進入領海。請問，上述內容展現哪兩種類型國家的衝突？
- (A)君主立憲國、獨裁共和國 (B)獨裁共和國、君主獨裁國
 (C)君主立憲國、民主共和國 (D)民主共和國、獨裁共和國 (第一章)
57. 承第 56 題，關於「領海」的敘述，下列何者**錯誤**？
- (A)從領陸向外延伸 12 海哩 (B)領空為其向上延伸的天空
 (C)與經濟海域都是領土的一部分 (D)為國家行使管轄權的區域 (第一章)
58. 八二三水災重創中南部縣市，行政院宣布比照莫拉克風災救助標準，針對水災淹水逾五十公分的受災戶，加碼擴大急難救助方案，每戶加發補助二萬元，即中央補助每戶額度最高可達四萬元。請問政府補助水災的救災戶是為了達成國家存在的哪一項目的？
- (A)伸張司法正義 (B)維護社會秩序 (C)促進經濟發展 (D)推動社會福利 (第一章)
59. 關於「民主」的敘述何者錯誤？
- (A)強調以民為主，主權在民 (B)民主政治會有行政效率不彰的問題
 (C)強調少數服從多數，多數尊重少數 (D)不易有多數暴力的缺失 (第一章)
60. 花蓮縣縣長傅崐萁涉及炒作合機炒股案判處有期徒刑 8 個月定讞，並於 9 月 25 日入花蓮監獄服刑。請問，花蓮縣縣長因而被判刑入監服刑是屬於民主政治的哪兩個特色？
- (A)責任政治、法治政治 (B)民意政治、責任政治 (C)政黨政治、法治政治 (D)民意政治、政黨政治 (第一章)

【第六頁，共六頁】

【所有試題到此結束】

新北市立永和國民中學 107 學年度第一學期第一次段考八年級社會科答案卷

【地理科】第三冊第一～二課 配分：1-14 題每題 2 分，15-20 題每題 1 分，共 34 分

1	2	3	4	5	6	7	8	9	10
D	A	D	A	B	A	B	C	D	A
11	12	13	14	15	16	17	18	19	20
D	D	C	C	B	D	A	B	C	C

【歷史科】（第 21～33 題，每題 2 分；34～40 題，每題 1 分，共 33 分）

21	22	23	24	25	26	27	28	29	30
A	D	B	B	C	D	C	A	A	D
31	32	33	34	35	36	37	38	39	40
C	D	B	B	B	B	B	A	D	C

【公民部分】（第41-53題每題2分，54-60題每題1分，共33分）

41	42	43	44	45	46	47	48	49	50
B	B	C	B	D	B	C	C	D	C
51	52	53	54	55	56	57	58	59	60
A	B	B	C	D	A	C	D	D	A