

新北市立永和國民中學 109 學年度第二學期第一次段考七年級社會科試題

【地理部分】範圍：第一篇 一到二章 單選題：1~14 題，每題 2 分；15~20 題，每題 1 分，共 34 分。

1. 「據內政部統計，2003 年是新移民女性人數的高峰期，雖然自此之後盛況已不如往昔，但新移民女性的子女已陸續進入學校教育，2003 年時進入中小學的人數為 30040 人，2009 年增至 155144 人，短短 7 年間成長了五倍。」短文中的新移民女性指因跨國婚姻而移入的新住民，請問下列敘述何者為正確？(L1)

(甲)新移民女性屬於國際遷移 (乙)大陸地區與東南亞為台灣的新移民女性最大來源地 (丙)新移民女性的加入，能紓緩少子化對教育的衝擊 (丁)新移民女性的加入將提高台灣的性別比，使男女人數比例較為平衡 (A)甲乙丙 (B)甲乙丁 (C)乙丙丁 (D)甲丙丁。



2. 該族群稱土地公為「伯公」，將土地公廟稱為「伯公下」。早期伯公無所不在，井旁、橋頭、豬欄、墓旁、廟宇、宗祠廳堂都可見到蹤跡，該族群早晚都會到伯公下上香和奉茶，居民的生活和伯公關係非常親密。該族群最有可能位於右圖(一)中何處？(A)甲 (B)乙 (C)丙 (D)丁。(L2)

3. 下表是 2015 年 12 月以及 2016 年 12 月臺灣地區各行政區人口數增減前兩名末兩名的整理。各行政區的人口數增減會受到當地房價高低、就業機會、交通建設、物價高低等因素影響，已知這四個行政區為台北市、桃園市、台中市與屏東縣。請問根據下表人口增減來判斷，哪個選項所配對的行政區是「正確」的？(L1)

(A)甲為屏東縣 (B)乙為桃園市 (C)丙為台中市 (D)丁為台北市。


排名	代號	2015 年 12 月人口數	2016 年 12 月人口數	人數增減
1	甲	2,105,780	2,147,763	+41983
2	乙	2,744,445	2,767,239	+22794
21	丙	841,253	835,792	-5461
22	丁	2,704,810	2,695,704	-9106

4. 隨著台灣東南亞移工的數量增加，\_\_\_\_\_的文化也傳入台灣。每當齋戒月結束的第一天是「開齋節」，它在\_\_\_\_\_文化中，有如台灣人的農曆新年，故\_\_\_\_\_教徒常聚於台北車站一同慶祝開齋節。齋戒月是為了提醒\_\_\_\_\_教徒應該多多珍惜衣食無虞、不須挨餓的日子。底線處應填入？(A)佛教 (B)道教 (C)天主教 (D)伊斯蘭教。(L2)



5. 右圖(二)「台灣人口分布點圖」，是藉由點的數量多寡表示台灣人口的分布情形與疏密程度，也可發現空間分布和地理條件關係密切。關於圖中所呈現的空間分布特性來判斷，下列敘述何者「正確」？(A)台灣人口主要集中於嘉南平原一帶 (B)都市的人口「推力」是工作機會較多 (C)受氣候的影響，西部人口多於東部人口 (D)人口分布會受到中央山脈影響。(L1)

6. 社會住宅是因應城市因人口密集導致房價高漲與社會所得分布不均問題而設置。強調由政府興建房子出租，或是由政府承租民間的空屋轉租給民眾的住宅。它的租金比較便宜，讓政府能妥善利用空屋，照顧更多有住屋需求的民眾。請問只考慮「人口密度」要素，社會住宅興建與配置在何處最為適合？(L1)
- (圖中每點代表3000人)



(A) 1: 2500 (B) 1: 5000 (C) 1: 10000 (D) 1: 20000

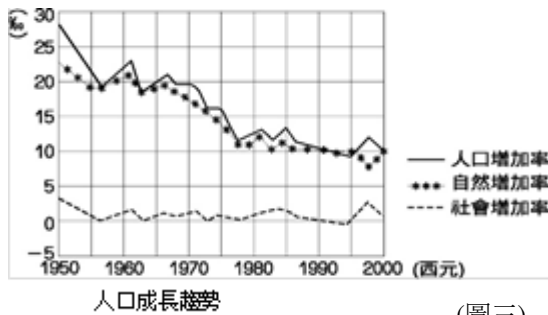


7. 右上圖為台北市新移民婦女暨家庭服務中心的網頁。從國外來台定居的新移民(新住民)可以透過電話、面談等方式，詢問自身及其家人在台灣生活的相關福利資訊、法律議題等，該組織有外語人員為新移民專業諮詢服務。請問若根據民國76年至110年來台累計人數，來自下列哪些國家的民眾是該服務中心主要及次要服務的對象？(A)日本、中國 (B)中國、越南 (C)越南、印尼 (D)美國、中國。(L2)

8. 敏敏聽到了一首有趣的歌，歌詞如下：「去買個木瓜來，大小要剛好，切切，刨刨，份量別太多，放進辣椒和大蒜一起搗，聞著真不錯。如果可以，再加點清檸、魚露、糖漿會更好……」。歌詞中所提及的酸辣飲食應該是源自於哪個地區？(A)泰國 (B)中國 (C)日本 (D)荷蘭 (L2)

9. 右圖(三)為大熊查閱相關資料時所找到的某國人口成長趨勢圖，並根據圖中資料做出下列四項推論，其中哪一項是「正確」？(L1)

(A)某國接收大量的國外移民  
(B)某國正面臨人口逐年減少的危機  
(C)某國人口成長主源自於自然增加  
(D)某國死亡率逐年降低。



(圖三)

10. 台灣為島國，自古外來民族多，故有許多的外來用語。外來用語的語彙可能是音譯、意譯或二者兼而有之。請問下列哪個台灣用語與出處配對「正確」？(L2)

(A)三貂角：泰文 (B)甜不辣：西班牙文 (C)脫口秀：日文 (D)優格：英文。

11. 右圖是甲、乙二國的人口金字塔圖，地理老師要同學比較這二張人口金字塔圖，由右圖中可知下列哪一項敘述「正確」？(L1)

- (A)甲國的出生率較低 (B)甲國的經濟發展較佳  
(C)乙國有工作能力的人數比甲國多 (D)乙國成年人的負擔比甲國輕。

12. 位於臺北市信義區的四四南村為國民政府遷台後所興建的眷村之一，村內居民全為聯勤第四十四兵工廠的廠工。該村興建於1948年，極有可能為國民政府在台灣所建立的第一座眷村，亦是第一座被保留下的眷村。請問下列哪項餐點，

- 最有可能是當年四四南村居民的家常菜？(L2)  
(A)壽司 (B)漢堡 (C)饅頭 (D)擂茶。

13. 臺灣政府從106年起推動「長期照顧十年計畫2.0」，希望擴大照顧老人，以建立優質、平價、普及的長照服務體系。右圖為臺灣老年人口分布地圖，呈現各縣市的人口老化差異，其中老年人口比例前三高的縣市成因可能為何？(L1)

- (A)嬰兒夭折率高，使得幼年人口不足 (B)就業機會少，壯年人口外移嚴重  
(C)生活舒適優閒，吸引老年人口移入 (D)醫療水準高，居民平均壽命延長。

14. 根據內政部人口統計，2019年上半年全臺有88,098人死亡，但同期新生兒數卻只有85,961人出生，是臺灣人口自然增加史上首次的負成長，形成整體人口結構上「出生不如死亡的交叉」。請問：下列何者影響的關係最大？(L1)

- (A)性別比例失衡，導致結婚率下降 (B)養育小孩負擔沉重，導致出生率降低  
(C)腸病毒傳染強，導致死亡率提高 (D)海外工作機會多，導致人口大量外移

15. 「根據內政部統計，民國110年2月台灣人口數約2354萬人，全國性別比約為98：100，但新生兒性別比卻達110：100，嬰兒性別有失衡的情形」，依據上文，下列敘述何者「正確」？(L1)

- (A)全國的男性總人口數約為98萬人 (B)全國性別比例約為每當有100位女性對應有98位男性  
(C)新生兒性別比失衡與女性平均壽命較長有關 (D)新生兒比例約為每當有100位男嬰對應有110位女嬰

16. 新學期開始，班上來了位轉學生—美拉，為了幫助同學更了解她，老師請美拉自我介紹。美拉：「我的媽媽是越南人，原本不會說中文，後來在新北市設立的新移民學習中心學習，現在她不僅可以用中文和其他人聊天，還在新移民中心介紹的異國料理外燴服務部門上班。」依人口遷移的概念判斷，請問美拉的媽媽是屬於何者？(L1)

- (A)國內遷移、永久遷移 (B)國際遷移、暫時遷移  
(C)國際遷移、永久遷移 (D)國內遷移、暫時遷移

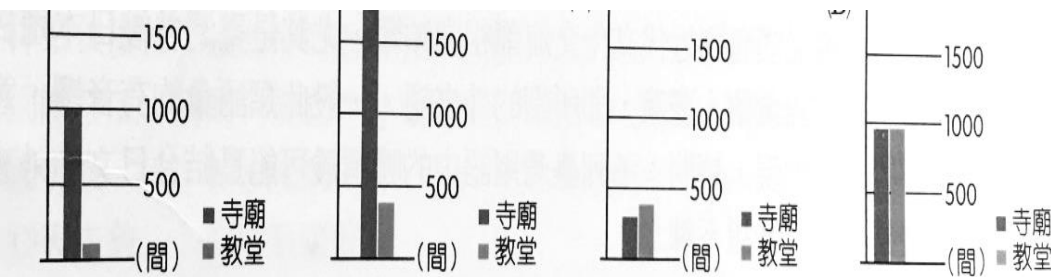
17. 右圖為四個國家的人口年齡組成圖，就人口組成而言，四個國家中的勞動人口，哪一國扶養負擔最沉重？(L1)

- (A)甲 (B)乙 (C)丙 (D)丁。

18. 南島語族大約起源於5200年前，右圖為台灣地圖，有學者指出，南島語族是自台灣開始向外傳播，最遠傳播到太平洋的島嶼。若要調查南島語族的文化，最適合至下圖何處進行考察？(A)A (B)B (C)C (D)D。(L2)

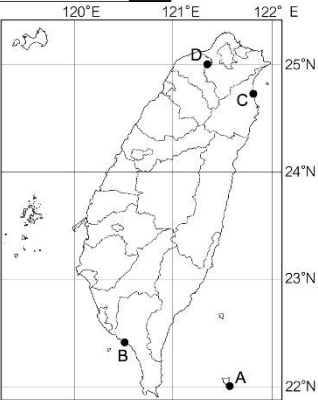
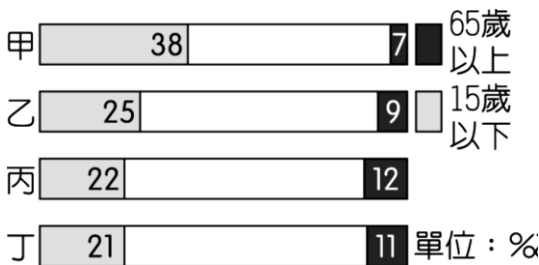
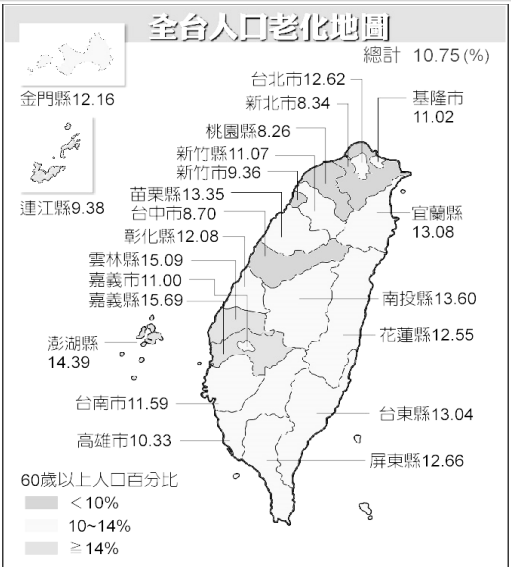
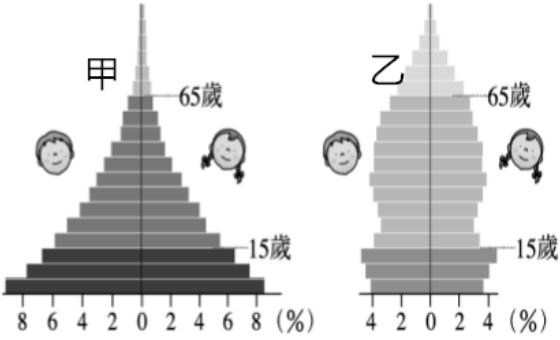
19. 根據內政部民國108年9月所公布的統計資料，全台各縣市原住民人口以花蓮縣9.3萬人(占全縣人口28.4%)最多，臺東縣7.9萬人(36.2%)次之，由於原住民人口比例較多，故花蓮縣宗教建築的比例和台灣西部多數地區的差異性較大。以下為花蓮縣宗教建築的比例，下列何者與實際的情形較為接近？(L2)

- (A) (B) (C) (D)



20. 今年度的全國原民運2021年3/19~3/22在宜蘭盛大舉行，到時候選手們將展現原住民族運動精神(右圖:官網照片)，請問下列哪個選項若是出現在的宣傳影片上，最能符合傳統原住民族的生活情境？(L2)

- (A)以咖哩飯和香料款待客人  
(B)為客人泡上大杯珍珠奶茶，去冰  
(C)烹煮竹筒飯和烤山豬肉  
(D)吃牛肉麵時不忘加點酸菜。









《與神同行：最終審判》(신과함께: 인과 연／神과함께: Along with the Gods: The Last 49 Days) 為解開大韓民國陸軍上兵金秀鴻含冤而死的秘密，陰間使者江林請求閻羅王允許審判，而閻羅王提出審判冤死鬼的交換條件便是陰間三使者需帶著早該陽壽已盡的老人許春三來到陰間，日值使者解怨脈及月值使者李德春便與江林兵分兩路行動，而許春三遲遲無法魂歸西天的原因正是得到許家的守護神「成造神」的保護，當解怨脈與李德春遇上成造神時，卻發現成造神身上帶著他們的前世記憶……



41. 請問：下列敘述配對何者正確？(L1、L2)

(A) 宗教信仰	在 <u>韓國</u> 出獄後會吃豆腐，表示去霉運	(B) 倫理道德	<u>金秀鴻</u> 不捨母親四處奔波陳情喊冤
(C) 文化的普遍性	在 <u>韓國</u> 生日喝海帶湯； <u>台灣</u> 則是生日蛋糕紅雞蛋	(D) 文化的差異性	<u>金秀鴻</u> 因含冤身亡，將依循 <u>韓國</u> 喪禮，告別式通常在亡者去世後3~5天舉行

42. 請問：下列敘述配對何者正確？(L2)

- (A) 風俗習慣：春三爺爺告訴孫子吃飯時碗要放在桌上，否則會被視為貧窮 (B) 宗教信仰：陰間使者江林與父親感情深厚  
(C) 倫理道德：金秀鴻被軍中同袍誤扣機槍而身亡 (D) 法律：「成造神」守護許家一家老小

43. 以下為班上同學針對自己的宗教信仰發表意見，根據內容判斷，以下哪一項敘述正確？(L1)

- ◎我信仰回教，我們會向西方聖地麥加進行膜拜。  
◎每到假日，我們都會到教堂做禮拜，並依循聖經行事。  
◎我家是佛教徒，全家是吃素、不殺生的。

- (A) 每種宗教的戒律並不相同，即顯示文化的普遍性 (B) 宗教文化存在各個社會之中，但有高低優劣分別  
(C) 臺灣社會諸多宗教信仰裡，回教屬於主流文化 (D) 同一個社會內，不同的團體也可能出現文化差異

44. 美雲在社群媒體上發表近況，根據下列的敘述，下列何項正確？(L1)

「我跟班上同學一樣都喜歡玩電玩、手遊，也會互相交流。曾經和好友一起參加青少年電競比賽，我想以後要就讀電競相關科系，夢想是當上電競選手，參加國際性的比賽」

- (A) 電競教育已經成為我國教育的主流文化 (B) 電競文化不能與社會中各文化同時共存  
(C) 與其他文化比起來，電競活動較為次等 (D) 青少年電競活動屬於其族群的獨特文化

45. 2005.5 紀錄片《無米樂》上映，4 位農民感恩土地、樂天知命的態度感動許多人，靈魂人物「崑濱伯」黃崑濱在片中演出他的日常，2016 年受任國策顧問，不改謙卑勤奮作風，老農平凡智慧撼動人心，片中喊出農村諺語「無米樂，無米樂，心情放輕鬆！」，道出農民看天吃飯雖無奈但知足。2006 年在全國冠軍米競賽拿下「米王」，全數捐出 100 萬元獎金，成立無米樂稻米促進會推廣台灣米。他說：「因為天公伯（註）照顧，我才能種出好米；得獎不是我的功勞，是屬於老天爺的。」如今辭世，小人物的偉大身影不減。請問：「崑濱伯」豁達的人生觀，受下列何種社會規範影響？(L2)

註：天公伯在民間信仰中，玉皇上帝俗稱「天」、「天公」、「上天」、「蒼天」、「老天」、「老天爺」等，被視為是神界皇帝、天庭之元首、萬神之王

- (A) 風俗習慣、法律 (B) 風俗習慣、宗教信仰 (C) 倫理道德、宗教信仰 (D) 倫理道德、法律

46. 數字週刊正進行討論下一期的週刊專欄，根據下列對話，以下何項敘述最為正確？(L1)

「甲：這次的企畫是以客家次文化為主軸。乙：我們可以介紹一些社群媒體，因為客家人之間常透過這些媒體互動。丙：他們常在客家文化節目討論生活及上傳影片，也展現許多創意，觀眾們都覺得很厲害。」

- (A) 次文化屬於次等的劣質文化 (B) 次文化與主流文化多有衝突  
(C) 次文化展現該族群獨特文化 (D) 次文化較難被社會大眾接受

47. 歌手黃明志拍攝電影《你是豬》，描述家鄉馬來西亞真實發生的校園暴力事件及種族政策，因極端份子舉報，他被大馬警方通緝。請問：以下的敘述，何者錯誤？(L1、L2)

- (A) 所拍攝電影《你是豬》是文化的一種 (B) 馬來西亞伊斯蘭教的戒律是一種社會規範  
(C) 馬來西亞實施種族政策正是展現文化相對主義 (D) 種族政策引發文化衝突，應尊重包容文化的差異性

48. 文化是人類經由創造或學習而來的一切成果，依此定義來看，下列何者不全屬於文化的範圍？(L1)

- (A) 文學、藝術 (B) 語言、繪畫 (C) 雕刻、建築 (D) 星星、碉堡

49. 百萬網紅「理科太太」在募資平台開放預購「讓人狀態好到爆炸」的「太空人維他命」，僅1周就募到逾3200萬元引發熱議，遭疑「增加體力」等宣稱涉誇大不實。衛福部食藥署表示要查，台北市衛生局初步了解，出現「服用」2字有涉及療效、誇大之嫌。請問：針對社會規範的敘述，下列何者正確？(L2)

- (A) 法律是長期累積形成，較易受到社會輿論的批評 (B) 法律是最早的社會規範，可約束個人行為  
(C) 藉由法律，可啟迪內在良知，規範外在行為 (D) 藉由法律，國家可以公權力處罰

50. 以下是某雜誌刊登的一篇介紹臺灣文化的速寫觀察的主題應與下列何者最相關？(L1)

「常看美國電影、美劇的影響，臺灣年輕人常喝咖啡、吃炸雞、漢堡和可樂，現在都變成為臺灣人生活的日常。」

- (A) 殖民地政府的文化擴張運動 (B) 強勢文化傳播的媒體影響力  
(C) 弱勢文化對文化位階的抵抗 (D) 台灣在地傳統飲食文化的獨特性

51. 「達叔」吳孟達與「星爺」周星馳多次合作，笑匠模樣深植人心，堪稱是周星馳電影中的最佳綠葉。日前因為癌症去世，家屬決定以基督教儀式進行告別式後，隨即火化安葬。但相信這位黃金配角在觀眾心中是不可複製的存在。請問：上述畫線部分可能和何種社會規範相關？(L2)

- (A) 風俗習慣、法律 (B) 風俗習慣、宗教信仰 (C) 倫理道德、宗教信仰 (D) 倫理道德、法律

52. 有一位來臺灣讀書的留學生於社群網站上發表一則貼文，依照下列內容所述，他與家人在緬甸受到的對待應與下列何者最相關？(L1)

「我的家族是屬於少數民族羅興亞人，政府從以前就要求我們改變宗教信仰，放棄說族語，從小教育必須學官方認可的內容和歷史文化，限制我們的文化傳承，用暴力強迫我們就範，我的家人因而逃離家鄉，不知何處可以落腳。」

- (A) 面臨殖民文化的恐懼感 (B) 中央與地方政府的對立  
(C) 強勢文化產生認同危機 (D) 文化位階造成的不平等

53. 《鬼滅之刃劇場版 無限列車篇》哥哥炭治郎帶著妹妹禰豆子與朋友善逸、伊之助搭上無限列車，與「炎柱」煉獄杏壽郎見面，並協助他殺死潛伏在這班列車上的惡鬼。上車不久後，他們遭到幾隻鬼攻擊……。請問：哥哥炭治郎和妹妹禰豆子的兄妹情深與以下何者倫理道德的性質不同？(L2)

- (A) 炭治郎與朋友善逸、伊之助的義氣相挺 (B) 韓流天王 Rain 與演員老婆金泰希接拍廣告  
(C) 賈靜雯公開女兒 Bo 妞掉門牙的超萌影片 (D) Youtuber 台客劇場林冠廷與台北市長柯文哲合體撿菸蒂

54. 下列哪一種作法或觀念已具有多元文化的精神？(L1)

- (甲) 中央政府設立原住民族委員會 (乙) 到國父紀念館欣賞《媽媽咪呀》  
(丙) 西亞為落後國家，不必尊重其文化 (丁) 參觀印加文物展

- (A) 甲乙丁 (B) 乙丙丁 (C) 甲乙丙 (D) 甲丙丁

55. 韓國社會近期掀起「校園霸凌 MeToo」，這把火從體育界延燒到演藝圈，風波越演越烈，不斷有受害者和目擊者舉報。請問：校園霸凌可能違反下列何種社會規範？(L2)

- (A) 風俗習慣、法律 (B) 風俗習慣、宗教信仰 (C) 倫理道德、宗教信仰 (D) 倫理道德、法律

56. 在地球村的時代中，面對外來文化的挑戰，某些本土文化可能面臨生存的危機。因此面對此一危機，我們應該採取下列哪一種作為？(L1)

- (A) 統整不同文化與加強共識 (B) 全盤接受西方文化 (C) 拒絕與外來文化交流 (D) 肯定自我文化

57. 非洲大象的遷徙之旅歷史悠久，這趟旅程不僅確立自身生存，大象會沿路散播種子，以長牙掘出水源，並為牠們後方的小身形動物們闢出安全的通道。然而非洲盜獵情形依舊猖獗，每 25 分鐘就有一頭大象遭殺害，與此同時，當地人口遽增，導致人象衝突問題開始急迫，大象能棲息的所在地越來越少。請問：根據上述，最可能是指人們恣意破壞下列何者？(L2)

- (A) 環境倫理 (B) 科技倫理 (C) 校園倫理 (D) 醫學倫理

58. 我國的傳統觀念中，十分講究輩分及親屬的稱謂，但常常在翻譯成外文時，無法翻譯一些敬語與稱謂，認為外國人怎麼「沒有大小，一點也不懂禮數」，這種誤解應該是下列哪一個原因所造成？(L1)

- (A) 交通工具發達促進文化交流 (B) 外國人教育程度不如我國  
(C) 地理環境的差異性 (D) 以我國文化標準來評價西方文化

59. 變性網紅「罔腰」自稱懷孕鬧劇沸沸揚揚多日後，遭高市衛生局戳破全是假的，且交由警方將函送法辦。請問：以下針對法律的敘述，何者錯誤？(L2)

- (A) 法律由法院經一定程序而制定 (B) 不犯法，還是可能違反其他社會規範  
(C) 可維持社會秩序，減少衝突紛爭 (D) 法律具有強制性，是最低限度的行為準則

60. 目前很多國家都尊重個人選擇族群文化歸屬的自由，並以機會均等為原則，並實踐自由、民主與正義的社會。其目的是？(L1)

- (A) 致力促成「多元文化社會」 (B) 評定不同族群文化之間的優劣等級  
(C) 規定各族群民意代表人數均等 (D) 促進文化交流以確保弱勢族群文化

新北市永和國民中學109學年度七年級下學期第一次段考社會科答案卷

【地理科】（第 1～14 題，每題 2 分；15～20 題，每題 1 分，共 34 分）

1	2	3	4	5	6	7	8	9	10
A	B	D	D	D	A	B	A	C	D
11	12	13	14	15	16	17	18	19	20
D	C	B	B	B	C	A	A	C	C

【歷史部分】範圍：第二篇 第 1~2 章

單選題：21～33 題，每題 2 分；34～40 題，每題 1 分，共 33 分。

21	22	23	24	25	26	27	28	29	30
31	32	33	34	35	36	37	38	39	40

【公民科】單選題：第 41～53 題每題 2 分，共 26 分；第 54～60 題每題 1 分，共 7 分；總分 33 分

41	42	43	44	45	46	47	48	49	50
B	A	D	D	C	C	C	D	D	B
51	52	53	54	55	56	57	58	59	60
B	D	D	A	D	D	A	D	A	A