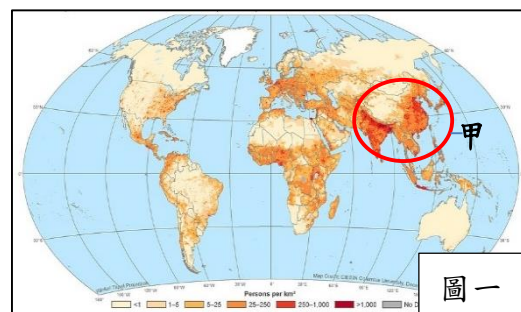


# 新北市永和國民中學 109 學年度第二學期第一次段考八年級社會科試題

【地理部分】範圍：第四冊 第一、二章

單選題：1~14 題，每題 2 分；15~20 題，每題 1 分，共 34 分

1. 右圖一為世界人口分布圖，請問：造成甲區中人口較稠密之最主要原因為何？(L.1)
- (A)終年高溫多雨適宜人居 (B)工業發達促使經濟繁榮  
(C)稻作農業養活眾多人口 (D)政局穩定吸引人口移入。



2. 國魚是雄雄旅行社的經理，想規劃一趟南韓傳統飲食文化之旅，下列廣告文案何者最不適合？(L.1)

(A)傳統溫突•汗蒸幕紓壓五日遊 (B)泡菜•魚板 DIY 體驗五日遊  
(C)尋訪熱帶水果王國六日遊 (D)熱門男團 BTS 應援四日遊。

3. 日本人喜歡在春天賞櫻，日本氣象廳每年都會針對各地櫻花盛開的時間進行預測，如右圖二所示。請問：下列敘述何者正確？(L.1)

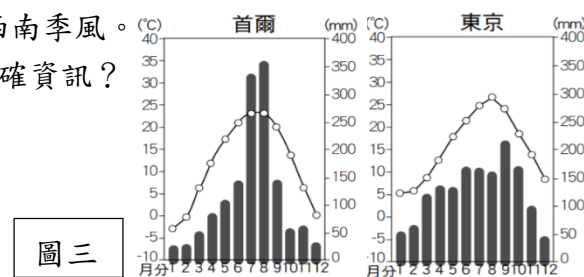
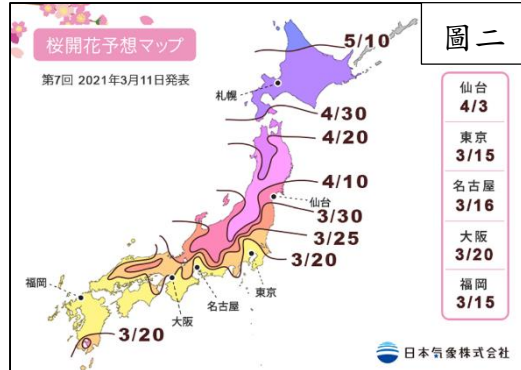
(A)最早可以看到櫻花盛開為北海道 (B)最晚可以看到櫻花盛開為九州  
(C)影響日本櫻花盛開之因素為季風 (D)影響日本櫻花盛開之因素為緯度。

4. 韓劇「愛的迫降」劇情講述南韓企業千金，因滑翔傘事故降落在北韓，與一直守護在她身邊的軍官展開一段秘密且浪漫的愛情故事，在臺灣播出後引發轟動。請問，若根據南北韓的相對位置與盛行風向來判斷，女主角最有可能順著哪個季節的盛行風於北韓降落？(L.1)

(A)冬季/東北季風 (B)冬季/西北季風 (C)夏季/東南季風 (D)夏季/西南季風。


5. 圖三為「南韓首爾」與「日本東京」的氣候圖，請由氣候圖判斷下列何者為正確資訊？

(A)首爾降水集中在夏季是因為受到西北季風的影響  
(B)首爾冬季降水較少是因為西北風來自陸地較乾燥  
(C)東京最冷月月均溫較溫暖是因為其緯度較首爾低  
(D)東京降水量較首爾多是因為受到盛行西風的影響。(L.1)



6. 日本築地漁港市場是遊客必訪之地，港口中進出的漁船常載滿了漁獲，請問：下列何者非日本漁業發達的原因？(L.1)
- (A)海岸線曲折多優良港灣 (B)位於季風亞洲降水充足 (C)四面環海、寒暖流交會 (D)捕撈設備先進、技術佳。

7. 右圖四為某種園藝農業，這是為了因應都市居民的需求，且以市場區位為導向，在日本各大都市的周圍，也有此種農業的發展。請問：此農業大多種植哪一類型的作物以供應需求為主？(A)小麥 (B)人參 (C)水稻 (D)蔬果花卉。(L.2)



8. 日本國內大型企業如 TOYOTA 與 PANASONIC 等公司目前雖有許多工廠為了減低成本移至海外進行生產製造，且造成明顯國內空洞化現象，但對於這些企業並沒有造成實際影響，仍可維持其國際上的競爭力，主要原因可能為何？

(A)封閉日本國內市場 (B)大量雇用國際移工 (C)淘汰老舊設備工廠 (D)重視技術研發創新。(L.2)

◎請依據下文，並參考圖五回答 9-10 題：(L.1)

2011 年 3 月 11 日 14 時 46 分發生於日本東北地方外海規模 9.0 大型地震。震央位於宮城縣首府仙台市以東的太平洋海域，並引發最高 38.9 米的海嘯。此次地震是日本有觀測紀錄以來規模最大的地震，引起的海嘯也是最為嚴重的，加上其引發的火災和核洩漏事故，導致全國性的地方機能癱瘓和經濟活動停止，東北地方部份城市更遭受毀滅性破壞。

而日本千葉縣的一座煉油廠，311 大地震之後引發大火，經過長達 10 天的延燒，終於被撲滅，但煉油廠內的燃油和煤氣都已經全部燒盡，不僅石油公司損失慘重，也導致關東地區嚴重缺油。

9. 關於本文，下列何者為正確的推論？
- (A)若受震央附近核電廠輻射外洩所污染影響最大為本州  
(B)核洩漏所釋放的核輻射有可能會透過親潮流至北海道  
(C)位於近畿平原上的城市因距震央近故災害可能較嚴重  
(D)引發大火的煉油廠之設置地點可能位於圖五中的丙處。
10. 下列哪幾項日本人的生活方式與文中所敘述之災害成因有關？

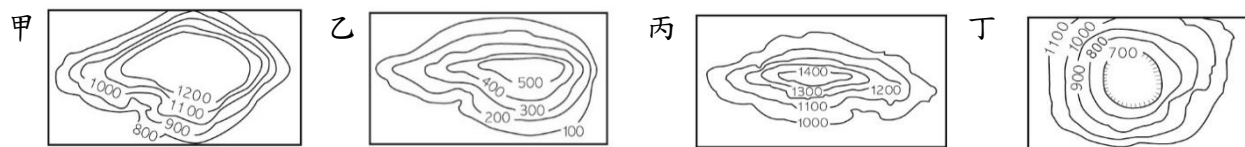
(ㄅ)傳統民居之建材以木料為主 (ㄅ)以醃製、發酵方式保存食材  
(ㄇ)享受溫泉泡湯成為生活習慣 (ㄇ)北方傳統民宅屋頂傾斜度大。  
(A)ㄅ、ㄅ (B)ㄅ、ㄇ (C)ㄅ、ㄇ (D)ㄇ、ㄇ。



◎請依據下文，回答 11-12 題：(L.1)

2008 年發行的韓國電影《北逃》，內容描述北韓居民為了生活從北韓逃出，最後抵達南韓成為脫北者的故事，是一部夾雜血與淚的悲劇性電影，希望讓世人了解北韓人的處境以及「脫北者」的艱辛。

11. 片中主角逃出北韓後搭飛機前往南韓，若在飛機上俯瞰整個朝鮮半島，其地形主體應為下列何者？



(A)甲乙 (B)乙丙 (C)甲丙 (D)丙丁。

12. 片中主角與他的孩子分隔兩地，主角身在南韓，孩子留在北韓，只能透過書信表達思念。請問：以下為主角在寒冬中寫給孩子的一封信，哪項敘述較為正確？

- (A)最近這裡吹起了從海上吹來的風，海風吹的我寒風刺骨 (B)但爸爸這裡相對溫暖，很擔心孩子你在那裡會不會太冷？  
(C)我這裡生活過得很好，買了國產 TOYOTA 汽車非常好開 (D)常看街上掛著許多「朝鮮民主主義人民共和國」的國旗。

◎請依據下文，回答 13-15 題：(L.2)

2010/3/26 晚間，載著大韓民國海軍的天安艦護衛艦，在黃海海域白翎島和大青島之間巡邏時，突然沉入海底的事件，沉船導致 46 名艦上官兵死亡。根據聯合國調查，爆炸原因為北韓的攻擊。儘管 2010/5/20，當時由韓國組織，未包含北韓的多國專家組成的軍民跨國調查小組報告指稱，推測巡防艦遭北韓潛艇發射魚雷擊沉（當時未發現潛艇，事後發現一具魚雷殘骸）。聯合國安理會在報告中認定此為一次攻擊，但並未認定攻擊者朝鮮半島情勢一觸即發……。韓國媒體《朝鮮日報》後來稱北韓的一些文件暗示了朝鮮勞動黨總書記金正日之子金正恩製造了天安艦事件。

13. 天安軍艦沉沒位置如右圖六所示，請問圖中南北韓的北方限界線（圖中虛線）大致沿著下列哪一條緯線畫分？

(A)23.5°S (B)23.5°N (C)38°S (D)38°N。

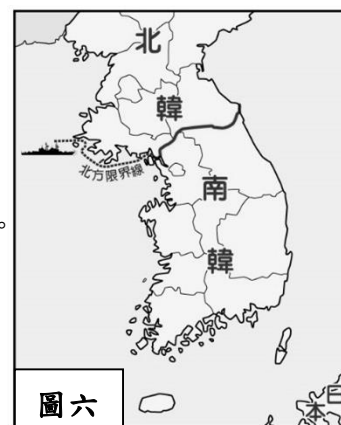
14. 下列有關南北韓的比較，何者與緯度高低關係最為密切？

(A)北韓煤鐵礦產較豐富 (B)南韓收成次數較多 (C)北韓軍事工業較發達 (D)南韓地勢較北韓低。

15. 北韓當局形容天安艦事件調查結果純屬捏造，表示北韓如果遭到新的制裁，將會引爆全面戰爭。

請問：如果朝鮮半島發生戰爭，北韓人民被迫遷移，依地理位置而言，遷往哪一國家較多？

(A)中國 (B)日本 (C)南韓 (D)臺灣。



◎請依據下文，回答 16-17 題：(L.2)

至 2008 年年底，日本外匯存底為世界第二，有 10,185 億美元，工業總產值約占國內生產總值的 40%，主要進口商品有：原油、天然氣等能源、食品、原材料等；主要出口商品有：汽車、電器、一般機械、化學製品等。

16. 由上文敘述的經濟發展現象，說明日本的工業發展具有下列哪一特色？

- (A)原料多依賴進口，而產品以出口為主 (B)陸上交通以鐵路為主，客貨運輸繁忙  
(C)海岸曲折多海灣，擁有眾多良好漁場 (D)工、商業發展迅速，且產品物美價廉。

17. 每年臺灣對日本的國際貿易總是處於入超的狀態。請問：臺灣對日本國際貿易入超所代表的意義為何？

- (A)臺灣向日本進口的商品總值多過日本向臺灣進口的商品總值 (B)日本和臺灣發展上均缺乏工業原料  
(C)臺灣出口到日本的商品總值超過日本出口給臺灣的商品總值 (D)臺灣和日本都是 WTO 的會員國。

◎請依據下文，回答 18-20 題：(L.2)

新聞報導如下：南韓度過 1997 年的亞洲金融風暴以後，國內生產毛額（GDP）有顯著的提升，其中文化產業的蓬勃發展功不可沒，尤其在影視、音樂、電玩產業等領域，最高曾占國內生產毛額將近 7% 的產值。透過韓劇在亞洲的熱賣，不僅提升大韓民族的形象，更創造顯著的經濟利益，像是到訪南韓的觀光人數因為韓劇的熱賣而大幅增加。南韓文化產業除了帶動觀光產業的成長，連帶著食品、文具和服飾等商品也都跟著熱賣起來。

18. 綜合上述內容判斷，下列何者最適合作為本文主題？

- (A)文創產業帶來南韓的經濟成果 (B)南韓在亞洲四小龍中的發展與衰微  
(C)南韓企業在全球經濟中的角色 (D)戲劇融入南韓民族意識已成為潮流。

19. 下列選項中攸關南韓經濟發展的歷程，何者與臺灣與日本的发展經驗有著不同的差異？

- (A)各種礦產資源匱乏皆需仰賴進口 (B)曾以發展加工出口區工業為基礎  
(C)各國政府極力扶植大財團為目標 (D)目前皆致力於發展高科技工業。

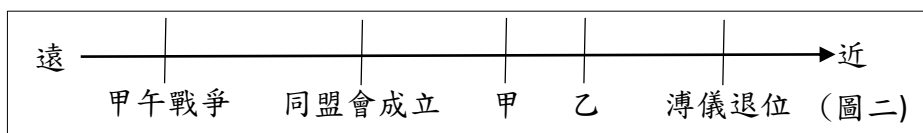
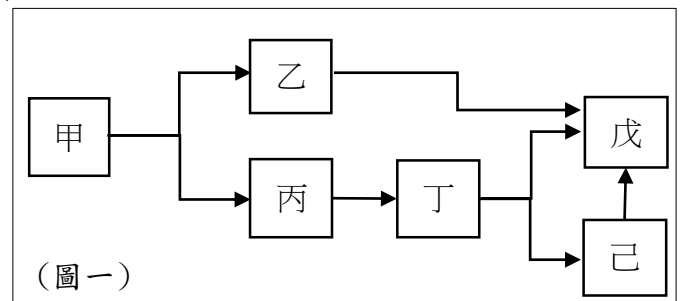
20. 南韓政府近年來積極在首爾市西南方積極擴建仁川港，希望藉由和中國及其他國家的經貿往來，增加港口吞吐量。由地緣關係判斷，南韓政府宜優先考量就近與中國哪一地區合作？

(A)環渤海地區 (B)新疆喀什經濟特區 (C)珠江三角洲地區 (D)長江三角洲地區。



【歷史部份】範圍：第四篇 第一、二章第 21～33 題，每題 2 分，第 34～40 題，每題 1 分，共計 33 分

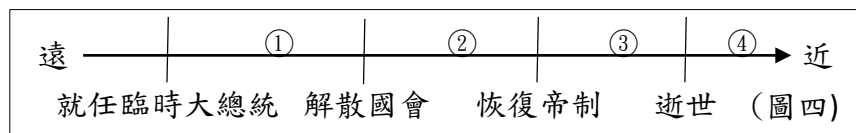
21. 民國初期，中國的報章雜誌報導某事件時提到：「工人商人們高喊『中國的土地可以征服而不可以斷送』」、「其影響促成中國共產黨成立，為中國政局帶來劇變」、「學界抗議中國主權受到侵奪，認為這是外交上的大失敗」。
- 請問：他們報導的應是下列何事？(L2)
- (A)新文化運動(B)聯俄容共政策(C)中國簽署巴黎和約(D)五四運動。
22. 孫中山曾說：「本黨係容許共產黨員的個別加入，並非容許共產主義的加入，凡加入本黨者，須奉行三民主義，違者受黨紀制裁」。(L2)
- 請問：文中所指「本黨」應是下列哪一個組織？兩黨聯合的目的是什麼？
- (A)同盟會；為推翻滿清(B)進步黨；為反洪憲帝制(C)中國國民黨；為反軍閥(D)國民黨；為反日
23. 日本在中國近代史侵略與干預甚多，下列中國近代史事件何者與日本有關？(L2)
- (A)協助成立黃埔陸軍軍官學校 (B)炸死軍閥張作霖，間接使東北改旗易幟
- (C)支持中國軍閥發動復辟事件 (D)協助孫中山改造中國國民黨。
24. 新文化運動對中國產生思想與社會文化衝擊，下列哪一段文字所表現的精神與新文化運動的訴求不相符？(L2)
- (A)「國人欲脫蒙昧時代，羞為淺化之民也，則急起直追，當以科學與人權並重」(B)「發揚國學，保存國粹；傳統國學存，則國存；國學滅，則國亡」(C)「普及教育，鼓吹女子政治思想，養成高尚之女國民，以促進共和之進行」(D)「今效漢武之術，獨尊孔子，則學術思想之專制，為禍之烈，遠在政界帝王之上」。
25. 「他曾經是立憲派，也參與過清末的政治改革，可惜未能成功。民國建立後，曾組織政黨參與國會選舉，主張實行總統制。」請問：以下何人符合這樣的敘述？(L1)
- (A)宋教仁 (B)孫中山 (C)梁啟超 (D)李鴻章
26. 「寫給我的阿兄：自從上次相見，我們之間已經相距幾萬里。我工作得很好，不用為我擔心。我每天掙三法郎，但生活昂貴，目前我尚沒有能力寄許多錢回家……請照顧我們的爹娘，我將在三、五年內回來，那時我會攜回足夠的錢讓他們度過以後的日子。」這是一封在民國初年從歐洲寄回到中國的信，當時因某一事件的原因，使得一些中國人成為了華工，到歐洲戰場上工作。請問：下列哪一項敘述最接近這封信撰寫的年代？(L1)
- (A)國民黨發起二次革命，武力討袁 (B)段祺瑞宣布參與第一次世界大戰
- (C)溥儀復辟，再度登基恢復清王朝 (D)孫中山當選為第一任臨時大總統
27. 方芳根據教材整理了民初政府的變化，根據她畫的圖(一)，請問從甲政府分裂成乙政府和丙政府，是因為發生了何事？(L1)
- (A)黎元洪實施洪憲帝制，引發國民黨反對
- (B)孫文號召議員南下廣州護法，另立政府
- (C)上海發生五四運動，上街抗議宣布獨立
- (D)梁啟超在中華民國成立後再度發起革命



(圖三)→



32. 圖(四)為民初某人的一生時間軸。中華民國在建國後，有一段時間內部發展非常不穩定，陷入軍閥混戰的局面。



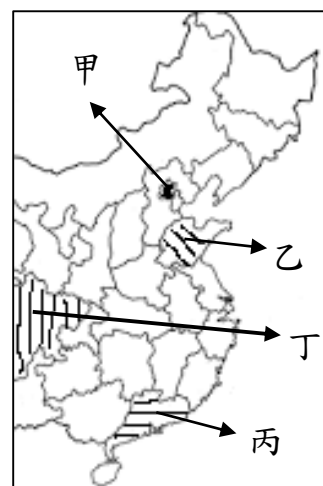
請問：這樣的情形它應該是發生在圖(四)中的哪一階段？(L1)

- (A)① (B)② (C)③ (D)④

33. 「清朝基於對國防與財政考量推行此政策，但對於補償方式的處置卻不甚公平，因此引發□的民眾發起抗議，罷工、罷課、罷市，甚至催化了革命行動……」根據這則資料判斷，□是指圖(五)的何處？(L1) (A)甲 (B)乙 (C)丙 (D)丁

34. 第一次世界大戰後的中國學運出現「廢除二十一條」的主張，請問：下列關於「二十一條」的說明何者正確？(L2)

- (A)「二十一條」使日本佔據中國領土具合法性，最後北京政府簽署巴黎和約  
(B)日本對袁世凱提出「二十一條」，袁世凱為稱帝接受全部的條約  
(C)二十一條要求同意由日本繼承德國在山東勢力範圍  
(D)日本因為中國違反「二十一條」，而製造五三慘案。



35. 2021 年中國共產黨成立百年，回顧中國共產黨的成立與發展，影響中國歷史甚鉅，下列事件何者與中國共產黨有關？

- (A)參與二次革命(B)讓蔣中正展開清黨 (C)使中國爆發五四運動(D)提出「打倒孔家店」推崇西化。(L2)

36. 1928 年蔣中正致電給「某將領」，讚許他「協助完成統一，捍衛邊防，併力一心，使中國在四分五裂近 20 年後，終於實現全國統一。」請問：這位將領應為下列何人？(L2)

- (A)黎元洪 (B)段祺瑞 (C)張學良 (D)李大釗

37. 米卡莎在她的報告資料中介紹了以下人物經歷

人物一：鄭毓秀，中國歷史上第一位女性博士、女性律師、省級女性政務官及地方法院女性院長與審檢兩廳長。

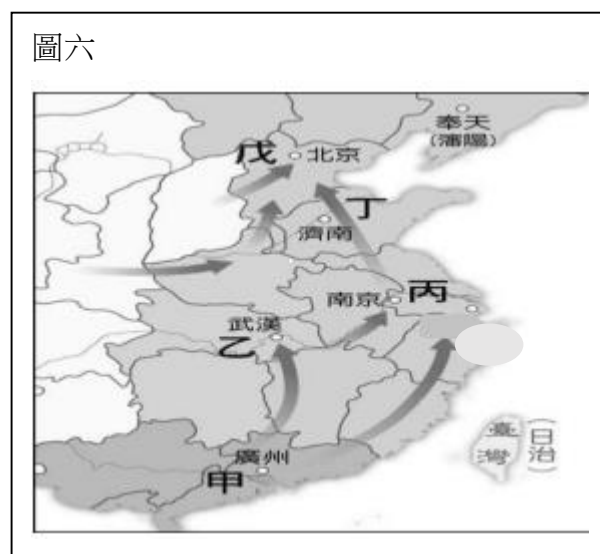
人物二：陳衡哲，擅長西洋史，並受蔡元培之邀成為北京大學第一位女教授，同時也是中國第一位女教授。

人物三：楊步偉，1913 年赴日本，到東京女子醫學院學醫。1919 年學成回國，在北京創建「森仁醫院」。

請問：米卡莎的報告內容應為下列何者？(L2)

- (A)《白話文運動小說中的女性地位》  
(B)《民初婦女參政的情況》  
(C)《五四運動後的新女性形象》  
(D)《新文化運動新思潮的引進》。

38. 右圖六是蔣中正北伐路線圖，關於此戰事的分析下列何者正確？(A)北伐完成後的國民政府位於丙地(B)北伐武力來自甲地學校，訓練方式應為日式風格(C)共產黨曾勾結國民黨控制戊地政府，造成分裂(D)這場戰役主要討伐對象為蘇聯與共產黨。(L1)



#### 題組一：請根據資料，回答 39~40 題(L1)

資料一 中國數千年以來，習於君主專制體制……四年以前，由專制一變而為共和，此番變動太快，難望有良好結果……中國將來必因總統繼承問題「釀成禍亂」……如一時不立即撲滅禍亂，可能導致敗壞中國之獨立……中國如用君主制，較共和制為宜，此殆無可疑者也。

資料二 大總統鑒：仁本夜乘滬寧車赴京敬謁鈞座，十時四十五分在車站突被奸人自背後施槍……今國本未固，民福不增，遽爾撒手，死有餘恨。伏冀大總統開誠心布公道，竭力保障民權，俾國家得確定不拔之憲法，則雖死之日，猶生之年。臨死哀言，尚祈鑒納。

資料三 清帝辭位，仍可保留尊號，暫居宮禁，日後移居頤和園；民國政府待以外國君主之禮，給以歲用四百萬元，其宗廟、陵寢及清帝私產，亦由民國政府予以保護，滿清皇族及滿、蒙、回、藏各族均依法予以優待。

39. 根據資料判斷，請問：以上三則資料出現的順序應是如何？

- (A)一→二→三 (B)三→二→一 (C)二→三→一 (D)三→一→二

40. 在資料二發生前，當時的政局發展是處於何種情況？

- (A)國民黨贏得國會大選 (B)袁世凱廢除臨時約法 (C)國民黨發起二次革命 (D)黎元洪與段祺瑞爭執



【公民部分】範圍：第四冊 第 1 章、第 2 章《配分》41~53 每題 2 分；54~60 每題 1 分

41. 2011 年北非的利比亞發生革命，推翻軍事強人格達費在位長達 42 年的獨裁統治。這 42 年間的利比亞是由格達費一手把持國家政治與經濟資源而不被約束的『人治社會』。請推論在獨裁統治期間的情勢，下列敘述何者為非：(L1)
- (A) 格達費的權力受到法律的約束 (B) 格達費的絕對權力凌駕於法律之上
- (C) 法律是格達費管理國家與控制人民的工具 (D) 法律的目的是保障格達費的權力。
42. 小黑原本擔任遊覽車駕駛，因新冠肺炎疫情海外觀光客銳減被公司裁員。現在的他因為想要自行開小吃店，正在新北市職訓局所開辦的餐飲課程中上課。其妻小白決定報考公職，目標是擔任當地區公所之公務員。請問夫妻兩人分別可以實現憲法當中的何種權利？(L1)
- (A) 平等權，受益權 (B) 平等權，參政權 (C) 自由權，受益權 (D) 受益權，參政權。
43. 小高 18 歲生日當天(甲)報名駕照考試，順利通過領取駕照。開車上路後，便(乙)誤闖紅燈被處以 1800 元的罰款。小高擔心又不慎違反交通規則，決定搭乘捷運上下班，豈料又因(丙)未於大眾交通工具上戴口罩而受罰。請問，文中哪些敘述屬於行政管制？(L2)
- (A) 甲 (B) 甲乙 (C) 甲乙丙 (D) 乙丙。
44. 日前某中醫診所發生違法開立硃砂一事，衛生局依違反《醫師法》(甲)裁罰 10 萬元，針對醫師未詳細記載配置用藥內容於病歷，(乙)依違反《醫師法》裁罰 2 萬元，並停止門診業務一個月。衛福部則(丙)要求各縣市衛生局限期清查轄內中醫診所、中藥房等，另與環保署毒物及化學物質局合作，(丁)對列管化學物質進行流向管理。有關上述畫線中政府的處理方式，下列何者說明有誤？(L2)
- (A) 甲：裁罰金額是違反行政法處以的罰款 (B) 乙：藉由處罰方式限制政府權力的侵害
- (C) 丙：透過命令的形式來排除危害的行為 (D) 丁：對違規者是處罰，對民眾是種保障。
45. 屏東某餐飲業因為員工自願連續工作 21 天不休假，依違反《勞動基準法》開罰 2 萬元。業者澄清員工是自願要求加班以增加收入，自己只是成人之美，認為開罰沒道理。請問，業者若對開罰不服，依法應先以下列何種方式進行權利救濟？(L2)
- (A) 向勞動部提起訴願 (B) 向轄區派出所請願 (C) 向行政法院提起訴訟 (D) 向大法官聲請釋憲。
46. 今年元旦開放含萊克多巴胺的豬肉進口後，各縣市政府紛紛稽查業者是否有按照規定標示肉品產地。政府提醒食品業者必須遵守《食品安全衛生管理法》，違者最高裁罰 300 萬元，標示不實的話最高處以 400 萬元的罰款。關於上文何者敘述正確？(L2)
- (A) 衛生局是採取登記的手段限制人民權利 (B) 違反上述法律是以剝奪自由作為處罰方式
- (C) 文中罰款必須透過法院之判決始得宣告 (D) 政府取締或開罰違規攤販是一種行政管制。

題組一：

因應犯罪手法日新月異，法務部日前擬定《科技偵查法》草案，授權檢、警機關在偵查犯罪時，可使用 GPS 定位追蹤、於隱私空間錄音錄影，以及遠端入侵手機與電腦，監控 Line 與 FB 等通訊軟體。民間司改會表示此法有侵犯人民權利的疑慮，宜審慎考量。對此法務部代表回應，依照《科技偵查法》的適用對象為犯罪者，在限制基本權利時亦會符合比例原則。

47. 文中《科技偵查法》之相關敘述何者正確？(L1+L2)
- (A) 屬於法務部依其職權所訂定的命令 (B) 民間司改會擔憂民眾的自由權受到侵害
- (C) 法務部提案是為了保障行政救濟的權利 (D) 此法通過後將賦予檢警機關監控全民之權。
48. 文末法務部代表的回應，最能說明下列哪項行政法之特色？(L2)
- (A) 行政法並非獨立法典，是泛指國家行政權行使的法規 (B) 行政法將憲法對於人民權利的保障與政府組織具體化
- (C) 行政法會明定行政行為必須依法行政，避免政府濫權 (D) 人民因故意或過失違反行政法規時，應承擔行政責任。

題組二：

2012 年台北市士林地區王家地主不同意所擁有的兩塊土地和建物，被包含在臺北市府核定的都市更新範圍內，經由建設公司擔任實施者規劃都市更新計劃興建成住宅大樓。在強制拆除的過程中，引發一連串社會運動。有上百名聲援王家的民眾集結，從凱達格蘭大道轉往包圍台北市長宅邸，要求市長為市政府暴力拆遷士林王家合法民宅的行徑擔負起政治責任。而王家(甲)向台北市政府提出訴願後，(乙)提起行政訴訟救濟未果，決定聲請釋憲。下述為釋憲的相關報導：

釋字第 709 號中，大法官認為上述《都市更新條例》與《憲法》要求的正當行政程序不符，對保障人民(丙)財產權與居住自由有不利影響，相關機關應依本解釋意旨就違憲部分，於本解釋公布之日起一年內檢討修正，逾期未完成者，該部分規定失其效力。

49. 在此案釋憲程序中所提及的(甲)(乙)(丙)應屬於憲法上的何種基本權利？(L1)
- (A) 平等權 (B) 自由權 (C) 受益權 (D) 參政權。

50. 當年聲援的民眾集結在凱達格蘭大道進行抗議活動，可謂是展現憲法中的何種權利？(L1)  
(A) 人身自由權 (B) 集會自由權 (C) 結社自由權 (D) 訴願權。
51. 請問：文中解釋憲法的機關應為：(L1)  
(A) 大法官會議 (B) 高等法院 (C) 行政法院 (D) 立法院。
52. 由大法官解釋中可由法律的位階來看，《都市更新條例》位階低於《憲法》規定，牴觸憲法所以無效。可知憲法具備何種特性？(L1)  
(A) 固定性 (B) 最高性 (C) 原則性 (D) 穩定性。
53. 請找出有關於《憲法》正確的敘述：(L1)  
(A) 憲法由國民大會制訂 (B) 憲法修正案由司法院提出  
(C) 憲法修正案最後將交付人民複決 (D) 解釋憲法將由法務部負責。
54. 《都市更新條例》明確指出都市更新計畫之目的是為了復興都市機能，改善居住環境與景觀。可推論此法規範的目的在於：(L1)  
(A) 避免緊急危難 (B) 維持社會秩序 (C) 增進公共利益 (D) 實踐主權在民。
55. 在《都市更新條例》的法律授權下內政部頒布《都市更新條例施行細則》，以明確法律規定申請都市更新的條件以及所需的程序。由上述推論《都市更新條例施行細則》有何特性：(L1)  
(A) 被稱為根本大法 (B) 若欲修正依法由行政機關通過  
(C) 是為狹義的法律 (D) 若欲修正依法由立法院通過。
56. 由《都市更新條例》可知，當政府行使權力可能侵害到《憲法》保障人民的財產權時，必須以法律明文規定以避免政府濫權。請問這樣的設計將可達到以下何種目的：(L1)  
(A) 行政機關修改不合時宜的命令，才能保障人民的權利 (B) 法律制定生效後，對於違法者即產生約束的作用  
(C) 法律規範政府的作為，而人民的權利受到法律的保障 (D) 法律是由民意代表所制定，也能展現人民的意思。

題組三：

有鑑於電子菸氾濫、有損民眾健康，新北市日前討論將制定《新北市電子菸及加熱菸具管理自治條例》，該草案明定新北市共一萬多處為禁菸場所，違法吸食電子菸或加熱菸者將裁罰 2000 元到 10000 元，提供者也將處以 10000 元到 15000 元。期盼透過自治條例的規範，幫助孕婦和青少年遠離電子菸及加熱菸的傷害。

57. 文中畫線處之法律責任何者敘述正確？(L2)  
(A) 法規違反憲法保障之自由權而無效 (B) 科處罰鍰之前須經由法院審判並宣告  
(C) 裁罰的金錢屬於繳給被害人的賠償 (D) 行政機關處以罰鍰必須依照法律規定。
58. 關於文中內容之敘述何者正確？(L1+L2)  
(A) 此自治條例的制定是由立法院三讀，總統公布 (B) 人民若不服自治條例的內容，可提起行政訴訟  
(C) 政府採取行政管制措施是為了維護公共利益 (D) 文中之裁罰金額是屬於違反行政法規的罰金。

題組四：

為了防止新冠肺炎疫情蔓延，衛福部規定高風險者須進行居家隔離或居家檢疫。依照《傳染病防治法》與《嚴重特殊傳染性肺炎防治及紓困振興特別條例》規定，居家隔離卻擅自外出的民眾，可開罰 20 萬至 100 萬元，期望民眾共同配合防疫政策，守護國人健康。

59. 居家隔離與居家檢疫者於檢疫期間，受到限制的基本權利類型與下列何者相同？(L1)  
(A) 依自己的理念加入志同道合的政黨 (B) 向政府請求保留社區的特色建築  
(C) 保障不同性別在相同職位有相同報酬 (D) 參加國家舉辦的考試成為公務人員。
60. 請根據上文內容判斷下列敘述何者正確？(L2)  
(A) 政府處以罰鍰之目的是為了增加國庫收入 (B) 居家檢疫者擅離住處是違反行政法之義務  
(C) 人民認為行政管制不公可向行政機關提起訴訟 (D) 政府為避免疫情擴大可先處分人民再制定法規。

# 新北市永和國民中學 109 學年度第二學期第一次段考八年級社會科解答

【地理科】(1-14題每題2分，15-20題每題1分，共34分)

1	2	3	4	5	6	7	8	9	10
C	C	D	C	B	B	D	D	A	B
<b>11</b>	<b>12</b>	<b>13</b>	<b>14</b>	<b>15</b>	<b>16</b>	<b>17</b>	<b>18</b>	<b>19</b>	<b>20</b>
C	B	D	B	A	A	A	A	C	A

【歷史科】(第 21～33 題，每題 2 分；34～40 題，每題 1 分，共 33 分)

21	22	23	24	25	26	27	28	29	30
D	C	B	B	C	B	B	A	D	C
31	32	33	34	35	36	37	38	39	40
C	D	D	C	B	C	C	A	B	A

【公民部分】(第41-53題每題2分，54-60題每題1分，共33分)

<b>41</b>	<b>42</b>	<b>43</b>	<b>44</b>	<b>45</b>	<b>46</b>	<b>47</b>	<b>48</b>	<b>49</b>	<b>50</b>
A	D	C	B	A	D	B	C	C	B
<b>51</b>	<b>52</b>	<b>53</b>	<b>54</b>	<b>55</b>	<b>56</b>	<b>57</b>	<b>58</b>	<b>59</b>	<b>60</b>
A	B	C	C	B	C	D	C	A	B