

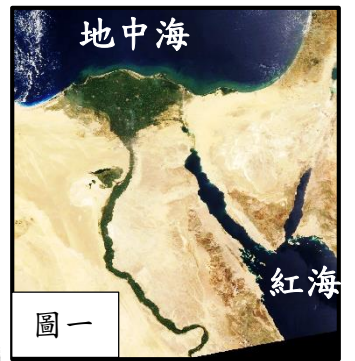
# 新北市立永和國民中學 109 學年度第二學期第一次段考 九年級社會科試題

## 【地理部分】範圍：第六冊 單元一、單元二

單選題：第 1~14 題每題 2 分，共 28 分；第 15~20 題每題 1 分，共 6 分；總分 34 分

1. 小妍搭著小飛機在世界各地旅遊時，無意間在窗外看到一幅影像（如圖一），請問小妍當時可能飛行到下列哪一運河附近？（L.1）

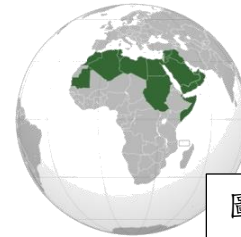
(A)京杭大運河 (B)巴拿馬運河 (C)中央大運河 (D)蘇伊士運河。



圖一

2. 圖二是好學的小誠在上完地理課後自行著色的筆記，請問小誠繪製的地圖主題最可能是下列何者？（L.1）

(A)非洲裂谷帶的分布 (B)非洲黑人的分布  
(C)熱帶栽培業的分布 (D)阿拉伯文化的分布。



圖二

3. 新聞報導：第 11 屆板球世界盃正在澳洲和紐西蘭舉行。傳統強國南非本次卻只是第 7 次參賽，因為該國昔日實施□□□□政策，國際板球理事會提出違反人權問題禁止該國參賽。在實施□□□□時代，當權者禁止在運動競賽上跨種族的競賽，於是到了 70、80 年代，各國際運動組織紛紛制裁南非，不讓南非代表參賽。請問：上述中的□□□□格內，最應該填入下列何者？（L.1）

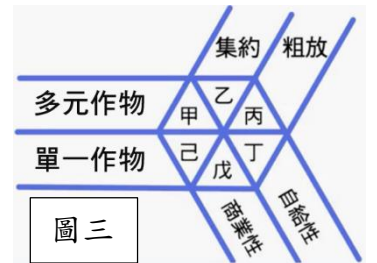
(A)種姓制度 (B)建立外債 (C)種族隔離 (D)壟斷市場。

4. 小暄：「19 世紀的非洲受到歐洲各國殖民的影響，發展熱帶栽培業」。

小懿：「北美大平原地廣人稀，發展高度機械化的北美洲農業。」

關於上述兩人對世界農業類型的報告，請判斷兩人的描述分別為圖三中的哪兩個類型？

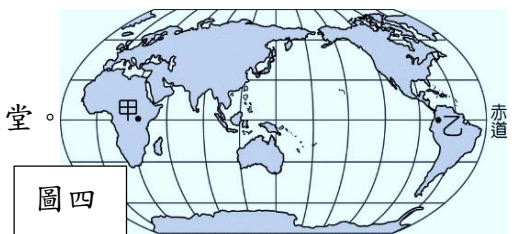
(A)小暄→甲，小懿→己 (B)小暄→己，小懿→戊  
(C)小暄→戊，小懿→丁 (D)小暄→乙，小懿→丁。（L.1）



圖三

5. 圖四中的甲、乙兩地，由於赤道通過，按理說會形成熱帶雨林的林相，但圖四中的甲、乙兩地卻不是此種氣候類型，甚至甲區的肯亞成為世界著名的野生動物觀光天堂。造成上述狀況的主要因素為下列何者？（L.1）

(A)地勢高低 (B)海陸分布 (C)洋流性質 (D)信風風向。



圖四

◎圖五是澳洲氣候圖，請根據此圖回答下列6-10題：（L.2）

6. 澳洲面積是全球第六大國家，在澳洲若是從不同方面遊玩會感受到不同地形或氣候景觀，請問下列哪項敘述錯誤？

(A)戊到乙：時間越來越晚，年溫差也因而縮小  
(B)乙到丁：地形會從平原→山地→平原→高原  
(C)己到丙到甲：產業從酪農業→牧羊→牧牛區  
(D)戊地往北出海：經過東印度群島→菲律賓→台灣

7. 2020年中國和澳洲曾經因為一些事情而有些爭執，進而衍伸到中國抵制澳洲產品進口，請問下列哪個產品最不可能是中國限制澳洲進口的貨物？

(A)葡萄酒 (B)小麥 (C)煤鐵礦物 (D)針葉林

8. 澳洲因為四面環海且與其他陸地隔絕，所以會有獨特的動植物和美景，請問下列哪一個國家最可能不具有這樣特色？

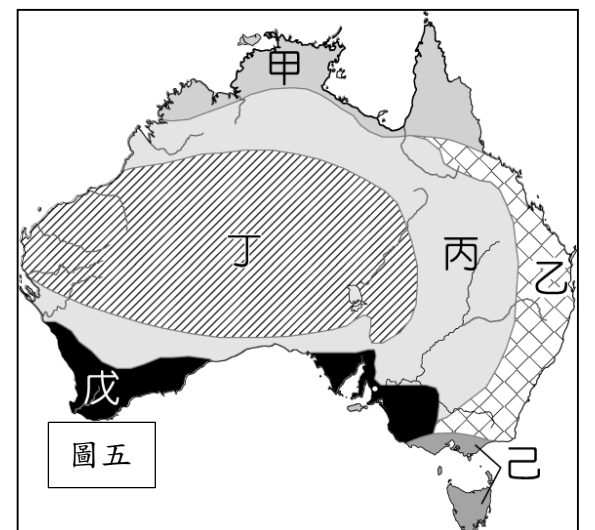
(A)馬達加斯加 (B)紐西蘭 (C)丹麥 (D)冰島

9. 網球界每年有四個盛大賽事：澳大利亞、法國、英國溫布敦和美國公開賽，其中澳洲每年一月最後兩個星期會在墨爾本舉辦澳洲網球比賽，台灣也可以在同一時間收看，請問對於墨爾本這個城市敘述何者正確？

(A)是全年有雨的溫帶海洋性氣候 (B)人口眾多歷史悠久是澳洲首都  
(C)比賽時屬於全年最涼爽的時候 (D)因人口多，產業屬於粗放牧羊業

10. 若是想看到澳洲的特殊取水方式-自流井，則去哪個地區最易看到？

(A)乙 (B)丙 (C)戊 (D)己



圖五

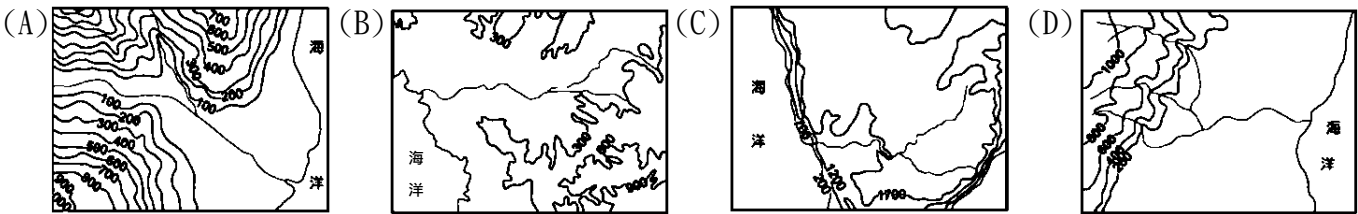
11. 小祐到非洲探險，並用圖六與下表記錄他的探險日記，請問下列小祐的探險日記哪一項可能小祐忙中有誤記錄「錯」了呢？（L.1）

(A)	甲區的埃及在聯合國教科文組織的協助下搬遷阿布辛貝神廟至鄰近高地。
(B)	乙區的象牙海岸是非洲石油出口量最多的國家，近年常被激進組織炸毀油管。
(C)	丙區的南非礦產資源豐富，如：鑽石、黃金，有利該區工業發展。
(D)	在19世紀列強瓜分非洲時，乙區與丁區期仍有主權獨立國家。



圖六

12. 非洲地形主體為高原，因海岸線陡峭平直、缺少天然港灣，故造成昔日歐人登陸困難，稱非洲為「黑暗大陸」。請問：若要呈現非洲海岸地形應使用下列哪一張等高線來表示？(L.1)



13. 圖七是澳紐兩國簡圖，請找出下列正確敘述？(L.2)

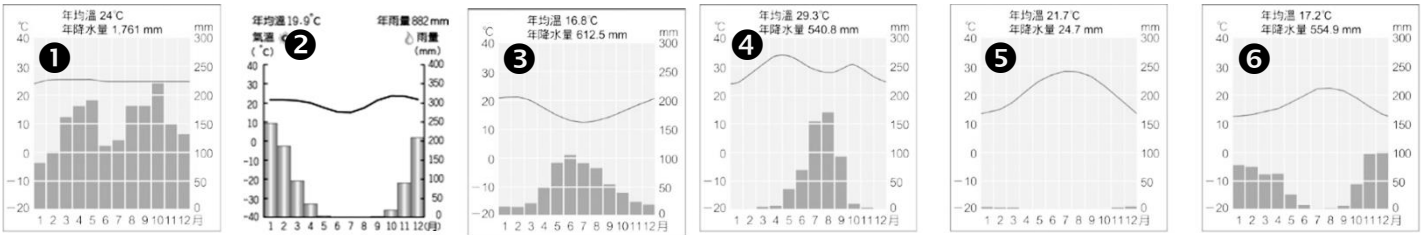
- (A)丙地區可以看到火山地形，還可以看到當地原住民-因紐特人  
(B)甲地區在2月時是乾旱季節，之前還曾經發生嚴重的森林大火  
(C)丁地區因迎西風和暖流經過，全年有雨，氣候類似阿根廷南部  
(D)乙因迎東南信風和暖流經過，年溫差小，氣候類似美國東南部

14. 承上題，紐西蘭皇后鎮(丁附近)近年因為有全球最大的盪鞦韆而聞名，在高空以超快的速度擺蕩330公尺的弧行線，相當於3座足球場的距離，你將會被吊掛在山谷的上方，先經過70公尺高自由落體考驗，然後瞬間被放開，時速更是最高達每小時144公里。請問關於皇后鎮此城市敘述何者錯誤？(L.2)

- (A)有可能玩時遇到地震 (B)當地雨量多有牧牛業 (C)在U型谷中盡情擺盪 (D)屬於美拉尼西亞島群



◎圖八是非洲地區的氣候分布圖，請依圖上代號，依序回答15~17題。(L.1)



15. 將圖八中的非洲氣候區代號和上面各個氣候圖配對，請問下列哪一個配對完全「正確」？

- (A)甲→① (B)乙→②、④ (C)丙→⑤ (D)丁→②、⑥。

16. 人類受氣候影響各地的生活方式不同。若將圖八中非洲的各種氣候類型與人類生活方式加以配對，何者「正確」？

- (A)甲-當部落裡的土地肥力耗竭，使食物供應量減少時，就會將該地棄置，尋找另一塊地生活。  
(B)乙-雨季與作物的生長季無法配合，故種植耐旱的作物，如：葡萄、橄欖。  
(C)丙-受殖民影響，大規模種植單一經濟作物，如：咖啡、可可，以外銷導向為目的。  
(D)丁-利用河水夏季定期氾濫，所形成的淤泥形成河口三角洲，發展灌溉農業，種植棉花。

17. 圖八中的己氣候區面積雖小，但卻因氣候較溫暖濕潤，適合居住。請問：非洲己區氣候暖濕的主因為何？

- (A)迎東南信風 (B)緯度較低 (C)本吉拉洋流流經 (D)海拔高度較高。

◎2019年台灣原有多不少的邦交國中，又有兩國--索羅門群島與吉里巴斯宣布與臺灣斷交(國旗如圖九)。其中索羅門群島(左)位於東經 155~168度、南緯5~12度之間，而吉里巴斯(右圖)也面臨到與吐瓦魯一樣命運，但2014年宣布買下斐濟第二大島土地，未來可能移民過去。請根據此段敘述回答18-19題：(L.2)

18. 索羅門群島擁有超過990多個島嶼，請問如果想要仔細看這些島嶼分布情形，該如何做？以及就經緯度位置來看會屬於大洋洲哪一群島？

- (A)換成大比例尺，美拉尼西亞 (B)換成小比例尺地圖，印度尼西亞  
(C)換 1:10000000 地圖，玻里尼西亞 (D)換 1:100000 地圖，密克羅尼西亞



圖九

19. 敘述中提到吉里巴斯遇到和吐瓦魯一樣問題，這最可能指下列哪一個問題？

- (A)乾旱大水 (B)地下水鹽化 (C)海平面下降 (D)海岸線前進

20. 下表為小金自己針對南北極做出的筆記，請幫他判斷下列筆記代號與配對答案何者錯誤？(L.2)

- (A)甲-北美洲 (B)乙-平原大陸 (C)丙-印度洋 (D)丁-2月

	北極	南極
周圍位置	被歐洲、亞洲和甲包圍	周圍有南美洲、非洲和澳紐
溫度	較溫暖，因為本身是海洋	較冷，因為本身是乙
海洋	有太平洋、大西洋	有太平洋、大西洋和丙圍繞
產業或特色	有原住民、目前有礦產爭奪和西北航線爭議	可以在夏季丁月過去觀測天文和科學研究



【歷史部份】範圍：第二篇 第一章～第二章 第 21～33 題，每題 2 分，第 34～40 題，每題 1 分，共計 33 分

21. 日劇仁醫主人翁緒方洪庵被尊稱為「日本近代醫學之父」。他年輕時曾到長崎向荷蘭醫生學習，後來於大阪成立西醫診所，並且開辦「蘭學塾」，門下人才輩出，對近代日本歷史發展影響深遠。請問：「蘭學」的出現與何者相關？  
(A)耶穌會傳教士訪日 (B)江戶幕府實施鎖國政策 (C)明治天皇推行維新運動 (D)中日甲午戰爭戰勝。(L1)
22. 從近代歐洲藝術風格變化中可窺見世界歷史的演進。若依照以下畫作風格出現的先後順序，何者正確？  
(A)甲→乙→丙→丁 (B)乙→丁→丙→甲 (C)丙→甲→乙→丁 (D)丁→乙→甲→丙。(L1-2)



23. 右表中十九世紀國際局勢重要人物的談話內容，請判斷哪些代號談論的是同一件事？(A)1. 3. 4. (B)2. 3. 4 (C)3. 4. 5. (D)2. 4. 5.。(L1)
24. 圖(一)為美國重要的外交政策主張，請問何者與之**最為相關**？(L1-2)  
(A)門戶開放政策 (B)美國參加一戰 (C)鞏固美洲國家獨立 (D)日本解除鎖國。

圖(一)

- 1 美國的政治制度與歐洲截然不同。  
2 歐洲的政治勢力不能擴張到美洲。  
3 美國不干涉歐洲事務。

- 1.當前各種重大問題，不是說空話或是多數表決所能解決的一要救日耳曼，只有靠鐵和血！  
2.我願率領紅衫軍作戰，並把得來的土地獻給國王。  
3.恢復古羅馬光榮！恢復古羅馬光榮！完成國家統一，是當務之急的事情。  
4.我與國王合作無間，運用外交手段，謀求義大利的統一。  
5.我對高壓的西班牙統治深感憤慨。只有團結才能驅逐敵人，建立一個自由的政府！

【題組 1】19 世紀巴爾幹地區成為所有列強外交事務的中心，因而被稱為「歐洲火藥庫」。請根據資料回答問題：(L1-2)

資料一

表一

1912 年，第一次巴爾幹戰爭爆發，塞爾維亞、保加利亞、希臘三國分別佔領馬其頓地區。但由於三國利益分配不均，1913 年爆發第二次巴爾幹戰爭，最後保加利亞戰敗割讓土地。經過兩次巴爾幹戰爭後，各國之間情勢更加緊張。1914 年，此地區爆發第一次世界大戰。

甲	主張大斯拉夫主義，企圖控制黑海地區
乙	國家統一後，想控制中歐和中東通道
丙	視本地區為貿易經濟商品的重要來源
丁	欲掌握前往印度的重要貿易通道

25. 歷史上，巴爾幹半島地區曾經歷過不同政權統治，因而形成較為複雜的形勢。請問以下哪個帝國**並未統治**過該地區？  
(A)亞歷山大帝國 (B)阿拉伯帝國 (C)羅馬帝國 (D)鄂圖曼土耳其帝國。
26. 依照資料一內容判斷，1913 年第二次巴爾幹半島戰爭爆發的主要原因為何？  
(A)王儲遭到暗殺 (B)宗教種族紛歧 (C)脫離異族殖民 (D)各國領土糾紛。
27. 表(一)為歐洲列強當時在巴爾幹半島的利益盤算，何者較為符合俄國的主張？(A)甲 (B)乙 (C)丙 (D)丁。

【題組 2】右圖(二)兩則歌詞擷取自德國及義大利的國歌，請依照內容回答問題：(L1)

28. 請判斷這兩首國歌共同呈現的思潮為何？  
(A)民族主義(B)寫實主義 (C)帝國主義 (D)共產主義。
29. 德國與義大利國家統一運動中共同遭遇的阻礙為何？  
(A)關稅同盟 (B)法國與奧國 (C)西班牙與葡萄牙 (D)英國與俄國。

圖(二)

西元1841年，一位日耳曼詩人寫了以下詩句，其後被德意志帝國選為國歌歌詞。

德意志，德意志，高於一切，  
高於世間所有萬物；  
無論何時，為了保護和捍衛，  
兄弟們永遠站在一起……  
德意志的婦女，德意志的忠誠，  
德意志的美酒，德意志的歌聲；  
遍及世界，  
永遠保持他們古老而高貴的名聲……  
統一、正義和自由，為了德意志祖國；  
讓我們一起為了這個目標而奮鬥，  
像兄弟那樣團結起來，手拉手，心連心，  
在繁榮昌盛的光芒中綻放，  
綻放，我們的德意志祖國！ (節錄)

西元1847年，一位義大利詩人寫了以下詩句，經譜曲之後稱為「義大利人之歌」。後來，義大利政府將它選為國歌。

義大利的兄弟們，祖國已經覺醒……  
讓我們加入軍團，  
準備好拋頭顱，準備好灑熱血，  
祖國在召喚我們……  
幾百年來受盡壓迫與嘲諷，  
全因我們不是一個民族，我們是分開的，  
且讓一面旗幟、一個希望將我們團結起來，  
我們統一的時刻到了……  
讓我們加入軍團，  
準備好拋頭顱，準備好灑熱血，  
祖國在召喚我們。 (節錄)

30. 右圖(三)為一戰期間，前線士兵一日作息的紀錄表，請問：其描述的戰爭型態最有可能發生在圖(四)中何處？  
(A)甲 (B)戊 (C)己 (D)辛。(L2)

5:00 - 破曉前，站崗半小時，警戒敵人來襲
5:30 - 食物配給：一杯朗姆酒
6:00 - 站崗、太陽升起時向敵軍開火
7:00 - 早餐
8:00 後 - 每日庶務：整理壕溝、武器，剩餘時間可補眠或寫信
12:00 - 午餐與飯後休息（1人值班）
17:00 前 - 每日庶務：整理壕溝、武器，剩餘時間可補眠或寫信
18:00 - 黃昏前，站崗半小時
18:30 - 黃昏後，站崗半小時
18:30-24:00 - 夜間工作（巡邏，挖壕溝，搭建鐵絲網，囤積、修補沙包）

圖(三)



圖(四)

【題組】根據本文，回答 31-34 題：（L1-2）

甲國政府發表聲明如下：

《皇儲弗朗茨·斐迪南及其妻子遭到乙國指使的刺客槍殺，乙國背後有丙國撐腰，主導這起刺殺事件，是為了阻撓我國在南部斯拉夫民族地區行使主權，以達到他們最終合併斯拉夫民族的目的，我國已對乙國宣戰，與我國屬同一民族的盟友—丁國也承諾會加入戰局…》

31. 丙國因支持乙國，捲入第一次世界大戰，參戰後對該國影響為何？  
(A)勢力深入巴爾幹半島 (B)成為新帝國主義國家 (C)引發反政府革命運動 (D)建立君主立憲體制
32. 甲國和丁國雖為盟友，但在 1860 年代曾經敵對甚至交戰，下列哪一個國家會支持丁國打擊甲國？  
(A)法國 (B)丹麥 (C)薩丁尼亞 (D)塞爾維亞
33. 「戰爭拖延對我國不利，軍需供應日益吃緊，為早日結束戰爭，我國應無限制使用潛艇，打擊協約國的海上運輸…」發布上述聲明的應是哪一國？  
(A)甲國 (B)乙國 (C)丙國 (D)丁國
34. 同上題，上述聲明付諸實行後，第一次世界大戰戰局因此有何改變？  
(A)同盟國在西線戰場取得勝利 (B)美國決定參戰加入協約國陣營  
(C)日本對同盟國宣戰出兵山東 (D)俄國退出戰爭協約國東線瓦解
35. 非洲曾被歐洲列強瓜分，留下不少後遺症，以下非洲國家所遭遇的問題，何者並非新帝國主義國家殖民所造成的？  
(A)突尼西亞發起反政府運動使執政者下台 (B)象牙海岸產可可豆是世界最大生產國  
(C)盧安達不同族群為爭奪政權而爆發內戰 (D)南非實行種族隔離政策族群問題嚴重

【題組】〈資料一〉和〈資料二〉是巴黎和會的決議，根據這兩份資料，回答 36-37 題：（L2）

割讓阿爾薩斯和洛林給法國，恢復法國在普法戰爭前的疆界，把原屬波蘭的領土歸還，薩爾煤礦區由法國代管，所有海外殖民地被戰勝國分配，萊茵河西岸的領土由協約國軍隊占領 15 年，東西岸 50 公里以內不得設防，歸還在山東的權益給中國，必須承認全部戰爭責任，承認對協約國平民犯罪…

〈資料一〉

對於●帝國統治下各民族，我們願見他們的國際地位獲得保證和確定，並對其發展自治給予最大程度的自由機會。  
關於各國對殖民地的權益的要求，應進行自由、開明和對公正的協調，當地居民的利益，應與管治權待決的政府的正當要求，獲得同等的重視。

〈資料二〉

36. 〈資料一〉是某條約內容，該條約嚴懲戰敗國，主要應由何人主導？  
(A)俾斯麥 (B)威爾遜 (C)勞合喬治 (D)克里蒙梭
37. 〈資料二〉是「十四點原則」部分內容，世界各地受此原則影響而興起哪一運動？  
(A)英國協助希臘脫離土耳其帝國 (B)孫中山聲討段祺瑞發起護法運動  
(C)威爾遜倡導和平組織國際聯盟 (D)林獻堂蔣渭水成立台灣文化協會
38. 某書寫著：「一位十九歲的學生保羅在學校教師的激勵下跟同學等參加國民志願兵，在接受嚴厲的新兵訓練後，就被派往前線作戰，戰爭的無情讓他有如活在地獄中，戰壕內都是老鼠、虱子，傳染病，保羅眼看同學們一個個陣亡…後來保羅因傷放假回到故鄉，發現前線與後方的差距很大，父親帶著他去向朋友炫耀，大家都相信政府的宣傳，以為德國很快打贏了，在學校裡教師依然激情的鼓動學生上戰場…」，第一次世界大戰帶來巨大破壞和災難，參戰國難辭其咎，文中保羅的祖國哪一措施助長戰爭爆發？  
(A)領導日耳曼地區統一 (B)擴張海軍爭奪殖民地 (C)煽動墨西哥反美 (D)鼓吹大斯拉夫主義

【題組】《唐頓莊園》是一部很受歡迎的電視劇，故事以英國考利伯爵夫婦的莊園為中心，時間從第一次世界大戰前夕跨越到 1920 年代，劇中考利伯爵有三位千金，隨著時代變遷，她們從一天換七次衣服日常起居都要有僕人打理的貴族名媛，到勇於追求自己理想的獨立女性…根據本文，回答 39-40 題：（L2）

39. 唐頓莊園的繼承者是長女瑪麗，她肩負家族重任，對保存莊園盡心盡力，在社交宴會場合她是受人矚目的焦點，這除了她優雅美麗的外表，也歸因她能掌握潮流趨勢，談吐得宜，引人注目…請問瑪麗與人交談提到佛洛伊德，她想談論的主題是甚麼？  
(A)立體派如何顛覆傳統 (B)潛意識會在夢境呈現 (C)放射性物質能廣泛應用 (D)時空與引力有相對關係
40. 么女茜碧善良又特立獨行，雖為貴族但平易近人沒有階級意識，她志願擔任戰地護士，狂熱投身社會運動…。請問茜碧加入示威遊行行列，她的訴求為何？  
(A)婦女有投票權 (B)廢除奴隸制度 (C)解除黨禁報禁 (D)放寬選舉財產限制

【公民部分】範圍：第三冊全＋第六冊第1、2章 配分：第41～53題每題2分，第54～60題每題1分，共33分

41. 1993 年柬埔寨制憲會議通過的新憲法正式生效，西哈努克登基成為國王，徹底結束了二十幾年來沒有國王的苦難。柬埔寨國會則由參議院、國民大會組成，前者擁有通過憲法、法律的權力，後者則代表全體國民行使修法、批准條約、質詢等權，「新國王僅起統治作用，不負責具體管理」，柬埔寨採立法、行政、司法三權分立。請問，下列敘述何者正確？(L1)

- (A)從民主政體轉型為獨裁政體 (B)總理及內閣掌握統治權，不受民意監督  
(C)柬埔寨修憲後成為君主立憲國 (D)國家元首變得不再世襲，國體發生轉變。

42. 小豪對於我國憲政運作充滿濃厚興趣，以下是他看到的部分資料內容：

- ✓ 主題：《農會法》第 46 條之 1 覆議案。  
✓ 處理過程：(1)○院 96 年 5 月 11 日通過《農會法》修正案。(2)△院 96 年 5 月 31 日移請覆議。(3)○院 96 年 6 月 11 日第 6 屆第 5 會期第 1 次全院委員會審查。(4)旋提同會期第 16 次會議以記名投票表決，並作成決議「原決議予以維持」。

請問，下列敘述何者正確？(L2)

- (A)○下個會期將行使考試委員人選同意權 (B)審定決算報告是○的工作  
(C)大法官負責審理△提出之正副總統彈劾案 (D)△可對○院長提出不信任案。

43. 新聞報導：「台中中醫診所爆發鉛中毒事件，衛福部對於傳統中藥行相關人員未訂妥管理辦法，『本院』認為衛福部行事消極、怠惰失職，提出◇。」請問，下列敘述何者正確？(L2)

- (A)總統提名行使◇權之委員 (B)『本院』提出◇後，送至司法院審理  
(C)◇可填入糾舉 (D)考核公務人員之任用資格是『本院』的工作。

44. 屏東縣枋山鄉人口外流嚴重，在台 1 線旁邊的濱海遊憩區原一度荒廢，鄉公所重新招商引進餐廳、露營、超商，活化閒置已久的公共設施，藉由收取業者租金、遊客停車費等方式，預計每年將為鄉庫帶進逾 400 萬的收入。請問，枋山鄉是透過何種方式來增加地方財源？(L3)

- (A)地方稅收 (B)公共造產 (C)中央補助 (D)規畫活動。

45. 嘉義縣衛生局擬定「嘉義縣電子煙危害防制自治條例」，經☆三讀通過，未滿 18 歲青少年吸食或持有電子煙將有法可管。請問，下列敘述何者正確？(L3)

- (A)嘉義縣議會具有監察權，監督縣政府落實情形 (B)嘉義縣與嘉義市屬於同一層級  
(C)政府防制電子菸屬於社會服務項目 (D)☆應填入立法院。

46. 請問，下列敘述何者正確？(L4)

- (A)小公：調降進口貨物的關稅將減少政府的財產稅 (B)民民：大量囤積醫用口罩將依《消費者保護法》開罰  
(C)阿加：政府調漲油電價格可以增加公營事業收入 (D)油仔：申請戶口名簿所繳費用是按負擔能力原則收取。

47. 高雄市前港區被民眾發現有人隨意棄置廢棄物，經環保局會同警察稽查發現，是清運業者未依規定處理、任意傾倒，傾倒物經採樣分析竟是有毒物質，不僅影響環境、甚至危害民眾健康，對清運業者開罰 249 萬元，並撤銷其清運許可證。請問，下列敘述何者正確？(L4)

- (A)政府處罰業者的目的是提供公共財 (B)開罰的 249 萬元將增加政府的規費收入  
(C)業者依照負擔能力原則繳納 249 萬元 (D)業者遭開罰是政府為了處理外部效果。

48. 請問，下列敘述何者正確？(L5)

- (A)一黨制國家的政府權力集中、政策連貫 (B)一黨專政的執政黨允許其他政黨挑戰執政地位  
(C)兩黨制國家只有兩個政黨，人民選擇少 (D)多黨制將合組聯合政府，但無法反映多元民意。

49. 郝棒一家人同住多年，郝媽媽已擔任兩屆的市民代表，因身體狀況不佳無法再參選下一屆，希望郝爸爸可以接棒。郝爸爸決定交付已滿 26 歲的郝棒來做，但希望郝棒參選行政首長，同樣能為當地服務，郝棒則與爸爸的想法一致。請問，下列敘述何者正確？(L6)

- (A)郝媽媽執政的地點在基隆市 (B)郝媽媽本就無法再參選，因市民代表僅能連任一次  
(C)郝棒將投入參選花蓮縣縣長 (D)郝家地點所領取的選票張數與屏東縣屏東市張數一樣。

50. 在課堂中，小杰介紹著家庭成員：(甲)我的爺爺雖然 85 歲，身體還很硬朗、(乙)奶奶年紀大，精神狀態不佳，已受監護宣告、(丙)爸爸年輕時偷東西，被判竊盜罪、(丁)媽媽先天聽障，需要他人協助、(戊)大哥不懂事，被褫奪公權、(己)姐姐過 18 歲生日，將對自己的行為負責。請問，不考慮小杰，上述六位家庭成員中，有幾個人具有投票權？(L6)

- (A)一人 (B)兩人 (C)三人 (D)四人。



公民課分組報告，主題是新冠肺炎(COVID-19)。請回答 51-54 題

51. 中儀從「全球化」的角度蒐集資料，下列資料選自衛生福利部疾病管制署新聞稿，其中哪些與「全球化」相關？  
(甲)東帝汶爆發本土疫情，即日起調整成中低風險國家 (乙)首批向國外購買的 AstraZeneca COVID-19 疫苗抵台  
(丙)國內腹瀉疫情上升，請民眾留意手部衛生與飲食安全 (丁)新增一例境外移入 COVID-19 病例，自日本入境  
(戊)清明連假民眾掃墓，請做好防蟲措施，防範恙蟲病威脅  
(A)甲乙丙 (B)甲乙丁 (C)甲乙戊 (D)甲丁戊 (L1)
52. 續上題，上題新聞稿內容具備傳播媒體「提供訊息」、「教育文化」的功能。純涵提出五個新事例【①②③④⑤】說明傳播媒體的功能，其中哪些是屬於「提供訊息」或「教育文化」的功能？  
①媒體報導：56 年最嚴重旱災，水庫蓄水跌破一成 ②經濟部水利署網站提供省水妙招，全民一起節約用水  
③政論節目「新聞小白話」預估抗旱措施成效 ④總統副總統現身 HBL 總決賽，總統親自頒發冠軍獎盃  
⑤《綜藝小集合》邀請 HBL 前八強的高校球隊來挑戰  
(A)① ② ③ (B)① ② ④ (C)① ③ ④ (D)② ③ ⑤ (L2)
53. 睦敏報告防疫期間的資訊倫理，她草擬五個項目，其中那些符合「資訊倫理」？  
(甲)透過疾病管制署建置的手機 App 了解疫情 (乙)好友群組出現新奇有趣訊息，立即分享到其他群組  
(丙)肉搜確診者曾經消費的店家 (丁)午餐時間戴口罩打菜，在個人位子上安靜用餐  
(戊)防疫期間採線上教學，教師不得將未經授權之資料上傳教學平台  
(A)甲戊 (B)丁戊 (C)乙丙 (D)丙丁 (L2)
54. 芷菱負責做最後結論，內容如下，請為這段結論選一個適當的標題？

去年 2 月 3 月新冠疫情爆發，我國全國上下為口罩忙碌奔波，民眾排隊買口罩，政府組成口罩國家隊，盡全力讓每個人都能買到口罩。同時段的美國、歐洲政府告訴民眾不需要戴口罩，美國疾病暨防治中心認為新冠病毒屬於接觸傳染，不是空氣傳染，只要保持適當距離，勤洗手即可。在我們的文化裡強調謹慎，在美國文化裡被視為恐慌。在歐美的東亞人、華人戴口罩被視為異類，甚至達到種族歧視的程度。

- (A)文化差異顯示文化優劣 (B)文化差異出現文化衝突  
(C)弱勢文化式微，產生自我認同危機 (D)強勢文化必定是正確的 (L1)

腎臟病患食用蔬菜都必須先切碎，以汆燙方式料理，以降低鉀離子，但蔬菜清脆口感全沒了。黃明發先生從「介質、養液、栽培方法」三方面研發，成功種出低鉀蔬菜，並創立品牌「腎食堂」，與研發團隊共同成立公司，將低鉀蔬菜商品化，造福腎臟病患者。



55. 根據上述內容，關於低鉀蔬菜的栽培方法，下列敘述何者正確？  
(A)這項發明專利在完成時就享有智慧財產權 (B)須向國家通訊傳播委員會(NCC)提出申請專利  
(C)「腎食堂」圖案受《智慧財產權法》保障 (D)「腎食堂」圖案須申請審查通過後，始取得商標權 (L2)

「PeoPo 公民新聞」是全球第一個由公共電視主導的公民新聞台，功能在於提供穩定且友善的平台，協助每位有意發聲的公民。既無編輯台管制審核，也無商業包袱，PeoPo 公民記者擁有選擇議題的自主權，關注議題十分多元。



56. 由上述內容可知公民記者的特質為何？ (A)符合媒體既定立場 (B)追求更高廣告收入 (C)實現媒體接近使用權 (D)屬於強勢文化的一部分 (L2)
57. 請問下列四例新興科技，何者與另外三者不屬於同一類別？  
(A)科學家用一隻冷凍雪貂遺體的基因，成功地複製另一隻雪貂  
(B)德國製生物泡棉空隙間存有微生物菌種，用於淨化水質  
(C)利用新一代基因檢測技術，可以對癌症患者提供精準醫療  
(D)疫情指揮中心使用電子圍籬技術對居家隔離、居家檢疫、自主健康管理者的活動範圍進行監控 (L2)
58. 擁有百萬訂閱者的 Youtuber 愛莉莎莎分享「喝橄欖油排膽結石」的民俗療法，引來醫界評擊，最後以下片、道歉收場。下列何者不是造成這項錯誤報導的原因？  
(A)為提升頻道訂閱人數 (B)未經充分查證 (C)缺乏專業素養 (D)欠缺媒體識讀能力 (L2)
59. 續上題，另一位由男變女的網紅「罔腰」自稱懷孕，在 20 萬粉絲追蹤的 IG 上曬超音波照，瞬間成為民眾議論的焦點。類似事件事後看來都是「明顯錯誤」的訊息，卻在粉絲的推波助瀾下在網路上迅速傳播。此種現象提醒網路使用者應重視何項議題？(A)媒體接近使用權 (B)資訊倫理 (C)爭取言論自由 (D)保障個人隱私權 (L2)
60. 智慧財產權的「合理使用」，是允許人們無須徵求所有權人的同意，就可以使用受保護的部分內容。請問下列行為何者屬於「合理使用」？  
(A)從非法網站下載多首歌曲來聆聽 (B)調整他人專利藥品的配方，製造新藥販售  
(C)下載多篇討論著作權的文章來研讀 (D)在電影院看電影，用手機錄下，回家觀賞

# 新北市立永和國民中學 109 學年度第二學期第一次段考九年級社會科答案卷

【地理科】：第1～14題每題2分，第15～20題每題1分，共34分

1	2	3	4	5	6	7	8	9	10
D	D	C	B	A	A	D	C	A	B
11	12	13	14	15	16	17	18	19	20
B	C	D	D	B	C	A	A	B	B

【歷史科】：第21～33題每題2分，第34～40題每題1分，共33分

21	22	23	24	25	26	27	28	29	30
B	D	B	C	B	D	A	A	B	C
31	32	33	34	35	36	37	38	39	40
C	C	D	B	A	D	D	B	B	A

【公民科】：第41～53題每題2分，第54～60題每題1分，共33分

41	42	43	44	45	46	47	48	49	50
C	A	A	B	B	C	D	A	D	D
51	52	53	54	55	56	57	58	59	60
B	B	A	B	D	C	D		B	C