

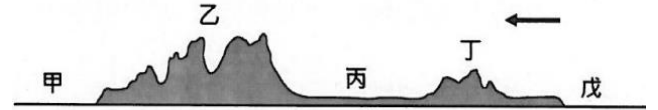
# 新北市立永和國民中學 112 學年度第一學期第二次段考 九年級社會科試題

## 【地理部分】範圍：第五冊 單元三、單元四

單選題：第 1~14 題每題 2 分，共 28 分；第 15~20 題每題 1 分，共 6 分；總分 34 分

1. 圖(一)為北美洲的地形剖面圖，下列哪一個同學的描述「完全正確」？

- (A) 柯南：可經巴拿馬運河，連接甲處的大西洋和戊處的太平洋
- (B) 元太：乙為安地斯山脈，屬於環太平洋火山地震帶的一部分
- (C) 步美：聖羅倫斯河流經丙區南部，土壤肥沃是重要的農耕帶
- (D) 光彥：丁為地質古老相對低緩的阿帕拉契山脈，但礦產豐富。(L3)

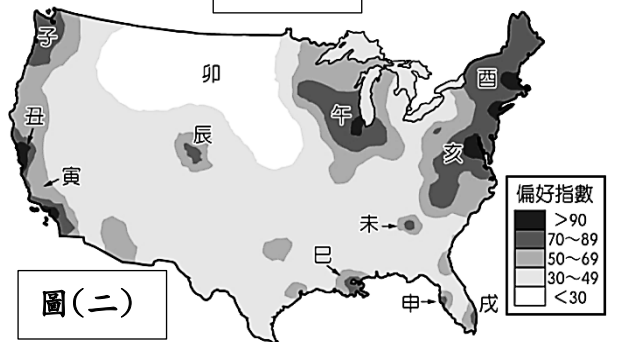


圖(一)

※圖(二)是美國大學生對居住及工作地選擇，抽樣調查結果所繪製的「偏好指數」空間分布圖，指數愈高則代表愈受大學生喜愛。請依序回答 2~4 題：(L3)

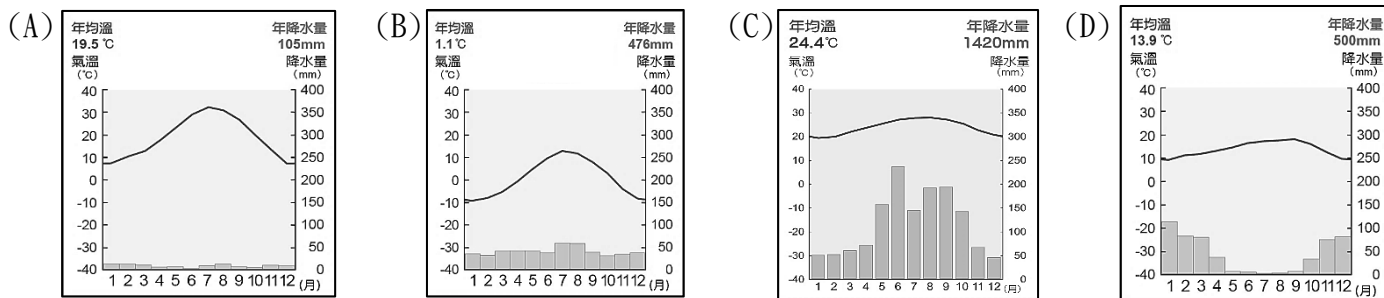
2. [丑地] 是美國大學生心目中偏好的居住及工作地之一，原因可能為何？

- (A) 礦產豐富，是美國傳統重工業發達的地區
- (B) 軟體、資訊業等高科技產業的發展與聚集
- (C) 歷史發展較早，是北美早期移民的根據地
- (D) 為美國金融重地，股票與證券交易所林立。



圖(二)

3. 下列哪一張可能是圖(二)[丑地]的氣候圖？



4. 圖(二)[卯地] 成為「偏好指數」偏低的區域，最主要是受制於哪兩個地理因素？

- 甲、冬季低溫經常有暴風雪；乙、區域經濟以農牧業為主；丙、人口密度較高居住品質差；
- 丁、位於活火山及地震帶上；戊、夏秋多颶風侵襲災情嚴重

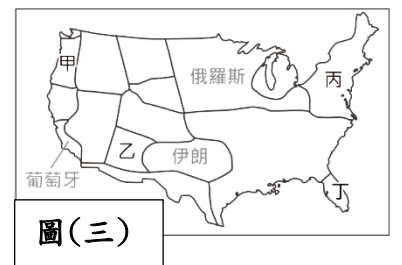
- (A) 甲乙 (B) 乙丙 (C) 甲丁 (D) 丁戊。

5. 美國具有多樣化的氣候類型，圖(三)是將美國各區域與世界上其他國家的氣候特徵相比，把具有類似氣候特徵的國家標示在該區域上。請問：「英國」最可能標示在圖(三)何處？

- (A) 甲 (B) 乙 (C) 丙 (D) 丁。(L3)

6. 承上題，圖(三)中與「伊朗」氣候類似的地區，主要是受到何種因素影響以致降水稀少？

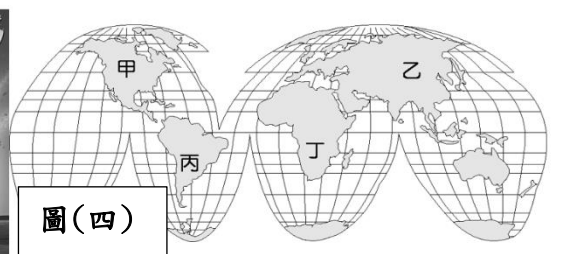
- (A) 赤道經過，受太陽直射故蒸發量大 (B) 副熱帶高氣壓壟罩，導致氣流下沉
- (C) 洛磯山脈的背風坡，擋住西風水氣 (D) 鄰近海邊，受加利福尼亞涼流影響。(L3)



圖(三)

7. 知名動畫《風中奇緣》內容主要描述印地安部落少女寶嘉康蒂和英國探險家約翰·史密斯相遇後發生的愛情故事，以及當地印第安人生活及土地不斷被維吉尼亞公司的商人侵占，被迫改變傳統的生活方式，最後由主人變成了當地的弱勢群體的經過。請由上述判斷，故事的背景應該是圖(四)中的哪一個地區？

- (A) 甲 (B) 乙 (C) 丙 (D) 丁。(L3+L4)



圖(四)

8. 圖(五)為美洲的人口分布圖，請由圖中資料加以判斷，下列敘述何者「錯誤」？

- (A) 墨西哥人口分布不均，人口主要集中於山間盆地的原因與氣候涼爽有關
- (B) 中南美洲都市化程度高，人口高度集中，主因是都市就業機會多拉力強
- (C) 加拿大東南部人口較為稠密，此區水運便利，也是傳統工業發達的地區
- (D) 里約與聖保羅為巴西精華區，是主要殖民者—葡萄牙人早期開發的地區。(L3+L4)

9. 美墨加協定(USMCA)，是加拿大、墨西哥和美國之間新的自由貿易協定，經過長時間談判後終於達成新共識，過去美國認為舊有的協定(NAFTA)讓國內製造業工作機會流失，主要是因為會員國之一的墨西哥主要具有何種優勢吸引企業前往投資設廠？(L4)

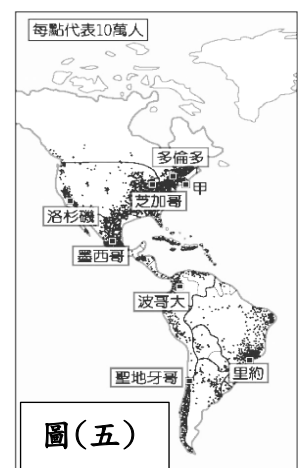
- (A) 高效率的生產 (B) 農礦原料豐富 (C) 工資低廉、關稅減免 (D) 充足的資金與技術。

10. 依研究顯示，因氣候相當乾燥的秘魯，得以將已有一千多年歷史的古代神祕圖案—納茲卡線保存至今。試問秘魯氣候乾燥的成因，與下列何者相同？(L3+L4)

- (A) 西亞阿拉伯沙漠 (B) 美國西南內華達沙漠 (C) 中國塔克拉瑪干沙漠 (D) 阿根廷巴塔哥尼亞沙漠。

11. 義大利某家紅酒商最近希望擴大其紅酒的產區，打算選擇一個氣候與本國相似，但葡萄採收時間不同的地區作為投資的對象，請問下列哪個地區最適合這家紅酒商的投資？

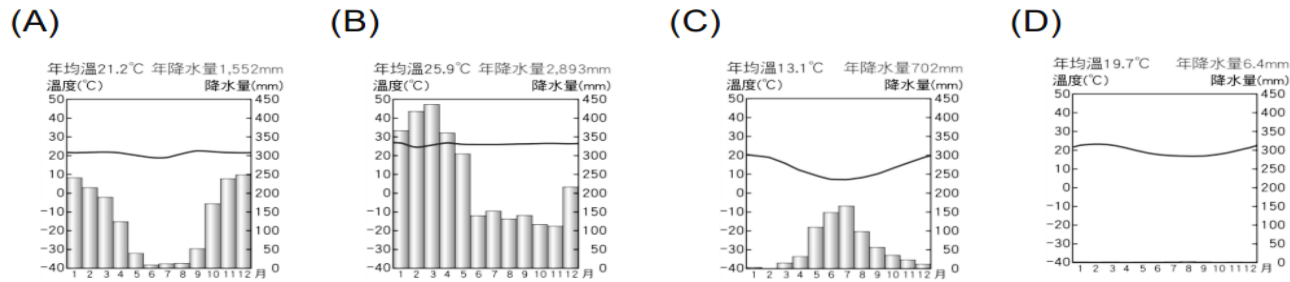
- (A) 智利中部 (B) 美國西南部 (C) 巴西東南部 (D) 加拿大東南部。(L3+L4)



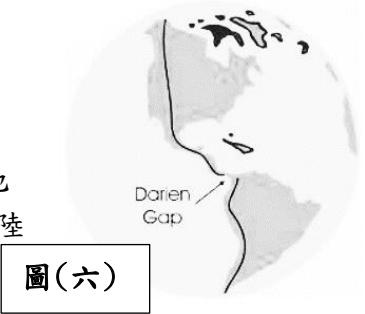
圖(五)



12. 承 11 題，下列哪一張氣候圖，最能代表此投資地區的氣候特徵？(L4)



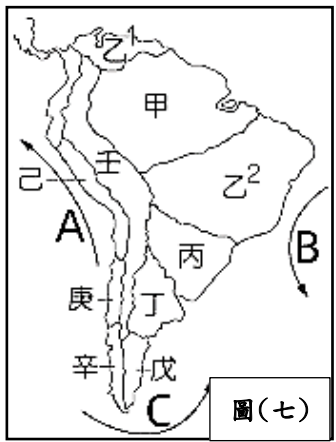
13. 圖(六)為全世界最長的公路-泛美公路 (Pan-American Highway)，北起阿拉斯加、南至火地島，全長約 48,000 公里，跨越北美、中美、南美，穿越 17 個國家，是一條貫穿整個美洲大陸的公路系統。請問關於此公路的敘述有哪些是正確的？(L3+L4)



圖(六)

- (甲)由北向南依序經過寒帶→溫帶→熱帶→溫帶氣候  
(乙)會經過世界上最大的熱帶雨林區，午後很高機率出現雷陣雨  
(丙)公路位於板塊交接處，有可能出現地震與山崩的現象  
(丁)沿途經過因紐特人主要居住地，並參觀當地居民大規模種植的甘蔗園  
(A)甲乙 (B)甲丙 (C)甲丁 (D)乙丙

14. 圖(七)為甲~壬為南美洲氣候分區，A~C 為南美的洋流系統，請問關於南美洲氣候的敘述，有哪些是正確的？(L4)

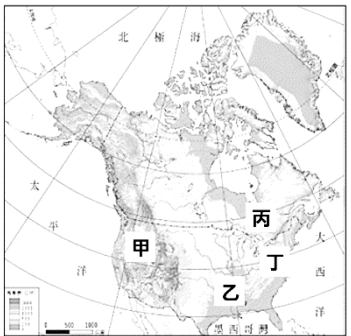


圖(七)

- (甲)丙區為夏雨型暖溫帶，受到 B 秘魯涼流與東南信風的影響，並無明顯乾季  
(乙)乙 1 和乙 2 區同為熱帶莽原氣候，降雨月分相同  
(丙)戊區西風受山脈阻擋，沿海有 C 福克蘭寒流流經，氣候乾燥形成沙漠  
(丁)辛區迎西風，為全年有雨的氣候型態  
(A)甲乙 (B)甲丙 (C)乙丁 (D)丙丁。

※童话故事《綠野仙蹤》，內容講述一名美國堪薩斯州的少女桃樂絲，在農場被一陣破壞力強、呈漏斗狀的怪風吹到奧茲國，與稻草人、機器人、獅子追尋智慧、善心和勇敢的冒險故事。請依序回答 15~16 題：(L3)

15. 圖(八)為北美洲分層設色地形圖，該故事發生的時間與地點應為下列何項？



圖(八)

- (A)春夏之交、甲 (B)夏秋之際、乙 (C)夏秋之際、甲 (D)春夏之交、乙。

16. 故事中的農場「最可能」普遍呈現哪一種景觀？

- (A)採高度機械化的耕作方式種植橄欖  
(B)大面積栽種的作物以商品型式售出  
(C)發達的酪農業供應每日鮮奶到市區  
(D)引進許多黑人勞力幫忙採收可可豆。

17. 近年來透過大眾媒體與流行商品，美式文化深入世界各地。圖(九)是周小碩最近一周的日常活動，哪幾天與美國文化的關係「最小」？

星期一	與同學相約吃 McDonald's (麥當勞) 當晚餐
星期二	完成作業後欣賞網路實況轉播 NBA 比賽
星期三	和爸媽一起到 IKEA (宜家家居) 買新書桌
星期四	放學後到 Starbucks (星巴克) 吃蛋糕、喝咖啡
星期五	陪媽媽逛街購買時尚的 LV (路易·威登) 包包
星期六	搭乘爸爸的 Benz (賓士) 汽車前往郊外兜風
星期日	和全家進電影院看 Hollywood (好萊屋) 動畫片

- (A)星期二、星期三、星期六 (B)星期二、星期三、星期日  
(C)星期三、星期五、星期六 (D)星期三、星期五、星期日。

◎ 圖(十)為台灣中南美洲的外交現況，隨著各國宣布斷交，目前中華民國僅剩 13 個邦交國，拉丁美洲佔大多數，有瓜地馬拉、貝里斯、海地、聖克里斯多福及尼維斯聯邦、聖露西亞、聖文森與巴拉圭。請回答下列 18~19 題：(L3+L4)

圖(九)

18. 下列有關加勒比海地區四個邦交國的敘述有哪些是正確？

- (甲)屬於西印度群島 (乙)主要的官方語言多為葡萄牙語  
(丙)夏秋容易受龍捲風襲擊 (丁)居民多數信奉天主教  
(A)甲乙 (B)甲丙 (C)甲丁 (D)乙丁。

19. 台灣邦交國—瓜地馬拉位於中美洲，西元 1524 年歐洲殖民者來到此地，摧毀了當地的馬雅文化並開始殖民，直至西元 1821 年才宣布脫離殖民母國。其北部的平原區為熱帶雨林氣候，中部的高地上的火山可達 4200 公尺，太平洋畔狹窄富饒的平地則屬於熱帶氣候。下列有關瓜地馬拉敘述何者「錯誤」？

- (A)經濟容易受國際市場價格波動影響 (B)大量外銷糧食作物，導致國內缺糧  
(C)需利用海運外銷，港口型都市發達 (D)採大規模種植單一經濟作物的模式。

20. 巴拿馬運河是世界唯一的聯洋運河，對於縮短航程有極大貢獻。經此運河不論船隻往東或往西航行，輪船皆須依照運河管理單位指示，依序排隊進入「船閘」，經階梯式上升或下降後，較大的船隻必須由兩側的軌道牽引車拉動通過船閘，全程約需 11 小時左右。請問下列哪兩個地之間的船運（不經北極海航道的最短路徑）經過巴拿馬運河，可節省最多時間？



圖(十)

- (A)美國紐約至英國倫敦 (B)日本東京至印度孟買 (C)智利聖地牙哥至中國上海 (D)美國洛杉磯至巴西里約。

【歷史部份】範圍：第二篇 第三、四章 第 21~33 題，每題 2 分，第 34~40 題，每題 1 分，共計 33 分

【題組】西元 1095 年，羅馬教宗烏爾班二世舉行宗教會議，會中發表演講(如下文)，號召十字軍戰爭，根據本文，回答 21-22 題：

正如大家所知，○○已經入侵我們東方兄弟，他們又侵占我們的聖地-耶路撒冷，他們在大肆蹂躪上帝的國度，擄殺虔誠的上帝子民…把兇惡的民族趕出我們的領土，這是主的旨意…讓我們投入一場神聖的戰爭，登上收復聖地的征途吧！從那個邪惡種族手中奪回聖地吧！

21. 教宗在演講中提及的「兇惡的民族」是指哪一民族？(L3)

- (A) 蒙古人 (B) 阿拉伯人 (C) 塞爾柱土耳其人 (D) 鄂圖曼土耳其人

22. 文中由教宗所號召的戰爭造成什麼重大影響？

- (A) 教宗權力凌駕西歐君主引發政教衝突 (B) 帶動歐洲商業復甦社會風貌改變  
(C) 歐洲基督教國家消滅了伊斯蘭教帝國 (D) 加深基督教影響力遍及世界各地

23. ”此城市地理位置優越，既連接兩大洲，又位居黑海通往地中海航道的必經之地，城內有著拜占庭帝國所修築的古城牆 鄂圖曼土耳其帝國華麗的皇宮，以及宏偉的基督教教堂與清真寺等文化遺產，展現了這座城市輝煌悠久的歷史。”根據以上描述，該城市應位於何處(圖一)？

- (A) 甲地 (B) 乙地 (C) 丙地 (D) 丁地

【題組】阿拉伯人向外征討，曾在歷史上留下輝煌戰績，根據本文，回答 24-25 題？ (L3)

24. 阿拉伯人在八世紀往中亞擴張，最有可能與哪一國家交戰？

- (A) 唐帝國 (B) 拜占庭帝國 (C) 塞爾柱帝國 (D) 鄂圖曼帝國

25. 阿拉伯人後來建立一個橫跨歐、亞、非三洲的大帝國，該帝國在歐洲的疆域位於哪一區(圖二)？

- (A) 甲區 (B) 乙區 (C) 己區 (D) 庚區

26. (圖三)是 15 世紀某帝國的疆域圖，有關這個帝國的描述，何者錯誤？ (L3)

- (A) 20 世紀衰亡 (B) 消滅拜占庭帝國 (C) 壟斷東西方的貿易 (D) 最早的伊斯蘭教帝國



(圖一)



(圖二)



(圖三)

27. 「有鑑於公共利益與安全，我們認為有必要頒訂尊重宗教之法，給予基督徒及所有人信仰自由的權力。…所以，我們決定採取這個明智的政策，任何人皆享有完全的自由信奉基督宗教或他個人所信的宗教；如此，我們相信上帝將因我們真心對祂的敬仰，而降臨恩澤，使我們萬事順利」，上文節錄自四世紀初在米蘭頒佈的詔令，頒佈的是何人？ (L3)

- (A) 羅馬教宗 (B) 君士坦丁大帝 (C) 狄奧多西大帝 (D) 查士丁尼大帝

28. 西元 1054 年，羅馬教宗利奧九世派出的代表來到聖索非亞大教堂，宣布將君士坦丁堡大主教及其追隨者開除教籍，而作為基督教東方世界的領導者君士坦丁堡大主教則當眾將詔令燒毀，並宣布開除利奧九世籍其追隨者的教籍，上述事件發生後，君士坦丁堡成為哪一教派的領導中心？ (L3)

- (A) 希臘正教 (B) 路德教派 (C) 羅馬公教 (D) 喀爾文教派

29. 「航海家辛巴達」的故事出自天方夜譚這本書，辛巴達經常組織船隊出海經商，他一面經商，一面遊歷世界，航行途中經歷各種奇遇，遇到危險總能化險為夷，還收獲寶藏，滿載而歸…辛巴達歷險的時代背景應該為何？ (L3)

- (A) 日耳曼人在東歐建立國家改信基督教 (B) 佛教在阿育王提倡下從印度向西亞傳播  
(C) 巴格達成為伊斯蘭世界最重要的城市 (D) 君士坦丁大帝致力向東收復古羅馬疆域

30.

甲:蒙古西征

乙:西羅馬帝國滅亡

丙:伊斯蘭教創立

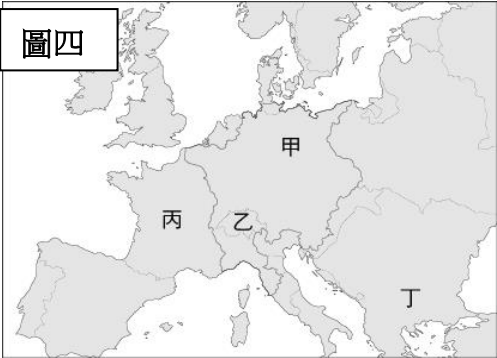
丁:恒羅斯之役

以上中世紀重要史事依發生先後順序排列應是？ (L3)

- (A) 乙→丙→丁→甲 (B) 丙→乙→丁→甲 (C) 乙→丁→丙→甲 (D) 丁→丙→甲→乙



31. 歐洲某一個時期用於宣傳的版畫，將馬丁路德描繪成魔鬼手中的風笛，認為否定教宗與教會權威的馬丁路德如同魔鬼的傳聲筒。請問這幅畫作應是下列哪一教派的宣傳品？ (L4)
- (A)希臘正教 (B)羅馬公教 (C)英國國教派 (D)喀爾文教派。
32. 薄伽丘作品十日談中有一則故事：「『有一個基督徒勸他的猶太人朋友亞伯拉罕改信基督教，於是亞伯拉罕到羅馬考察基督教神職人員的德行，作為是否改信的依據。這趟旅程結束後，他說：「他們沒有人稱得上聖潔虔敬，我只看到他們沉淪在欲望的洪流中。在我看來，羅馬與其說是神聖之城，不如說是惡魔之都。』」？
- 請問：對上述資料的說明，下列哪一個敘述較適當？ (L4)
- (A)亞伯拉罕對羅馬教會的批評，反映16世紀宗教改革猶太教與基督教的衝突
- (B)這個針對羅馬教會的宗教改革，使羅馬成為宗教改革後新教的重要據點
- (C)這一部作品是薄伽丘用中世紀通用的拉丁文書寫的通俗作品
- (D)文學作品對教會的批評，反映文藝復興不再以神為中心的社會觀。
33. 「金錢總會揮霍完，但用金錢推動下的藝術，卻在後世成為經典，成為永生。」後人用這段話，形容 15 世紀義大利梅狄奇家族，他們長期資助藝術家、人文主義學者與詩人，他們的行動應會帶動下列哪一個項目在歐洲復甦與再生？(L4)
- (A)17 世紀西歐的「中國熱」 (B)基督教「為神服務」的理念
- (C)古典拉丁文學的推動 (D)古希臘羅馬「以人為本的精神。」
34. 17 世紀時西班牙統治台灣北部，除了貿易也對北部原住民傳教。請問：當時台灣北部原住民會接收到下列哪一項教義？
- (A)人不可以為私利而致富，但可以為榮耀上帝而致富
- (B)教宗至上，羅馬主教是耶穌基督代表，普世教會最高教長
- (C)我們的國王同時也是教會神聖的領袖，你們必須認識敬畏他
- (D)對神的虔誠信仰是使人得救的唯一途徑，贖罪券也不保證得救。(L4)
35. 「隨著異教徒的入侵，帝國被迫關閉它的高等學府，大批希臘語學者被迫流亡到義大利，同時也將他們的希臘語手稿與希臘語文學帶到西歐，文藝復興的希臘語時期也隨之開始。」(L4)
- 上述資料說明促進文藝復興古典文化再生的背景，請問：文中的「異教徒入侵帝國」應是指下列哪一件事？
- (A)日耳曼人滅西羅馬帝國 (B)蒙古西征入侵威尼斯 (C)鄂圖曼土耳其侵略拜占庭 (D)阿拉伯帝國攻佔西班牙。
36. 16 世紀歐洲宗教改革後，「新教」各教派雖然教義各有不同，但也有一些共同理念，下列何者為當時新教的共同理念？
- (A)否定羅馬教宗與教會人員的權威 (B)都支持政教合一
- (C)都支持以財富榮耀上帝 (D)均以「新約」聖經為經典，不使用「舊約」聖經。(L4)
37. 16 世紀教宗朱理二世為興建聖彼得大教堂而販賣贖罪券，聲稱購買贖罪券可補充個人功德的不足。贖罪券發行時，教會選擇與富格銀行合作，銀行可從中獲得三分之一的利潤。此事及其他教會的腐敗行徑，讓歐洲開始宗教改革，並成立許多新教派，右圖（四）哪一個地區卻不在這次改革行動中？
- (A)甲 (B)乙 (C)丙 (D)丁。
38. 「但丁精湛的文筆，讓他的新書一出版，便迅速大量印刷銷售，讀者可以閱讀便宜且以方言出版的小說神曲，書商不再以拉丁文為通用版本，因為讀者群太少。」請問：上述情況應會出現在下列何地？(L4)
- (A)西元 16 世紀佛羅倫斯 (B)西元 15 世紀伊斯坦堡
- (C)西元 6 世紀羅馬 (D)西元 8 世紀西班牙巴塞隆納。
39. 馬雅各曾在寫給英國長老教會的報告中，反映台灣人吸食鴉片的情況，1884年馬雅各返英後，積極投入反鴉片運動，邀見清廷駐英公使郭嵩燾，因此促成國際禁菸運動。請問：關於馬雅各所屬教派的介紹，下列何者正確？
- (A)英國國王為教會領袖 (B)該教派主張「因信稱義」 (C)屬於新教喀爾文教派 (D)馬雅各隸屬耶穌會。(L4)
40. 右表為西元17與18世紀後歐洲地區識字率統計簡表。請問：識字率的改變可能與下列哪一項敘述相關？(L4)



地區	法國		法國		蘇格蘭	蘇格蘭	英格蘭	英格蘭
時間	1680 年代		1780 年代		17 世紀中期	18 世紀中期	17 世紀中期	18 世紀中期
識字率	男性	女性	男性	女性	男性	男性	男性	男性
	29%	14%	47%	27%	25%	78%	30%	60%

【公民部分】範圍：第五冊第 3～4 章，第四冊第 1、3、5 章  
配分：第 41～53 題每題 2 分，第 54～60 題每題 1 分，共 33 分

※題組：請回答第 41～42 題。

41. 汪汪國和喵喵國都生產手機和電腦，只依照生產成本，將兩國生產一台手機或一台電腦的機會成本整理如右表。在不考慮其他條件下，根據右表所示，若汪汪國和喵喵國要分工合作、專業化生產，並出口具生產優勢的產品至另一國家，下列敘述何者正確？(L4)

項目	1 台手機	1 台電腦
汪汪國	9000 元	25000 元
喵喵國	9500 元	23000 元

- (A)由汪汪國生產手機，喵喵國生產電腦 (B)電腦及手機皆交由汪汪國進行生產製造  
(C)由汪汪國生產電腦，喵喵國生產手機 (D)交易成本高，汪汪國和喵喵國互不交易。
42. 請問，根據兩國分工後的結果，對喵喵國而言，下列敘述何者正確？(L4)
- (A)本土手機業者會受到汪汪國手機衝擊 (B)本土電腦較汪汪國電腦機會成本高，缺乏競爭力  
(C)本土電腦的貿易支出會高於貿易收入 (D)本土手機不具備競爭優勢，將出口至汪汪國販售。

※題組：圓餅圖是永和國和其他國家的電子零組件交易情形，請根據圓餅圖，回答第 43～46 題。

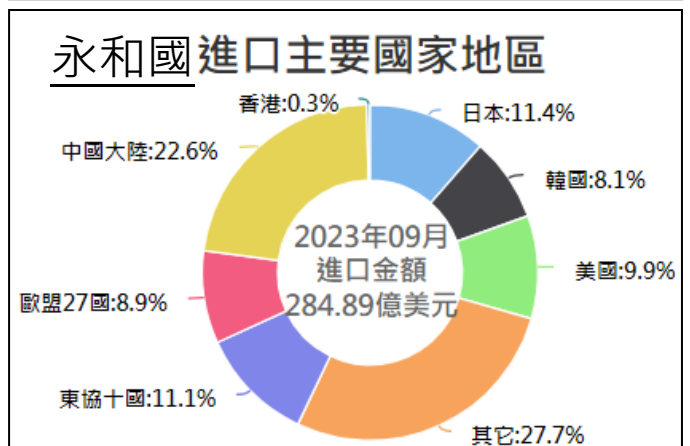
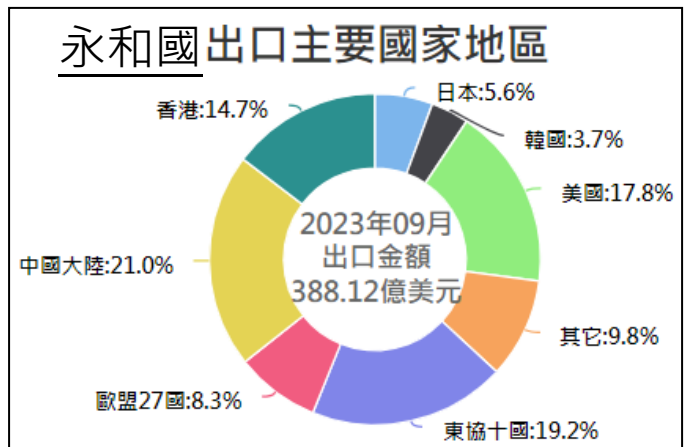
43. 請問，右方的圓餅圖，呈現出哪個現象？(L4)
- (A)無形市場的崛起 (B)投資風險的分散  
(C)國際貿易的發展 (D)國際條約的簽訂。
44. 請問，永和國和日本簽訂了自由貿易協定，目前的出口、進口互動情形如右圖，永和國電子零組件市場接下來最有可能發生何種變化？(L4)
- (A)禁止販售日本商品，確保公平競爭  
(B)本土廠商適時創新，打造特色品牌  
(C)造成日本廠商衝擊，貧富差距擴大  
(D)消費者不再具有選擇多元商品機會。
45. 請問，下列何種情況，最有可能是導致永和國和日本之間出口、進口金額差距的原因？(L4)
- (A)永和國的反韓意識高漲  
(B)永和國的商品利潤較高  
(C)日本生產商品的機會成本較低  
(D)日本人民的所得水準逐年提升。
46. 請問，關於永和國和各國之間的出口、進口金額，下列何者正確？(L4)

項目	(A)香港	(B)韓國	(C)美國	(D)東協 10 國
出口金額	0.9 億	23.1 億	28.2 億	74.5 億
進口金額	57.1 億	14.4 億	69.1 億	31.6 億

(單位：美元)(四捨五入至小數點第一位)

※題組：老江在唱片行買了一片鋼琴演奏 CD，興高采烈地回家使用，在播放器確認正常的情況下該片 CD 卻無法播放。  
請回答第 47～48 題。

47. 請問遇到此狀況，老江應該如何處理最為正確？(L3)
- (A)因為 7 天猶豫期的保障，在購買的 7 天之內拿去退換貨即可  
(B)在實體商店購買的商品無法退換貨  
(C)商品已拆封，所以不得退換貨  
(D)直接拿到唱片行退換貨。
48. 承上題，請問上述處理方式的法源依據是下列何者？(L3)
- (A)公平交易法 (B)消費者保護法 (C)民法 (D)商事法。
49. 若同時考量「交易場所」與「交易的對象、內容」，下列何者與老江購買 CD 的交易市場完全相同？(L3)
- (A)大鑫去電影院看「名偵探柯南」  
(B)童童打電話下單買股票  
(C)雨潔去唱片行應徵工作  
(D)阿鼓網購五月天演唱會門票。

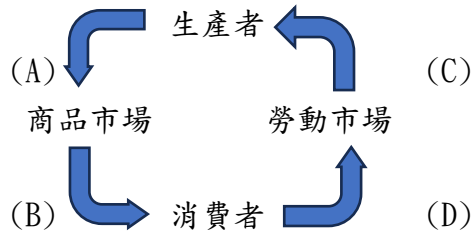


50. 小吉在電視上看到好棒超市的廣告：「『不出國也能買外國零食解饞！』想吃零食不用出國，只要到我們好棒超市，國際零食品牌應有盡有。有日本時下流行的起司蛋糕、韓國爆紅的烏龜餅乾、美國經典的紐約洋芋片、義大利的濃醇巧克力…等，讓你在臺灣就能零時差跨國追流行！」請問，關於好棒超市的廣告，可以說明何種概念？(L4)

(A)國際貿易流通 (B)國際經濟衝突 (C)國際援助盛行 (D)維護公平正義。

※題組：佩佩在某知名服飾品牌從事商品設計的工作，雖然服飾市場廠商眾多，但是歸功於她獨特的創意以及出眾的品味，她所設計的款式銷量節節高升，也替公司帶來高額的銷貨收入。某天她在網路上發現 XX 服飾業者販售的熱賣款跟她設計的商品一模一樣，價格還更加便宜…。請回答第 51～54 題。

51. 請問上文畫底線的敘述部分，應為下圖何者？(L3)



52. XX 服飾業者的行為已侵害了佩佩的公司權益，針對此行為該公司可以向下列何者提出申訴？(L3)

(A)公平交易委員會 (B)消費者保護處 (C)消費者服務中心 (D)行政法院。

53. 佩佩服務的公司在市場上競爭程度的高低與下列何者相同？(L3)

(A)水泥產業 (B)藥妝店 (C)電信業者 (D)電力公司。

54. 關於佩佩公司的競爭與經營方式，下列敘述何者錯誤？(L3)

(A)佩佩公司可以運用非價格競爭的方式，例如：與卡通人物聯名，獲得更多消費者的青睞  
(B)佩佩公司能有如此好的銷售成績，主要是因為採取價格導向的經營模式  
(C)進入服飾產業的門檻較低，因此與之競爭的廠商很多  
(D)該公司的銷貨收入高，利潤卻不一定很高。

55. 請問下列何項行為在民法上不具法律效力？(B4L1)

(A)4 歲的柔柔請奶奶買雞蛋糕給他吃  
(B)13 歲的哲哲領取圍棋比賽優勝獎勵金新台幣 5000 元  
(C)7 歲的宇文去文具店購買鉛筆盒  
(D)40 歲受監護宣告的博勝至超商加值悠遊卡。

56. 依據菸害防制法的規定，部分公共場所除吸菸區外，不得吸菸；未設吸菸區者，全面禁菸。若有民眾違反規定可能會負起何項法律責任？(B4L5)

(A)新台幣 2500 元罰金 (B)沒收菸品 (C)新台幣 5000 元罰鍰 (D)褫奪公權一個月。

57. 現年 7 歲的倩倩在咖啡廳陪媽媽買咖啡時不小心撞倒了店家的展示櫥櫃，櫥櫃上陳列的所有玻璃裝飾品全數損壞……。關於後續賠償，下列敘述何者正確？(B4L1)

(A)倩倩屬限制行為能力人，不須賠償店家損失的部分  
(B)倩倩屬完全行為能力人，須賠償店家損失的部分  
(C)倩倩屬限制行為能力人，由法定代理人負連帶賠償責任  
(D)倩倩屬無行為能力人，由法定代理人負連帶賠償責任。

58. 林姓男子因缺錢花用，偷偷潛入房東家裡行竊被發現，居然以枕頭悶死房東，法院依強盜殺人罪判處林男(甲)無期徒刑、(乙)褫奪公權終身。請問，關於畫線處，下列敘述何者正確？(B4L3)

(A)(甲)為不能單獨科處的刑罰  
(B)(乙)為不能單獨科處的刑罰  
(C)(甲)(乙)均屬於剝奪自由的刑罰  
(D)(甲)(乙)與沒入屬於同種類型的處罰。

59. 15 歲的勇勇和 20 歲的瘡啞人河河，利用暑假偷偷騎機車出遊，勇勇騎機車載河河時因不熟路況，失控打滑撞上路邊停靠的車輛，這麼一撞兩人不僅受傷，還互相推卸責任，誰也不願賠償受損車輛，甚至大打出手。警察到場後，兩人互控對方傷害，警察則先對勇勇開出無照駕駛 6000 元的罰單，這場出遊敗興收場。請問，關於此事件，下列敘述何者正確？(B4L3)

(A)勇勇是限制責任能力人，故父母負連帶賠償受損車輛的責任 (B)勇勇是無責任能力人，故不以刑法處罰  
(C)河河是完全責任能力人，故須負起毆打勇勇的完全刑事責任 (D)兩人同屬限制責任能力人，得減輕其刑。

60. 承上題，關於勇勇無照駕駛的行為，下列敘述何者正確？(B4L5)

(A)違反少年事件處理法，處以保護處分 (B)違反行政法規，須負起行政責任，繳納 6000 元罰金  
(C)若不服罰單，可以先向法院提出訴願 (D)6000 元罰單不須經法院宣告，由行政機關裁決即可。

# 新北市立永和國民中學 112 學年度第一學期第二次段考九年級社會科答案卷

【地理科】：第1～14題每題2分，第15～20題每題1分，共34分

1	2	3	4	5	6	7	8	9	10
D	B	D	A	A	C	A	B	C	A
11	12	13	14	15	16	17	18	19	20
A	C	B	D	D	B	C	C	B	D

【歷史科】：第21～33題每題2分，第34～40題每題1分，共33分

21	22	23	24	25	26	27	28	29	30
C	B	B	A	C	D	B	A	C	A
31	32	33	34	35	36	37	38	39	40
B	D	D	B	C	A	D	A	C	A

【公民科】：第41～53題每題2分，第54～60題每題1分，共33分

41	42	43	44	45	46	47	48	49	50
A	A	C	B	C	D	D	C	A	A
51	52	53	54	55	56	57	58	59	60
D	A	B	B	D	C	C	B	D	D

九年級歷史第 34 題，答案不限 B，其他選項也有可能符合，故 34 題送分