

新北市立永和國民中學 112 學年度第一學期第二次段考 七年級社會科試題

【地理部分】範圍：第一冊 單元三、單元四

單選題：第 1~14 題每題 2 分，共 28 分；第 15~20 題每題 1 分，共 6 分；總分 34 分

1. 溫室效應與全球暖化效應下，近年來，臺灣每逢風災後各地土壤流失嚴重，常有災害發生，除了降水量大、地勢陡峭外，土石流災害還與下列哪一項人為活動息息相關？(L3)

(A)過度抽取地下水 (B)排水設施不完善 (C)上游設立保護區 (D)山坡地的不當開發。

2. 新聞報導常見當颱風來襲所造成的各項災害，往往會使得山區聯外道路中斷，救援上產生困難。若救難小組想要在最短時間內掌握最新的災情以便實施救援計畫，建議可使用哪一種類型的地形圖？(L3)

(A)地形剖面圖 (B)分層設色圖 (C)衛星影像圖 (D)等高線地形圖。

3. 在發展經濟時，我們必須制訂相關規範，如訂定山坡地開發的坡度上限、規範限制河川區域的土地利用，或在具有特殊自然、人文景觀的地區設立國家公園等保護區，用來達到下列何種終極目的？(L3)

(A)永續發展 (B)資源回收 (C)經濟建設 (D)區域均衡。

4. 臺灣四面環海，坐享豐厚海洋資源的同時，也飽受海洋廢棄物之苦。環保署於2021年提出了「向海致敬-海岸清潔維護計畫」。為期一年的淨海計畫，總共清理出12.6萬公噸的廢棄物，其中海岸清出4.3萬噸、海面或海底3.3萬噸。此活動也發現最多海漂垃圾數量的地點，是位於圖一的圓圈處。請問該處海岸的地形特徵為何？(L4)

(A)岬角與海灣相間 (B)潟湖、沙洲遍布 (C)大規模的隆起珊瑚礁 (D)陡直的峭壁、深切的峽谷。

5. 圖二為臺灣五大山脈分布圖，根據各山脈所配合的代號與敘述，下列何者「錯誤」？(L3)

(A)在花東縱谷平原旅遊時會因為受到戊山脈的阻擋，見不到臺灣海峽的夕陽西下
(B)乙山脈是臺灣的脊梁，也是山脈中最長範圍最大，更是臺灣多數河川的分水嶺
(C)臺北往返宜蘭如果走國道5號(蔣渭水高速公路/北宜高)必須經過通過甲山脈
(D)代表臺灣精神也是臺灣最高的玉山，於1985年成立國家公園，位於在丁山脈。

6. 小美在規劃海島旅遊時，看到一段文字敘述：「在250萬年前，海南島和雷州半島還連在一起，在地質構造上屬華夏地塊的延伸部分。之後海南島和雷州半島之間發生了斷陷，變成了瓊州海峽，才使海南島與大陸分開。以後海平面多次升降又使海南島與大陸多次分離和相連，到第四紀冰期結束，海平面大幅度上升，才形成瓊州海峽和海南島的形態。」請問下列哪個離島的成因，與上文所提及的海南島最為相似？(L4)

(A)琉球嶼 (B)澎湖群島 (C)金門列嶼 (D)釣魚臺列嶼。

7. 下表為永祥國中規劃的七年級校外教學主題行程，請問這四個行程與圖三的海岸位置配對，何者正確？(L4)

(A)A行程-甲

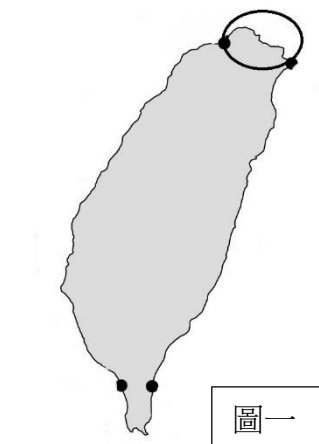
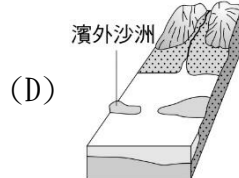
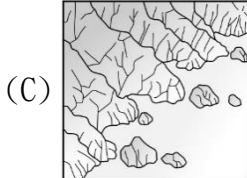
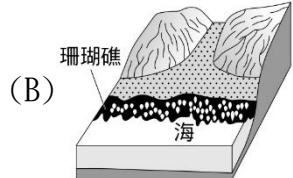
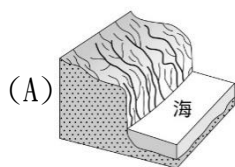
(B)B行程-乙

(C)C行程-丙

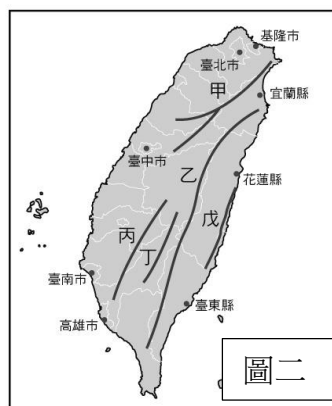
(D)D行程-丁。

A行程	花蓮縣-清水斷崖
B行程	臺南市-臺江國家公園
C行程	屏東縣-墾丁國家公園
D行程	新北市-野柳地質公園

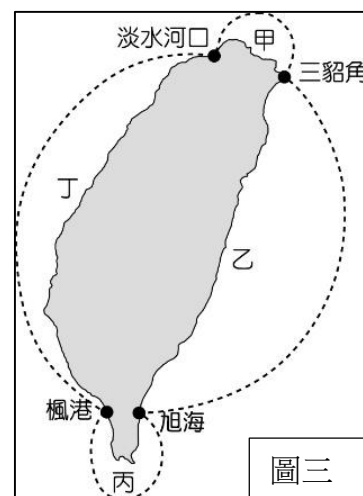
8. 承上題，經由全校師生投票後，七年級的校外教學行程確定為「A行程」。請問哪一張海岸地形示意圖，最符合「A行程」的海岸特色？(L4)



圖一



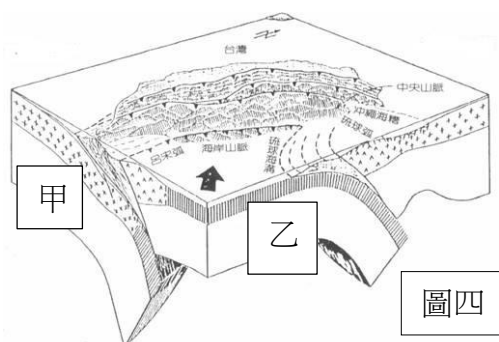
圖二



圖三

9. 臺灣島因受到板塊推擠，形成許多的新褶曲山脈，且至今仍常有火山活動與地震發生，導致地質上相當不穩定，如圖四所示，多火山多地震的台灣，同時也是著名的環太平洋火山地震帶分布地區。請根據圖中的位置加以判斷，「乙」板塊應該為下列何者？(L3)

(A)太平洋板塊 (B)菲律賓海板塊 (C)歐亞板塊 (D)印澳板塊。



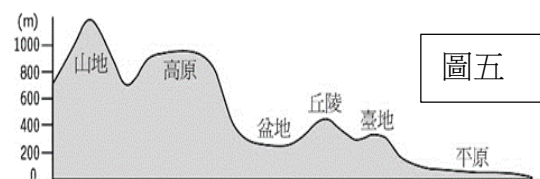
圖四

10. 臺灣地形的起伏，影響著各地聚落及交通發展，下列關於臺灣地形特徵的敘述何者「錯誤」？(L3)

(A)山地廣大，地勢高聳 (B)山脈呈現東西走向 (C)坡面陡峭，地質破碎 (D)嘉南平原面積最廣。

11. 參考圖五，地形是指地表高低起伏的形態，下列敘述何者「有誤」？(L3)

- (A)臺地地形是指海拔低於1,000公尺，地勢較高表面平坦的地形
(B)臺灣的地形錯綜複雜且多樣，圖五的六大地形中僅臺地未出現
(C)丘陵海拔多低於1,000公尺且地勢起伏較大，分布於山地外緣
(D)盆地周圍高而中間低平，通常分布在丘陵、山地所圍繞的地區



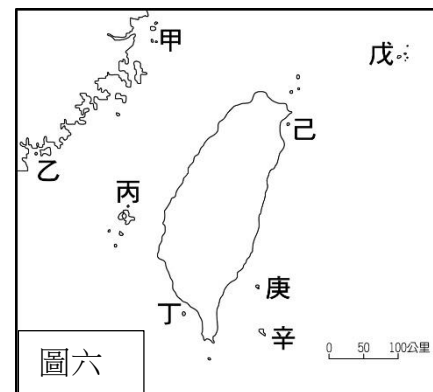
圖五

12. 新聞報導：「東港籍漁船「海建興20號」遭印尼扣押，2位台灣籍船員和7位印尼籍漁工連人帶船被帶回調查。據了解，儘管認定海建興20號案發當下所在位置屬我國合法捕魚的範圍，未涉及非法捕魚問題，但因為與印尼的海域範圍重疊，因此引發漁事糾紛。」請問此篇新聞報導所提及的海域範圍應該為何？(L4)

- (A)領海 (B)近海海域 (C)遠洋海域 (D)經濟海域。

13. 臺灣的邦交國—吐瓦魯是一個由九個環形珊瑚島群組成的島國。由於地勢極低，最高點僅海拔四米，因此全球暖化造成的海平面上升對該國造成嚴峻威脅，是全球遭受海平面上升威脅最嚴重的國家。請問圖六中哪個島嶼的成因與吐瓦魯相同？(L4)

- (A)甲 (B)乙 (C)丙 (D)丁。



圖六

14. 阿益老師想要規畫一趟「臺灣火山島」的跳島旅遊，請參考圖六，請問哪一條旅遊路線最符合阿益老師的旅遊主題？(L4)

- (A)甲→丙→丁 (B)丁→庚→辛 (C)戊→己→甲 (D)辛→庚→己。

【題組】請依據下文，回答第15~17題。(跨科題組)

1622年，荷屬東印度公司佔領了澎湖，以作為東亞貿易的轉口基地。1623年，荷蘭人在台南安平建立一座簡單的砦城，這就是安平古堡的前身。1624年，在與中國明朝的軍隊激戰了八個月以後，荷蘭人和中國官方達成協議，同意把設置於澎湖的要塞和砲台毀壞，而於1624年轉移至台灣島，中國則不干涉荷蘭對台灣的佔領。荷蘭人佔台以後，1627年以荷蘭省名澤蘭省（或譯熱蘭省）改建命名為「熱蘭遮城」（Zeelandia）。以此城作為統治中心，展開對南台灣的經營。荷蘭人也開始以台灣作為國際貿易的轉運站，不僅輸出部分臺灣生產的商品，還轉運絲織品、瓷器、香料等，為荷蘭人帶來龐大利益。

15. 根據上文，1622年荷屬東印度公司佔領上圖六的何處來作為東亞貿易的轉口基地？

- (A)甲 (B)乙 (C)丙 (D)丁。

16. 圖七為十七世紀的荷蘭人所繪製的簡易地圖，請問圖中的「台江內海」應該是指何種海岸地形？

- (A)灣澳 (B)潟湖 (C)沙洲 (D)海灘。

17. 請問當時最主要輸出的臺灣生產的商品為何？

- (A)蔗糖、茶葉 (B)樟腦、蔗糖 (C)蔗糖、鹿皮 (D)茶葉、稻米



圖七

【題組】請參考圖八的等高線圖，回答第18-20題。(L3)

18. 等高線地形圖是一種常用的地形表示方法，下列關於等高線地形圖的敘述，何者「錯誤」？

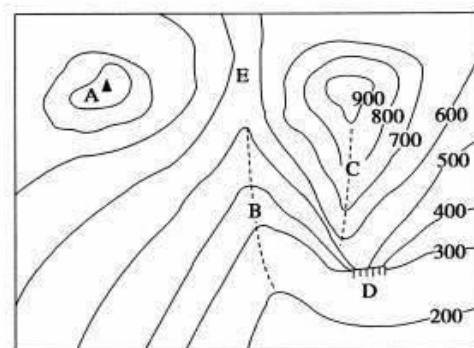
- (A)地圖上將海拔高度相同的各點，連成閉合曲線稱為等高線
(B)當等高線通過河谷時，呈「V」字型彎曲，尖端指向上游
(C)同一等高線地形圖上，相鄰兩條等高線間的高度差均相等
(D)等高線地形圖上，等高線愈稀疏處代表表示坡面愈為陡峭。

19. 依照學過的等高線特性，請找出圖八中何處最有可能有河流出現？

- (A)A (B)B (C)C (D)D。

20. 依照等高線特性，請推測圖八中「C」地的高度應該為何？

- (A)800m (B)850m (C)900m (D)950m。



圖八

【歷史部份】範圍：第三、四章 第 21~33 題，每題 2 分，第 34~40 題，每題 1 分，共計 33 分

21.表一為某一時期臺灣學校的課表，請根據表中內容判斷，這是哪一個時期的課表？ (L3)

- (A)荷西時期 (B)鄭氏時期 (C)清帝國時期 (D)史前時代。

22.承上題，關於此課表的敘述何者錯誤？ (L3)

- (A)六點到八點，副校長所使用的語言是西拉雅族語
(B)八點到九點，學生在餐前禱告是因為信奉基督教
(C)午餐時間利用羅馬字拚注族語，此文字稱新港文
(D)下午三點到五點，所教授的外國語言為西班牙語

時間	活動	科目名稱
06:00~08:00	學科	由副校長用原住民語言講授教義
08:00~09:00	早餐	飯前飯後由學生輪流擔任祈禱者
09:00~10:00	學科	講話、習字課
10:00~11:00	學科	由校長用原住民語言講授教義
12:00	午餐	飯前飯後由學生輪流擔任祈禱者， 並輪流由羅馬字拚注本族語言的 聖經一節
15:00~17:00	學科	教授外國語

表一

社 名	人口數 (人)	受洗者 (人)
新港社	1,047	1,047
蕭壠社	2,600	282
目加溜灣社	1,000	261
麻豆社	3,000	251
大目降社	1,000	209

表二

23. 17 世紀的臺灣先後來了很多不同的統治者，在面對外來政權時，族群間基於自身利益及立場考量，會採取不同的態度面對外來統治者。試問下列選項中，族群關係與其他三者不同的是？ (L3)

- (A)荷蘭—新港社 (B)荷蘭—麻豆社 (C)鄭氏—大肚王國 (D)鄭氏—沙轆社。

24.頂維是 17 世紀的西拉雅族人，他的生活中最可能發生什麼事？ (L3)

- (A)參與對牡丹社的征討 (B)加入郭懷一反抗的軍隊
(C)與日本進行物資交換 (D)參加長官辦的地方會議

25.一份荷蘭聯合東印度公司福爾摩沙評議會會議事錄(西元 1629 年 11 月 17 日)：

「荷蘭傳教士問到：要讓土著(原住民)歸順，並讓其改變信仰最好的方法是什麼？

我們認為最好的方法是奪取各村惡人們的全部財產。我們藉此展現武力後，土著(原住民)便會心懷恐懼，真正歸順我們。如此一來他們才會變得文明，在上帝慈悲下，傳教才能順利。過去經驗證明，僅是善意無效。評議會在詳加考慮後決議，等我們船隻從中國回航立刻攻擊目加溜灣，那個村落最小只有三百人。」

請問:依上文所述，荷蘭聯合東印度公司認為向原住民推廣基督教最有效的方法為何？ (L3)

- (A)以強大武力強勢鎮壓 (B)利用羅馬拼音推廣聖經
(C)建立教堂與增設學校 (D)透過部落長老協助傳教。

26.表二是荷蘭統治時期對原住民傳教的成果，由表中內容，我們可以得知下列哪一項訊息？ (L3)

- (A)原住民受洗者比例日漸降低 (B)各社原住民皆保持原有信仰
(C)新港社的宗教信仰改變最大 (D)麻豆社受洗比例最低，故遭到荷蘭武力鎮壓。

27.臺灣歷史上的清帝國統治時期長達二百多年。請問:清帝國統治時期是指哪一階段？ (L4)

- (A) 15 世紀末~17 世紀末 (B) 16 世紀末~18 世紀末 (C) 17 世紀末~19 世紀末 (D) 18 世紀末~20 世紀末

28.臺灣俗諺：「唐山過臺灣，心肝結歸丸」、「六死三留一回頭」、「過番剩一半，過臺灣沒得看」。上述這些諺語描述的是清代臺灣的什麼現象？ (L4)

- (A)清廷積極鼓勵移民來臺 (B)橫越臺灣海峽凶險難測 (C)來臺可以加入反清組織 (D)男女人口比例失衡。

29.保存「古蹟」的意義，在於它們能引領後人回到歷史現場，去感受當時的重大變遷或現象。基隆的「二沙灣炮臺」與臺南的「二鯤鯓炮臺」均為國定古蹟，這兩處古蹟的出現，反映當時有何迫切的需要？ (L4)

- (A)招撫原住民 (B)對付鄭氏勢力 (C)掃蕩反清復明組織 (D)防止外力入侵。

30.有一史料敘述如下：

「清廷攻下臺灣後，不少官員認為臺灣是未開發的彈丸荒地，對中國不但沒有價值，派員駐守還勞民傷財，只有施琅提出建言，強調臺灣物產豐富，且○○地位重要……大臣們經歷了八個月的爭論之後，康熙皇帝終於採納施琅的建議，將臺灣納入版圖」

請問上述○○處應填入何選項最為恰當？ (L4)

- (A)戰略 (B)政治 (C)貿易 (D)文化。

31.圖一的四張卡片分別代表清朝曾對臺灣採取的統治措施，若依這些措施最早在臺施行的時間先後順序排列，下列何者正確？ (L4)

(A)甲→丙→乙→丁 (B)乙→丙→丁→甲 (C)丙→丁→乙→甲 (D)丙→乙→丁→甲。



圖一



32.圖二為臺灣歷史上某時期的行政區劃圖。請問：此行政區劃的出現，與下列哪一歷史事件關係最為密切？ (L4)

(A)林爽文事件的發生 (B)鄭克塽向清廷投降 (C)朱一貴事件的發生 (D)海盜侵擾臺灣沿海。

33.承上題，圖二所顯示分為甲、乙兩邊的界線，其主要作用為何？ (L4)

(A)荷蘭和鄭成功的對抗陣線 (B)鄭氏政權和大肚王的對抗陣線
(C)清帝國時期的漢番界線 (D)清帝國時期的渡臺禁令。

34.表三是清代臺灣土地開墾面積的資料。清帝國統治初期，臺灣土地開墾增加緩慢，至清帝國統治後期(光緒年間)開墾面積卻大幅增加，最可能的因素為何？ (L4)

表三

時間	總開墾面積
康熙 23 年	約 18,500 甲
康熙 49 年	約 30,100 甲
雍正 13 年	約 52,800 甲
乾隆 27 年	約 61,900 甲
光緒 14 年	約 370,000 甲

(A)清帝國面臨對外戰爭的壓力，大陸人民選擇來臺避難
(B)外力入侵臺灣，清廷增加防臺軍力，以軍屯方式積極開墾
(C)設立番界，避免漢人和原住民的衝突
(D)廢除渡臺禁令，鼓勵漢人來臺開墾。

35.清同治十三年(西元 1874 年)，清廷指派時任福州船政大臣的沈葆楨為欽差大臣赴臺；光緒十年(西元 1884 年)，劉銘傳則以福建巡撫兵部尚書銜來臺，兩人對臺灣都有極大的貢獻。請問：由沈葆楨、劉銘傳等人來臺建設的內容，可以看出當時清帝國治臺最主要的目的為何？ (L4)

(A)因應移民問題，加強行政管理 (B)提倡新式工業，增加國庫收入
(C)增加海防建設，鞏固東南國防 (D)推動新式教育，落實人才培育。

36.下列關於劉銘傳經營臺灣的敘述，何者錯誤？ (L4)

(A)劉銘傳是臺灣首任也是最後一任巡撫 (B)任內臺北到基隆的鐵路通車
(C)將行政區劃調整為三府，並且增加一直隸州 (D)直隸州的行政區位置，大約位於今日花蓮、臺東地區。

37.以下關於 17 世紀在臺灣的荷蘭人、漢人、原住民三者之間的關係，何者錯誤？ (L3)

(A)荷蘭人招募漢人來開墾，影響原住民的生存空間 (B)郭懷一因受不了荷蘭的壓榨，便聯合原住民反抗荷蘭
(C)荷蘭透過漢人跟原住民之間的交易，取得大量鹿皮 (D)新港社為對付敵對部落，主動與荷蘭合作。

38.近年來的考古研究發現，在基隆和平島的考古遺址，除了挖掘出教堂的後殿牆基，也發現有歐洲人的墓葬和原住民小孩甕棺。關於這個考古遺址的敘述，以下何者正確？ (L3)

(A)該教堂應為荷蘭人所建立 (B)原住民小孩的身份應為泰雅族
(C)此遺址顯示出大肚王曾統治此地 (D)遺址中所發現的歐洲人是西班牙人。

39.清朝初年清廷官員的報告：「統計臺灣一府，只有臺灣府所屬的地區有夫妻、子女等社會關係，其他諸羅、彰化以上，一直到淡水、雞籠，婦女不及數百人。」請問，造成此社會現象的因素為何？ (L4)

(A)清帝國頒布政策，禁止人民攜家帶眷 (B)羅漢腳全心投入拓墾，無心成家立業
(C)社會上經常動亂，導致婦孺大量死亡 (D)來臺灣移墾工作艱難，婦女難以參與。

40.17 世紀的臺灣原住民，歷經不同的外來者統治，也與漢人有許多接觸，原住民族人的生活產生極大的變化。以下四位同學的說法，哪一位同學所言為真？ (L3)

柏豪：「原住民傳統的生活方式，除採集漁獵外，還會藉由牛來協助耕田」
沛達：「荷蘭人引進最新的生產技術，當地族人便以游耕取代傳統生產模式」
徐欣：「在鄭氏政權統治下，部份原住民的土地遭掠奪，與漢人產生激烈衝突」
辰葳：「清領時期，因政府設置番界隔離漢番，漢人與原住民無任何接觸」

(A)柏豪 (B)沛達 (C)徐欣 (D)辰葳。

【公民部分】範圍：第一冊第三章-第四章 《配分》41~53每題2分；54~60每題1分

41. 菲菲和小波結婚後決定只生一個小孩，並將他取名為檸檬。菲菲是全職的家務勞動者而小波的工作是室內設計師，平常兩人分工合作，一起經營幸福的家庭。下列何者的發言對法律規定和社會變化的理解完全正確?(L3)
- (A)小波:今天是檸檬的20歲生日，但他永遠都會是我的小孩，所以我對他擁有親權。
- (B)菲菲:雖然我沒有在外工作賺錢，但我可以使用小波賺的薪水去學畫插畫、上運動課和買喜歡的點心。
- (C)菲菲的岳母:年輕人的生育觀念變太多了，像菲菲和小波只願生一個小孩，學別人當什麼「頂客家庭」。
- (D)檸檬:小時候爸媽常對我管教過當，當初若根據憲法是可以剝奪他們親權的。
42. 張女兩歲時便遭親生父母棄養，姑姑不忍便獨自扶養她。事業有成後，張女為報答情同母親的姑姑，買了一間房給姑姑和堂弟。親生父母得知後眼紅，要求張女也買房給親弟弟未果，便將張女告上法庭…根據前文，下列敘述何者正確?(L4)
- (A)因為張女的父母並未扶養張女，故張女並沒有繼承遺產之權利(B)若張女親弟弟未成年，張女就有扶養親弟弟的義務。
- (C)張女的父母並未扶養張女，故張女可向法院主張免除扶養義務(D)姑姑有合法收養張女，僅堂弟對姑姑有扶養義務。

※請根據下則新聞報導，回答43至44題。

一名曾經出過健康育兒書籍的陳姓網紅兒科醫師，日前發文討拍，聲稱因過去過分寵溺3兒女，近日開始嚴厲教育卻反被通報家暴。不料事件竟被孩子生母（前妻）爆料，3個孩子根本是被家暴，從四月底開始施暴長達2個月，某次其中2個兒子還在同一天各被呼了50個巴掌還加上用腳踹。眾多學者紛紛跳出來呼籲被害人及生母可採取○○尋求協助…

43. 根據上述新聞，下列何者敘述正確?(L4)
- (A)法不入家門，該家庭成員須依靠個人努力解決家暴問題(B)父母對未成年子女擁有親權，陳醫師並未違反法律規定
- (C)長此以往，小孩成年後可向警察局請求免除扶養的義務(D)父母親行使親權應有限制，避免侵害了子女的人格自尊
44. 關於被害人及其生母可採取○○尋求協助，下列何者錯誤?(L4)
- (A)僅限上班時段，被害人可以撥打113保護專線進行通報(B)生母可直接向地方法院聲請保護令以避免孩子繼續受暴
- (C)被害人及生母可向家庭暴力暨性侵害防治中心尋求協助(D)被害人及生母也可以勇於向身旁的親戚、朋友尋求協助

※請根據下則新聞報導，回答45-46題。

各縣市社會局大力推動老人共餐的據點，鼓勵年長者多多參加，因為「逗陣呷飯」真的是好處良多。有的共餐機構，還會在共餐前帶著做健身操，有益健康亦降低失智風險，比獨自在家吃飯配電視還要好；加上為了減少「獨居老人，病死家中多日」的社會事件，若時常參加共餐，突然某天沒出現時，至少能第一時間警覺有年長者缺席…

45. 根據上文，下列何者發揮之家庭功能與上文相同?(L4)
- (A)政府提供無法生活自理的民眾長期照顧服務(B)各縣市教育局舉辦新住民識字班、生活適應班
- (C)政府協助遭遇重大變故之家庭急難救助申請(D)民眾可向衛生福利部申請生育給付、育兒津貼。
46. 閱讀完上文後，小林想調查政府為了協助家庭發揮功能，還做了哪些政策或措施，請選出正確的配對。(L4)
- (A)讓青年以便宜租金住進老人公寓的青銀共居方案，陪長輩逛街—發揮生育功能
- (B)提供0-2歲兒童家庭托育服務，讓家長安心就業—發揮生育、保護與照顧功能
- (C)讓家庭負責生計責任卻失業者，提供輔導就業與職業訓練服務—發揮教育功能
- (D)制定幼兒教育及照顧法、長期照顧十年計畫—發揮經濟功能

※請根據以下短文回答第47-50題

立法院三讀通過司法院釋字第七四八號解釋施行法後，周志偉決定要帶著前段婚姻所生的小孩悠宇，和男友林建一結婚共組家庭。不料周志偉3年後因意外過世，因此林建一決定收養周志偉9歲的兒子周悠宇。周志偉的母親周陳秀玉女士雖無力照顧孫子悠宇，但對於孫子悠宇被收養，卻無法接受且耿耿於懷。

47. 請問，對周陳秀玉女士來說，在法律上與林建一是否為親屬關係?(L3)
- (A)是，兩人為姻親 (B)是，兩人為擬制血親 (C)否，兩人不是血親 (D)否，兩人在法律上沒有關係。
48. 林建一收養周悠宇後，兩人的家庭生活模式為何?(L3)
- (A)繼親家庭 (B)單親家庭 (C)頂客家庭 (D)隔代教養家庭。
49. 根據題文敘述，如今林建一和周悠宇在法律上的關係為何?(L3)
- (A)姻親 (B)自然血親 (C)法定血親 (D)旁系血親。
50. 被林建一收養後，周悠宇和周陳秀玉女士在法律上的關係為何?(L3)
- (A)直系血親 (B)旁系血親 (C)法定血親 (D)姻親。

51. 2022 年好萊塢男星強尼戴普（Johnny Depp）與前妻安珀赫德（Amber Heard）的世紀法庭之爭也讓家庭暴力議題更為大家所關注，其實不是只有毆打才算是家庭暴力，也沒有性別及年齡的劃分。在我國，政府制定家庭暴力防治法來落實家庭暴力防治，也新增《防止恐怖情人條款》，讓更多家庭成員也納入家暴法保護範圍。下列關於該法的定義與保護對象，何者敘述正確？(L4)
- (A)父母只是不給予子女娛樂費用，也算是家庭暴力(B)頻繁受「生你不如生垃圾」等侮辱不算家庭暴力
(C)小林對未同居男友施暴，男友不屬該法保護對象(D)長期看到兄弟被家暴的女兒亦屬於該法保護對象。
52. 某新聞報導指出：「高雄某超商女店員遭到余姓前男友持水果刀揮砍 30 刀，熱心民眾拿出高爾夫球桿阻擋後，前男友才步行逃離。該店員在急救後表示，是在今年 4 月與對方分手，不過仍遭跟蹤、騷擾而聲請保護令，不料今日發生這樣的事…」根據新聞提及之保護令，下列敘述何者正確？(L4)
- (A)余男只要不傷害女店員，靠近其上班地點不會違反保護令(B)聲請保護令是由社會局來核發，再由警察機關來執行
(C)余男此行為不僅違反保護令，更要負擔法律責任、被判刑(D)余男可藉口關心店員的傷勢，事後頻繁與其進行聯絡
53. 台北大學犯罪學教授沈伯洋和妻子，收養了未滿一歲的孤兒。剛到家時，小孩很沒有安全感，整天黏在媽媽的身上。她不願換尿布也不願洗澡，只要一離開媽媽，便大哭不止。但沈伯洋和妻子並未因此放棄，他們倆花非常多時間安撫和陪伴女兒。「我常常開玩笑，我們家就是三個沒有血緣關係的人，但我們彼此相愛，」沈伯洋為自己一家下了如此註腳。請問，沈伯洋和妻子的作法發揮了何項家庭的功能？(L3)
- (A)生育功能 (B)教育功能 (C)經濟功能 (D)保護與照顧功能。
54. 承第 53 題，沈伯洋和妻子須向至哪個政府機關辦理收養的程序？(L3)
- (A)社會局 (B)警察局 (C)地方法院 (D)戶政事務所。
55. 喬克和小八兩人是國中同學，成年後兩人的身份又變為「連襟」。有關喬克和小八的敘述何者正確？(L3)
- (A)喬克和小八兩人皆未婚 (B)兩人的關係應為配偶的血親的配偶
(C)兩人的配偶剛好是兄弟 (D)在法律上兩人為旁系法定血親。
56. 小詠和爸爸、媽媽、爺爺、奶奶、曾祖母及小詠的其他八個兄弟姊妹及住在一起，請問小詠的家庭型態為何？(L3)
- (A)小家庭 (B)大家庭 (C)折衷家庭 (D)聯合家庭
57. 下列家人之間的對話，何者較能維持家人間的親密關係？(L4)
- (A)媽媽：「她是你妹妹欸！文具給她用一下又沒關係。」(B)爸爸：「父母有管教義務，但不能對你們有身心暴力行為。」
(C)祖父母：「照顧兩老的責任給媳婦就好，她比較懂。」(D)哥哥：「我升學壓力大，家事跟我沒關係，有其他人做就好。」
58. 據衛生福利部 2019 年 15-64 歲婦女生活狀況調查，已婚婦女曾因結婚離職者占 20.9%，主要原因為「準備生育(懷孕)」；已婚婦女曾因生育(懷孕)離職者占 22.7%，主要原因為「準備生育(懷孕)」及「照顧未滿 12 歲兒童」。2019 年已婚婦女曾因結婚或生育(懷孕)離職者，曾復職者均約占 6 成(結婚復職率占 60.6%、生育復職率占 59.9%)，4 成未曾復職而退離職場…根據此生活狀況調查，顯示出何種現象？(L4)
- (A)近年已婚婦女離職率下降，復職率提升，即已達到性別平權(B)目前申請育嬰留職停薪的男性人數成長幅度迅速上升。
(C)女性因家庭因素自願離職，顯示家庭育兒負擔仍以女性為主(D)調查結果顯示傳統「男主外，女主內」想法不復存在。
59. 內政部今年公布 2022 年人口統計數據，人口數為 2326 萬 4640 人，連續 3 年負成長；其中全年新生兒人數僅 13 萬 8986 人，創內政部統計以來新低；死亡人數首逾 20 萬人，也是歷年新高…為了搶救我國生育率，政府擬訂數項解決方案，例如：免費產檢 14 次、提升托育品質、改善就業環境、放寬父母得同時申請育嬰留停等。請根據題幹選出正確的選項。(L4)
- (A)根據上述可以判斷少子化是未來社會才要面對的課題(B)推動平價住宅、實施幼兒免學費計畫等可鼓勵民眾成家生育。
(C)造成少子化原因僅在於經濟能力，政府可針對此著手(D)政府推動各項修法與解決方案僅有發揮保護與照顧的功能。
60. 小韻結婚後，老公阿徹也一起搬進小韻的外婆家住。小韻和阿徹兩人白天都要工作，舅舅和舅媽也都是上班族。所以外婆常常自己在家，但外婆都會準備美味的晚餐等家人回來一起享用。有關小韻家的敘述何者正確？(L3)
- (A)舅舅和舅媽是小韻媽媽的兄弟姊妹 (B)舅舅是阿徹的旁系血親
(C)阿徹是外婆的直系血親 (D)對小韻來說舅媽是血親的配偶。

新北市立永和國民中學 112 學年度第一學期第二次段考 七年級社會科解答

【地理部分】第1-14題，每題2分；15-20題，每題1分，共34分

1	2	3	4	5	6	7	8	9	10
D	C	A	A	A	C	C	A	B	B
11	12	13	14	15	16	17	18	19	20
B	D	D	D	C	B	C	D	B	A

【歷史科】第21～33題，每題2分；34～40題，每題1分，共33分

21	22	23	24	25	26	27	28	29	30
A	D	A	D	A	C	C	B	D	A
31	32	33	34	35	36	37	38	39	40
D	C	C	D	C	A	B	D	A	C

【公民部分】第41~53題，每題2分；54~60題，每題1分，共33分

41	42	43	44	45	46	47	48	49	50
B	C	D	A	A	B	A	B	C	A
51	52	53	54	55	56	57	58	59	60
D	C	D	C	B	C	B	C	B	D