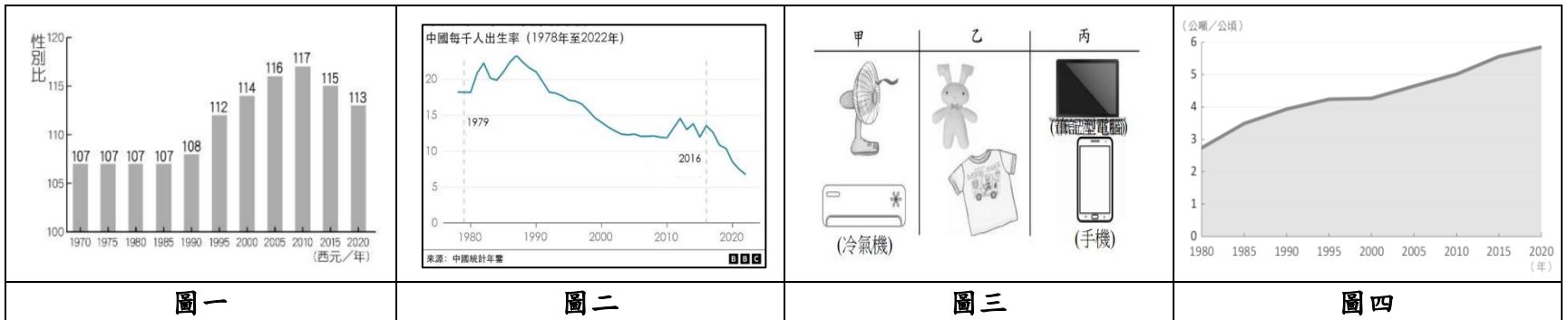


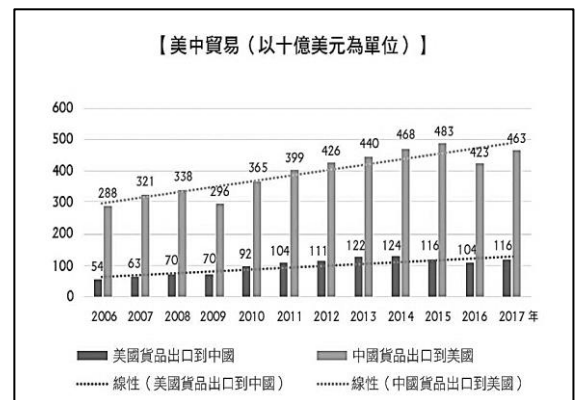
# 新北市立永和國民中學 112 學年度第一學期第二次段考 八年級社會科試題

## 【地理部分】範圍：第三冊 2-3、第三章、第四章

單選題：第 1~14 題每題 2 分，共 28 分；第 15~20 題每題 1 分，共 6 分；總分 34 分



- 中國自 1978 年實施改革開放政策以來，在歷經 40 多年的發展後，從早期的世界工廠轉變為現在的世界市場。上述從「世界工廠」到「世界市場」的轉變，和下列何項因素的關係最大？  
(A)人民消費能力提升 (B)工業生產技術進步 (C)進口商品種類增多 (D)政府經濟政策轉變。
- 圖一為中國新生兒性別比變化圖，根據此圖資訊，下列敘述何者為非？  
(A)由圖可知新生兒男性多於女性 (B)1980 年後的性別變化與一胎化有關  
(C)未來可能有扶養比增加的疑慮 (D)性別比深受傳統重男輕女觀念影響。
- 圖二為 1980-2020 年中國兩次重要人口政策提出後的出生率的變化圖，下列關於此圖敘述何者錯誤？  
(A)自然增加率下降 (B)加速人口老化速度 (C)人口呈現負成長 (D)未來撫養比提高。
- 承上題，1979 年中國之所以實施該項人口政策其主要原因為何？  
(A)高齡化的情況嚴重 (B)撫養比逐年提升  
(C)移入率大於移出率 (D)人口成長壓力大。
- 中國開始實施經濟改革開放政策後，陸續吸引眾多外資廠商到中國設廠。圖三為不同時期主要廠商生產的代表商品，若依時間先後順序排列，下列何者正確？  
(A)甲→乙→丙 (B)乙→甲→丙 (C)丙→乙→甲 (D)乙→丙→甲。
- 圖四為中國單位面積糧食產量統計圖。由圖中顯示中國單位面積糧食產量逐年提高，使中國糧食的需求得到舒緩。上述現象與下列哪一因素的關係最密切？  
(A)農業技術提升 (B)政府獎勵制度  
(C)產業結構改變 (D)農作物多樣化。
- 圖五為 2006 到 2017 年間美國對中國的貿易比較圖，依據此圖推論中美貿易戰發生的原因下列何種說法最為恰當？  
(A)美國對中國長期貿易呈現逆差  
(B)美國對中國貿易大量出超引起中國不滿  
(C)中國加入 RCEP 引起美國不滿  
(D)貿易戰主因美國金融危機引爆貿易虧損。
- 中國近年重大水利工程建設「南水北調」共計有三條路線。請問：施行此項工程的主要目的是下列何者？  
(A)讓中國南北方的航運連結得更好 (B)解決北方水資源不足的問題  
(C)促進黃河水運的發展 (D)利於將南方產品運至北方銷售。
- 遠見雜誌 2020 年曾針對中國人愛吃小龍蝦做過一篇專題報導。文中有一段話提到：「長江中游地區約有 66 萬 7000 公頃的小龍蝦田，而這傳統上，約有一半的土地被用來種植冬季乾旱作物，如今卻成了為了經濟效益而養殖龍蝦，長久下來的影響令專家堪憂。」文中所提到的產業變化主要受到哪一因素影響？  
(A)政府政策推廣 (B)自然環境變遷  
(C)市場需求增加 (D)進口品項多元。
- 中國在 2017 年及 2019 年出現大規模的禽流感及非洲豬瘟等問題，重創相關養殖產業的發展。請問上述相關疫情的發生和中國養殖產業的何種經營特色關係最大？  
(A)專業化飼養 (B)科技化飼養  
(C)粗放式飼養 (D)密集式飼養。



▲ 圖五

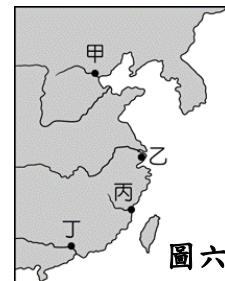
11. 「中歐班列」是指往來於中國與歐洲以及一帶一路沿線各國的貨櫃國際鐵路聯運班列。中國為加強與歐洲國家的商業貿易聯絡，中國政府和中國國家鐵路集團與中亞和歐洲各國鐵系統合作，從起初重慶到德國的杜伊斯堡，發展到國內通達城市 82 個，國外通達歐亞國家的 160 多個城市。下列關於「中歐班列」的敘述，何者正確？

(A)運輸成本較海運低可節省運輸成本 (B)運輸時間比空運短，可提高流通效率  
(C)加速擴大中國東、西區域經濟差異 (D)中國經濟發展重心由沿海擴散到內陸。

12. 工業發展過程中隨著經濟成長，許多工廠因為原先的生產條件出現變化，而轉到其他國家代工生產，形成國際分工的產業鏈。請問：在 1980 年當時，中國吸引外商投資設廠的主要有利條件為下列何者？

(A)勞動成本低廉 (B)消費潛力十足  
(C)生產技術進步 (D)礦產資源豐富。

13. 「這座都市」是中國最大的工、商業城市，地處中國海岸線中點和長江的出海口，將東部沿海與長江流域納為腹地，許多知名國際企業均在此設立分部，工商業與金融業十分發達。上述城市位於圖六中何處？(A)甲 (B)乙 (C)丙 (D)丁。

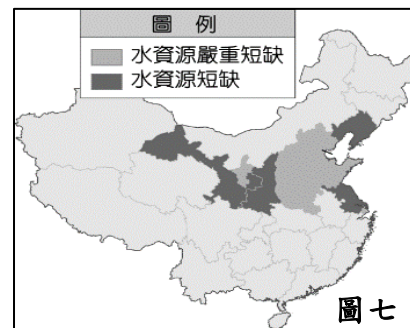


圖六

14. 農業活動中受到自然環境的影響相當大，其中灌溉水源為農業發展必要的條件。然而中國的水資源由於人口增加及工商業的使用，漸趨不足，其分布狀況如圖七所示。

請問：圖中水資源嚴重短缺的地區大多位在何處？

(A)四川盆地 (B)長江中下游平原  
(C)華北平原 (D)珠江三角洲。



圖七

- 題組 圖八為中國一帶一路路線圖，根據此圖回答下列問題：

15. 從 a 城市出發，循著陸上絲綢之路的路線，在中國境內最可能看到何種景象？

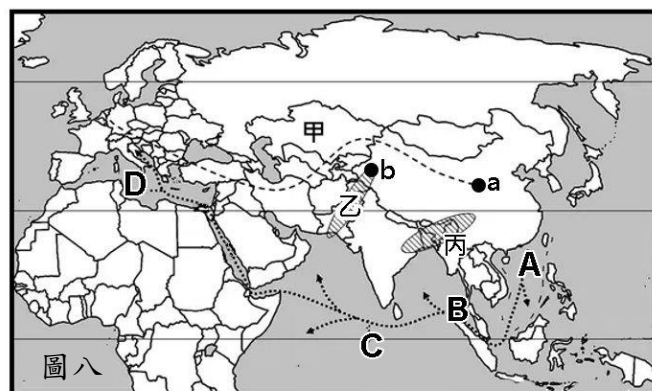
(A)世界最高的鐵路 (B)大規模的棉花田  
(C)黃澄澄的水稻田 (D)防潮架高的屋子。

16. 中國推動此項政策是想藉由參與沿線國家交通、通訊及能源等基礎設施的建設來獲取利益，關於該政策主要目的不包含下列何者？

(A)取得穩定的能源供給 (B)消化國內過剩的產能  
(C)擴大國際貿易的市場 (D)取得糧食作物的供給。

17. 中國在乙處和巴基斯坦合作，建立中巴鐵路，連接 b 城市，b 城市為中國第六個經濟特區，關於此城市的描述下列何者錯誤？

(A)位於西部經濟區 (B)該城市為深圳  
(C)發展以輕工業為主 (D)位置優越，有利於發展邊境貿易。



圖八

- 題組

1980 年代起，中國實施改革開放政策，在沿海設立五個經濟特區，成為中國經濟改革的先驅。改革開放是中國歷史上的重大決策和轉折過程，改變了中國自 1949 年起在經濟上近 30 年較為封閉的狀況，使中國經濟高速發展，人均 GDP 從 1978 年的 115 美元增長到 2022 年的 12741 美元。圖九為最早設立的經濟特區分布圖。請問：

18. 中國最初設立經濟特區時，主要發展產業最可能是下列哪一種類型？

(A)石化工業 (B)服務業 (C)加工出口業 (D)高科技工業。

19. 下列關於經濟特區的特色敘述中，何者錯誤？

(A)以出口為導向 (B)提供資金供外商運用  
(C)提供優惠條款吸引外商 (D)希望引進外來技術促進中國工業升級。

20. 中國為了均衡各區域的發展，自 2000 年起提出多項政策。下列針對各區政策敘述，何者正確？

(A)東部率先發展：利用廉價水電政策，鼓勵外資投入  
(B)東北振興：促進產業轉型，從重工業轉變為輕工業  
(C)中部崛起：以較低廉工資及海運便利條件，吸引外資投入  
(D)西部開發：利用礦產豐富優勢，輸出煤鐵石油到東部



圖九

【歷史部分】範圍：第三冊 第3章~4-2 第21~33題，每題2分；第34~40題，每題1分，共33分

21. 如果你穿越時空來到北宋汴京城，你可能會看到下列何情景？

- (A)美洲白銀流入，以白銀購買物品
- (B)士人研讀《四書集註》，準備科舉
- (C)人民可以在夜市盡情逛街、購物
- (D)漢人、南人階級受到不平等待遇。(L3)

22. 請根據(圖一)的內容判斷，下列何者敘述錯誤？

- (A)此圖與蒙古三次西征有關
- (B)成吉思汗曾參與西征行動
- (C)忽必烈建立元朝後，南下滅南宋
- (D)此圖建立橫跨歐、亞、非三洲的帝國。(L3)



(圖一)

23. 下列歷史名詞的解釋，何者完全正確？

- (A)驛站：始設於宋代，提供信使、官員與旅人歇息的處所
- (B)商幫：明清時期地域性的商人集團，類似清代臺灣的「郊商」
- (C)市舶司：始設於元代，負責管理海上貿易，類似今日的海關
- (D)靖康之禍：北宋靖康年間，遼軍南下攻陷北京，擄走宋朝皇帝。(L3) (L4)

24. 北宋與某草原民族作戰時，皇上親自督軍作戰，結果「眾士兵皆呼萬歲，聲聞數百里，氣勢百倍」，最後雙方簽訂停戰協定。關於上述戰役的敘述，下列何者正確？

- (A)文中的草原民族是契丹族
- (B)督軍作戰的皇帝是宋太祖
- (C)簽定澶淵之盟，雙方君主以君臣互稱
- (D)盟約簽訂後不久，雙方再度連年交戰。(L3)

25. 《回回藥方》是一部以漢文書寫阿拉伯藥方的總匯，大約在13世紀時，大量阿伯文醫藥書籍流入中國，當時在中國的穆斯林便將這些書籍翻譯成漢文。上述的情形，最可能盛行於下列哪一時期？

- (A)秦漢時期 (B)隋唐時期 (C)宋元時期 (D)明清時期。(L3)

26. 宋朝與草原民族聯手合作的外交策略，下列何者正確？

- (A)北宋聯西夏滅遼
- (B)北宋聯金滅蒙古
- (C)南宋聯蒙古滅金
- (D)南宋聯金滅遼國。(L3)

27. (圖二)是小智在課堂報告時所使用的圖片，請問：他應該是介紹中國何時期的科技成就？

- (A)秦漢時期 (B)隋唐時期 (C)宋元時期 (D)明清時期。(L3)

28. 曾有一位歷史學家指出：「從物質生活而言，12世紀的中國，無疑的已經領先全世界。」

上述的論點主要是針對宋代哪一個特色而言？

- (A)兼容並蓄的多元文化
- (B)科技發達與商業興盛
- (C)採取白銀與銅錢並用的商業制度
- (D)自印度引進早熟稻，帶動農業發展。(L3)

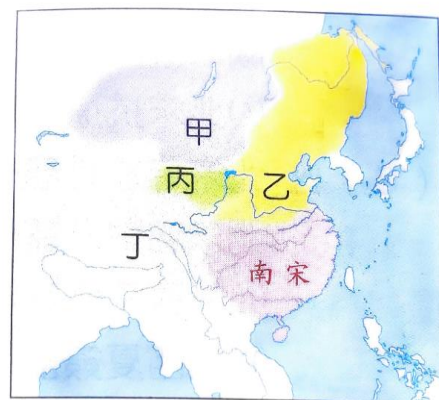
【題組】(圖三)是南宋時期與各民族並立的示意圖，請回答29~30題：

29. 精忠報國的南宋名將岳飛，對抗的外患，位於圖中何處？

- (A)甲 (B)乙 (C)丙 (D)丁。(L3)

30. 圖中哪一區的勢力最後消滅南宋，成為第一個統治整個中國的草原民族？

- (A)甲 (B)乙 (C)丙 (D)丁。(L3)

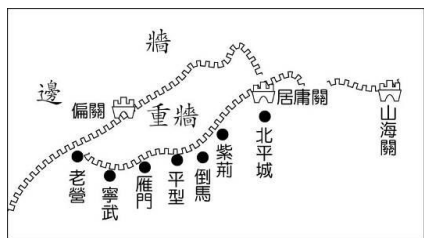


(圖三)

31. 明朝小說家羅懋登著作「三寶太監西洋記」，依據歷史記載、傳聞及雜記有關西洋諸國的記述，在經過想像、誇張、鋪陳，創造出虛構的神魔小說。請問故事中的主角原型應該是哪位人物？

- (A)朱熹(B)鄭和(C)李自成(D)吳三桂。(L4)

32. 長城是中國古代抵禦不同時期草原民族的侵擾, 修築規模浩大的隔離牆或軍事工程的總稱。現存的長城遺址主要是建於 14 世紀的明朝長城, 明朝時又稱為「邊牆」。明初修築邊牆, 也築重牆, 如(圖四)所示。請問: 明初修築圖中這段長城主要目的為何? (A)防止匈奴人攻打(B)抵抗突厥人入侵(C)防範女真人入關(D)防止蒙古人南下。(L4)

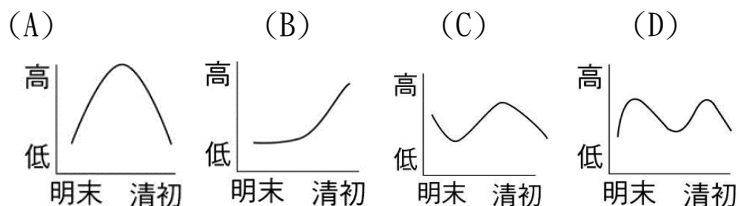


(圖四)

33. 有關明清時期經濟發展的情況, 下列何者正確?

(A)因為實施海禁政策, 與外國沒有貿易往來 (B)交易買賣以紙幣與銅錢並用為主  
(C)玉米、馬鈴薯等農作物經由絲路傳入美洲 (D)瓷器業以江西景德鎮最著名。(L4)

34. 自 15 世紀歐洲新航路發現後, 世界各地的經貿日漸頻繁, 美洲白銀也透過國際貿易流入中國, 下列哪一個趨勢圖顯示出十六至十八世紀白銀在中國流通的變化? (L4)



35. 老師在上課時複習明朝歷史提到「朝貢貿易」, 下列那位同學解釋的內容是正確?

(A)咚咚鼠: 中國為藩屬國, 周邊國家皆為宗主國  
(B)斑斑馬: 只許外國人來華貿易, 中國無論官方或民間都禁止出海貿易  
(C)電電蟲: 只有接受中國冊封, 才能與中國通商  
(D)茸茸羊: 這個政策的目的是, 是要聯合諸國對付主要的外患蒙古。(L4)

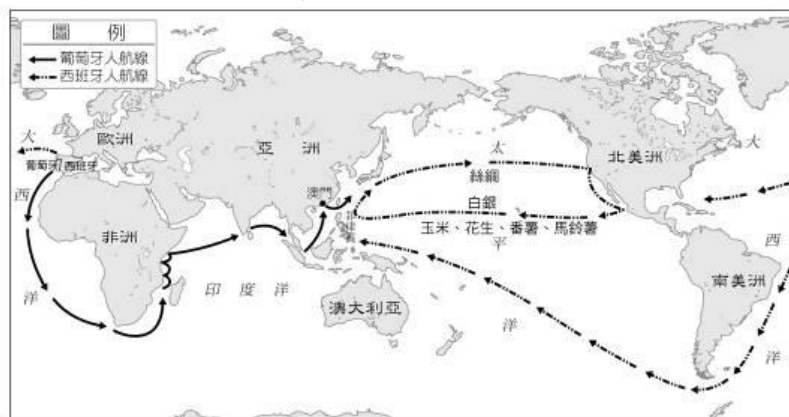
36. 蓋歐卡看到有研究古氣候變遷學者在一篇文章中提到「氣候改變歷史: 唐朝盛世因為「氣候溫暖」, 明末動亂因為「小冰期」」, 認為一個王國或朝代的興衰, 其實只是氣候問題而已, 例如: 唐太宗很英明, 但現在知道唐朝氣候溫暖, 因此唐朝的盛世可能也與此氣候條件有關。又像是明末的年均溫比過往的一百年大概低了 2~3°C, 導致作物連年收成欠佳, 最後讓帝國覆滅。請問: 氣候問題, 正好呼應明末的哪一個問題?

(A)帝位糾紛(B)內政腐敗(C)倭寇掠劫(D)流寇之禍。(L4)

37. 玉米、番薯與馬鈴薯等食物是日常生活中常見的食物, 其實這些食物都不是本土原生種的, 而是從外國交流傳入的食物。請問: 誰說的是正確?: (A)帝牙盧卡: 唐朝時從歐洲傳入 (B)帕路奇亞: 宋朝時從西亞傳入 (C)騎拉帝納: 元朝時非洲傳入 (D)達克萊伊: 明朝時從美洲傳入。(L4)

38. 同學們在讀明朝歷史時常常會分不清楚「流寇」與「倭寇」區別, 請問: 下列敘述何者正確? (A)兩者皆為海禁政策所造成的 (B)兩者皆造成明朝滅亡 (C)流寇為民亂, 倭寇為外患 (D)流寇侵犯南方, 倭寇在北方侵擾。

39. 老師上課時在解說 16 世紀以後全球經濟貿易的網絡圖, 由(圖五)中的路線圖來判斷, 對於中國歷史的發展, 下列敘述何者正確? (A)歐洲國家以白銀購買中國的絲綢、瓷器等商品, 再轉賣至世界各地 (B)玉米、番薯與馬鈴薯等作物傳入, 使得中國人主食習慣改變(C)中國沿海居民開始大量移民至東南亞發展 (D)西班牙、葡萄牙人在中國沿岸建立貿易據點, 獨佔中國市場。(L4)



(圖五)

40. 清朝統治者以少數民族入主中國, 比起蒙古人, 清朝統治者在治理帝國上特別小心謹慎, 一方面採取懷柔政策, 一方面也使用高壓手段。 (甲)強迫漢人薙髮留辮(乙)大興文字獄(丙)由文人指揮軍隊(丁)舉行科舉制度。以上那些清初採用的手段? (A)甲乙丙 (B)乙丙丁 (C)甲丙丁 (D)甲乙丁。(L4)

☆澳洲 2023 年針對原住民權利舉行公投，公投的主要目標是賦予原住民和托勒斯海峽島民在澳洲憲法中的地位，並透過建立一個的原住民諮詢機構，詢問民眾是否同意這項修改建議。而為什麼需要舉辦公投賦予原住民地位？在 1788 年英國在澳洲建立殖民地以前，澳洲原住民已在該地生活了至少 6 萬年。在受英國殖民之後，澳洲原住民遭遇殺害、土地剝奪和飽受外來疾病折磨的困境。1910 年至 1970 年代，澳洲政府實施同化政策，強行將 10 萬名的原住民兒童從原生家庭中分離，並安置於白人家庭中。2008 年，澳洲政府正式向所謂「被偷走的一代」（Stolen Generation）道歉。澳洲憲法具有 122 年歷史的，但全文卻隻字未提原住民。請回答第 41 - 43 題（CH3）

41. 請就上述線索找出澳洲此次公民投票是在行使何種權利？

(A)受益權 - 請願 (B)自由權 - 言論自由 (C)參政權 - 罷免權 (D)參政權 - 複決權。

42. 請就上述線索推究其澳洲公投主要所欲達到何種理想與意境？

(A)種族平等權 (B)言論自由權 (C)落實工作權 (D)進行請願權。

43. 公投前澳洲各地有成千上萬的民眾參與遊行，一名支持「原住民之聲」入憲的民眾發表：「(設立『原住民之聲』是非常重要的，這是為了將澳洲團結起來，特別是為促進和解。我和家人、朋友來到這裡表達支持，並傳遞出一個強而有力的信息，更鼓勵其他人參與這活動。」請問就這位受訪民眾藉著遊行來公開表達自己的意見，展現出何種基本權利？

(A)平等權 (B)自由權 (C)受益權 (D)參政權。

☆白色恐怖受難者在 2011 年要求政府歸還家屬遺書。經過檔案管理局清查，發現屬於個人私人書信檔案有 177 位受難者，其中 112 位有遺書。政治受難者郭慶於 1952 年 4 月 1 日處決，當時年僅 31 歲，處決前的 2 個深夜，陸續寫給妻子遺書，他告訴妻子「夫妻中途而別，請您原諒」，「假如可能，希望您再婚」，4 月 1 日上午 6 時絕筆。其家屬 60 年後才取得遺書。請回答第 44 - 46 題(CH3)

44. 由政治受難者當時被沒收遺書，可知執政政府未能重視到人民的何種權利？

(A)階級平等權 (B)秘密通訊自由 (C)著作自由權 (D)工作權。

45. 在白色恐怖事件中，國家機關在未經正當法律程序之下而濫權逮捕甚至處決受難者，對人權所造成的是何種的侵害？

(A)平等權 (B)財產權 (C)言論自由權 (D)身體(人身)自由權。

46. 若郭慶穿越了時空來到現在的台灣，國家機關在經正當法律程序下宣判，郭慶含冤被判處死刑。請問家屬應該運用何項權利來營救郭慶？

(A)請願權 (B)訴願權 (C)訴訟權 (D)複決權。

47. 今年發生之屏東工廠大火事件，造成 4 名消防員殉職，也燒出消防員設備不足問題，使得甲在質詢行政院長時指出，消防署預算較其他單位低，並呼籲應完善消防員的裝備，如頭盔、通訊設備等，讓第一線消防人員能應付災難。關於甲擔任的公職，下列敘述何者正確？(CH4)

(A)負責審查中央政府總預算 (B)負責審查法律是否違憲  
(C)負責審查中央政府決算 (D)由總統提名立法院同意後任命。

48. 承上題，該事件造成 4 名消防員殉職，應由下列哪一個機關進行後續撫卹工作？(CH4)

(A)司法院懲戒法院 (B)考試院考選部 (C)行政院內政部 (D)考試院銓敘部。

49. 今年三月六福村飼養的東非狒狒逃逸，使得桃園市政府展開圍捕行動，後狒狒因闖入民宅，遭獵槍擊中失血過多而死。農業部是《野生動物保育法》規範之中央主管機關，負有監督地方主管機關野生保育之責任；而桃園市政府在整個事發過程中處理不適當，還任由民眾、媒體圍觀。最終監察委員針對桃園市政府及農業部進行□□。關於□□的描述，何者正確？(CH4)

(A)為彈劾，應交由司法院懲戒法院審理 (B)為糾舉，應交由上級機關命其改善  
(C)為糾正，應交由司法院懲戒法院審理 (D)為糾正，應交由行政機關促其改善。

50. 承上題，上文提起□□的官員之產生方式與下列哪些相同？(甲)行政院院長 (乙)立法院院長 (丙)考試院副院長 (丁)衛生福利部部長 (戊)司法院大法官 (己)司法院法官 (庚)審計長 (CH4)

(A)丙戊庚 (B)丁戊庚 (C)甲丙戊庚 (D)乙丁己庚。

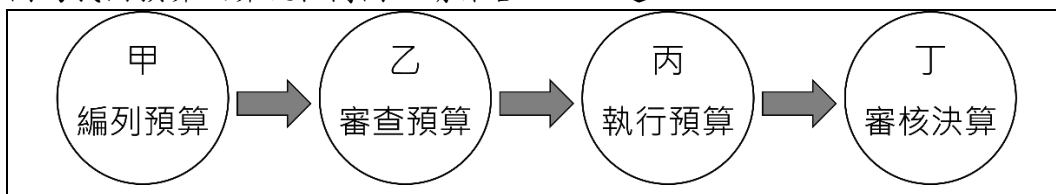
51. 司法院釋字第 748 號解釋確立憲法第 22 條婚姻自由的核心內容，使得同性婚姻成為憲法第 22 條未列舉的基本權利。請推論何者並非憲法第 22 條的意義與動機？(CH3)

(憲法第 22 條：凡人民之其他自由及權利，不妨害社會秩序公共利益者，均受憲法之保障。)

(A)使得憲法對人權的保障能與時俱進 (B)將所有的基本權利，都明列於憲法或增修條文當中  
(C)使得憲法能更有彈性地回應人民的期待 (D)若有環境權、多元文化權也可以根據本條文來擴充。

52. 法國總統馬克宏的政府動用憲法特殊權力，在未經國民議會投票的情況下，強行推動在國會引發激烈爭辯的年金改革法案，掀起全國各地新一波示威潮，而反對黨也針對馬克宏政府提出不信任案。在臺灣，行政權與立法權間也有不信任案制度，請問：下列關於我國不信任案之敘述何者最正確？(CH4)
- (A)行政院對於立法院決議之法案，認為窒礙難行時，得經總統核可提出不信任案  
 (B)由立法院對於行政院長提出，若行政院長不願辭職，可提出覆議反制立法院  
 (C)由立法院對於行政院長提出，行政院長應辭職，但得呈請總統解散立法院  
 (D)如不信任案未獲通過，則半年內不得對同一行政院院長再提不信任案。
53. 司法院釋字第 748 號解釋是大法官對於《民法》婚姻章，未讓同性別二人，得以經營共同生活為目的，成立家庭，是否違反《憲法》所進行的解釋。並在解釋文中表示政府的作為違反《憲法》中人民對於□□和婚姻自由的權利。請就此釋憲案推論□□應為？(CH3)
- (A)請願權 (B)創制權 (C)平等權 (D)生存權。
54. 請從比較三權分立與五權分立的差異中找出錯誤的論述：(CH3)
- (A)皆能避免政府的權力被濫用 (B)目的皆能達到分權制衡  
 (C)前者由艾克頓爵士提出，後者由孫中山先生提出 (D)五權是將考試權從行政權獨立；將監察權從立法權獨立。
55. 下列何者非有限政府的作法與真正精神？(CH3)
- (A)限制政府的權力，以保障人民的權利  
 (B)將政府的權利劃分給不同的機構使其相互制衡  
 (C)政府的權力只能運用於一般公共事務，不得立法限制或侵犯人民的人權  
 (D)政府在權力、職能和規模上都受到憲法的約束。

☆下圖為我國預算決算流程簡圖，請作答 56~58 題：



56. 下列關於甲機關的描述何者正確？(CH4)
- (A)其院長由總統提請立法院同意後任命 (B)其底下之各部會首長由總統直接任命  
 (C)其各部會首長須向立法院提出施政報告 (D)其院長有決定國家安全大政方針之權。
57. 下列關於乙機關的描述何者正確？(CH4)
- (A)擁有憲法修正案之提案權 (B)有審理政府總統彈劾案之權  
 (C)負責提起公務人員彈劾案 (D)其委員任期四年，連選得連任一次。
58. 下列關於丁機關的描述何者正確？(CH4)
- (A)機關委員由人民選舉產生 (B)審查公務人員之資歷、考績  
 (C)負責審理政黨違憲解散案 (D)對公務人員有提起糾舉之權力。
59. 小珍在閱讀國內新聞報導時，發現其中一則新聞有誤，請幫助他找出錯誤的新聞選項：(CH4)
- (A)某立法委員涉及賄選爭議，遭到監察院彈劾 (B)若副總統違法事件調查屬實，將由立法院提出彈劾案  
 (C)某檢察官彈劾案件今天由懲戒法院開庭審理 (D)正副總統罷免案立法院決議通過，將交由選舉人投票複決。
60. 政府日前規畫將已經暫時停止運作的核能發電機組，維持「緊急情況可使用」。總統指出，如果在非常困難的緊急狀況下，也已窮盡了其他能源選項的時候，才會進行這項考慮，重新運作核能發電廠，並會以總統的「緊急命令權力範圍」內處理。根據憲法規定，有關緊急命令的敘述何者正確？(CH4)
- (A)因國共內戰，於民國 38 年發布之戒嚴令屬於緊急命令  
 (B)由總統發布，但發布前，得先經行政院會議決議通過  
 (C)緊急命令為總統職權，故緊急命令於發布後立即生效  
 (D)為避免總統濫權，發布後十日內必須交由司法院追認。

【所有試題到此結束】

新北市永和國民中學 112 學年度第一學期第二次段考八年級社會科解答

【地理科】(1-14題每題2分，15-20題每題1分，共34分)

1	2	3	4	5	6	7	8	9	10
A	C	C	D	B	A	A	B	C	D
11	12	13	14	15	16	17	18	19	20
D	A	B	C	B	D	B	C	B	D

【歷史科】(第 21～33 題，每題 2 分；34～40 題，每題 1 分，共 33 分)

21	22	23	24	25	26	27	28	29	30
C	D	B	A	C	C	C	B	B	A
31	32	33	34	35	36	37	38	39	40
B	D	D	B	C	D	D	C	A	D

【公民部分】(第41-53題每題2分，54-60題每題1分，共33分)

41	42	43	44	45	46	47	48	49	50
D	A	B	B	D	C	A	D	D	A
51	52	53	54	55	56	57	58	59	60
B	C	C	C	B	C	A	D	A	B